

GENEL DEĞERLENDİRME TESTİ - 4

TÜRKÇE Bölümü

1. Bu testte 15 soru bulunmaktadır.

2. Cevaplarınızı, cevap kâğıdının TÜRKÇE Testi için ayrılan kısmına işaretleyiniz.

1. Aşağıdaki kelimelerden hangisinin eş anlamlısının hece sayısı en fazladır?

- A. tabiat B. mesaj
C. dolu D. özlem

2.

kara	ekmek
dolu	asma

Yukarıda verilen kelimelerle ilgili aşağıdakilerden hangisi söylenemez?

- A. Tüm kelimeler kullanıldıkları yere göre farklı anlamlar içerebilir.
B. Kara kelimesinin eş anlamlısı vardır.
C. Ekmek kelimesi bazı cümlelere hareket anlamı katar.
D. Asma kelimesinin zıt anlamlısı vardır.

3.

Misafirlerimizi çok güzel ağırladık.

Yukarıdaki cümlede altı çizili kelimenin yerine aşağıdaki kelimelerden hangisi getirilirse cümlenin anlamında değişme olmaz?

- A. konuklarımızı B. davetlilerimizi
C. dostlarımızı D. arkadaşlarımızı

4.

...	dik	K	en
...	boy	O	acı
...	tatlı	R	kuru
...	yaş	A	eğik

Yukarıdaki kelimeler zıt anlamlılarıyla eşleştirildiği zaman, yukarıdan aşağıya doğru oluşan şifre hangisidir?

- A. karo B. roka C. akor D. orak

5.

1. kuş	2. bahçede	3. dört
4. rengarenk	5. tane	6. ötüşüyordu

Yukarıdaki kelimelerle anlamlı ve kurallı cümle oluşturulacak olursa doğru sıralama nasıl olur?

- A. 4 - 5 - 2 - 1 - 3 - 6
B. 5 - 4 - 3 - 1 - 6 - 2
C. 2 - 4 - 3 - 5 - 1 - 6
D. 2 - 3 - 5 - 4 - 6 - 1

6.



Yukarıdaki kelimeler alfabetik sıraya göre sıralanırsa ilk ve son sıradaki kelimeler hangileri olur?

- A. saygı - şikayet
 B. salgı - salyangoz
 C. salgı - şikayet
 D. şikayet - salgı
7. Aşağıdaki cümlelerden hangisinde büyük harflerin kullanımı ile ilgili hata yapılmıştır?
- A. 29 Ekim 1923'te Cumhuriyet ilan edildi.
 B. Her cuma tiyatroya gideriz.
 C. 20 Aralık perşembe abimin doğum gününü kutlayacağız.
 D. Selin, Ahmet ve ben hafta sonu pikniğe gittik.
8. Aşağıdaki atasözlerinden hangisinde çalışma ile ilgili bir anlam yoktur?
- A. İşleyen demir ışıldar.
 B. Emek olmadan yemek olmaz.
 C. Üzüm üzüme baka baka kararır.
 D. Akan su yosun tutmaz.
9. Aşağıdaki cümlelerden hangisinde daha fazla sayıda ince ünlü harf kullanılmıştır?
- A. İlkbaharın gelişini kutluyoruz.
 B. Beril'le ders çalıştık.
 C. Televizyonda sevdiğim film var.
 D. Öğretmenimiz bugün ödev vermedi.

10.



Yukarıdaki kelime gruplarından hangisi anlam ilişkisi bakımından diğerlerinden farklıdır?

- A. B.
 C. D.

11.

Sezen() arkadaşına ()Neden kapıda bekliyorsun()() dedi.

Yukarıdaki cümlede parantezle belirtilen yerlere sırasıyla hangi noktalama işaretleri gelmelidir?

- A. (.) (.) (?) (.) B. (.) ("?) (?) (.)
 C. (.) ("?) ("?) D. ("?) (.) (?) ("?)

12.

Aşağıdaki ifadelerden hangisi doğrudur?

- A. Alfabemizde her harf ile başlayan kelime vardır.
 B. Bir hece en az iki harften oluşur.
 C. Alfabemizdeki kalın ünlü harf sayısı, ince ünlü harf sayısından fazladır.
 D. Bir hece en fazla dört harften oluşur.

13. Aşağıdaki görsellerden hangisinin ismindeki ince ve kalın ünlü harf sayısı eşittir?



- 14.

14	18	28	25	17

Yukarıda alfabetik sıralamaya göre şifrelenen kelime aldığı ekle birlikte aşağıdaki atasözlerinden hangisinde kullanılmıştır?

- A. İşleyen demir ışıldar.
 B. Davulun sesi uzaktan hoş gelir.
 C. Acele işe şeytan karışır.
 D. Çobansız koyunu kurt kapar.

- 15.

Bu yaz annem, babam ve ben tatile gittik. Abim de bizimle gelecekti fakat işlerini bitiremediği için gelemedi. Tatilde, yeni arkadaşlar edindim. Onlarla çok güzel oyunlar oynadık.

Yukarıdaki metinde tek başına anlamı olmayan kaç sözcük kullanılmıştır?

- A. 3 B. 4 C. 5 D. 6

GENEL DEĞERLENDİRME TESTİ - 4

MATEMATİK Bölümü

1. Bu testte 15 soru bulunmaktadır.

2. Cevaplarınızı, cevap kâğıdının MATEMATİK Testi için ayrılan kısmına işaretleyiniz.

1. "828657" sayısının çözümlenmiş şekli aşağıdakilerden hangisidir?

- A. $(8 \times 100000) + (2 \times 10000) + (6 \times 100) + (5 \times 10) + (7 \times 1)$
B. $(8 \times 100000) + (2 \times 10000) + (8 \times 1000) + (6 \times 100) + (5 \times 10) + (7 \times 1)$
C. $(8 \times 10000) + (2 \times 1000) + (6 \times 100) + (5 \times 10) + (7 \times 1)$
D. $(8 \times 100000) + (2 \times 10000) + (8 \times 1000) + (5 \times 10) + (7 \times 1)$



2. 2582 sayısı ile 6985 sayısının toplamının yüzler basamağındaki rakamın basamak değeri ile aşağıdaki sayılardan hangisinin yüzler basamağındaki rakamın basamak değeri aynıdır?

- A. 968425 B. 96825
C. 1485 D. 7585

3. "369623" sayısının yüz binler basamağındaki rakam 3 artırılıp, on binler basamağındaki rakam ise 2 artırılıyor. Oluşan yeni sayı kaçtır?

- A. 599623 B. 369843
C. 689623 D. 689601




4.

		
Y	O	B

Yukarıda modellenen sayının birler basamağından 2 daire alınıp onlar basamağına koyulduğu zaman sayının son hali nasıl olur?

- A. 403 B. 423
C. 421 D. 621

5.

6	12	9		12
	15		18	24

Yukarıdaki örüntüde ,  ve  sembollerinin yerine gelmesi gereken sayıların toplamı kaçtır?

- A. 33 B. 54 C. 62 D. 71

6.

1 - 6400

2- 7400

3 - 7400

4 - 6400

Yukarıdaki sayılardan birinci ve dördüncüsü en yakın onluğa, ikinci ve üçüncüsü en yakın yüzlüğe yuvarlanmıştır. Buna göre bu sayılarla ilgili aşağıda verilen bilgilerden hangisi yanlıştır?

- A. 1. sayı onluğa yuvarlanmadan önce 6549 sayısı olabilir.
 B. 1. ve 3. sayılar yuvarlama yapılmadan önce birbirine eşit olabilir.
 C. 2. sayı yuvarlama yapılmadan önce 7389 sayısı olabilir.
 D. 4. sayı yuvarlama yapılmadan önce 6451 sayısı olabilir.

7.

Aşağıda toplama işlemlerinden hangisinin sonucu en büyüktür?

- A.
$$\begin{array}{r} 4852 \\ +3655 \\ \hline \end{array}$$
- B.
$$\begin{array}{r} 4526 \\ +5262 \\ \hline \end{array}$$
- C.
$$\begin{array}{r} 5632 \\ +2562 \\ \hline \end{array}$$
- D.
$$\begin{array}{r} 6985 \\ +1785 \\ \hline \end{array}$$

8.



Yukarıdaki rakamlarla oluşturulacak en büyük 5 basamaklı sayının, binler bölümündeki rakamların toplamı kaçtır?

- A. 16 B. 17 C. 19 D. 20

9.

9. Alî'nin okul numarası ile ilgili aşağıdaki bilgileri verilmiştir.
- 6 basamaklı bir doğal sayıdır.
 - Yüzler basamağının basamak değeri 400'dür.
 - Yüz binler basamağı ile onlar basamağı aynıdır.
 - Birler bölümündeki rakamların sayı değeri toplamı, binler bölümündeki sayıların sayı değeri toplamlarından büyüktür.

Buna göre Alî'nin okul numarası aşağıdakilerden hangisi olabilir?

- A. 67369 B. 493345
 C. 673469 D. 674369

10.

- A 845468 B 99199
 C 852452 D 725963

Yukarıdaki sayıların büyükten küçüğe sıralaması aşağıdakilerden hangisidir?

- A. $A < B < D < C$
 B. $B > C > D > A$
 C. $C < B < D < A$
 D. $C > A > D > B$

11.

Ahmet 2500'den başlayarak biner biner 7 sayma yapıyor. Sonra kaldığı yerden yüzer yüzer 6 sayma yapıyor. Ahmet'in son söylediği sayı kaçtır?

- A. 8900 B. 9000
 C. 9100 D. 9200

12.

A Marka	B Marka
252896	32525
C Marka	D Marka
562856	92852

Yukarıda ülkemizde bazı araba markalarının sattığı araba sayıları verilmiştir. Buna göre markaların satış sayısı ile ilgili aşağıdakilerden hangisi söylenemez?

- A. Tüm sayıların binler basamağındaki rakam aynıdır.
- B. En çok C marka araba satılmıştır.
- C. D markanın satış sayısının binler bölümünün rakamlar toplamı 14'tür.
- D. B marka arabanın satış sayısının yüzler ve birler basamağı aynıdır.

13.

8 - 15 - 12 - 19 - 16 - 23 - 20

Yukarıda örüntünün kuralı aşağıdakilerden hangisidir?

- A. +6, -3
- B. +3, -7
- C. +7, -3
- D. +7, -4

14.



Selin, "63462" sayısını resimli kartları üst üste koyarak yukarıdaki gibi basamaklarına ayırmıştır. Selin'e "84595" sayısını basamaklarına ayırmak için bu kartlara ek olarak toplam kaç resimli kart gerekir?

- A. 7
- B. 8
- C. 9
- D. 10

15.



Ömer'e verilen sayının en yakın yüzlüğe yuvarlanmış şekli 5800'dür.



Aliye verilen sayının en yakın onluğa yuvarlanmış şekli 6780'dir.



Yusufa verilen sayının en yakın yüzlüğe ve onluğa yuvarlanmış şekli 600'dür.

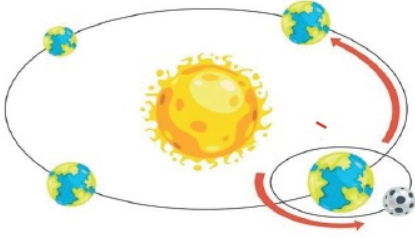
Yukarıdaki çocuklara veriliş onluğa ve yüzlüğe yuvarlatılan sayıların onlar basamaklarındaki rakamların toplamı en az kaç olabilir?

- A. 9
- B. 10
- C. 11
- D. 12

1. Bu testte 10 soru bulunmaktadır.

2. Cevaplarınızı, cevap kâğıdının FEN BİLİMLERİ Testi için ayrılan kısmına işaretleyiniz.

1.



Aşağıdakilerden hangisi Dünya'nın yukarıdaki hareketi sonucu oluşur?

- A. Mevsimlerin oluşması
- B. Gün içerisinde sıcaklık farkları
- C. Günlerin oluşumu
- D. Yerel saat farklılıklarının oluşması

2.

Aşağıdaki ifadelerden hangisi yanlıştır?

- A. Kayaçların içeriğinde çeşitli mineraller vardır.
- B. Cıva, katı bir madendir.
- C. Madenler bir ülke ekonomisi için çok büyük öneme sahiptir.
- D. Dünya'nın en büyük bor rezervi ülkemizde bulunmaktadır.

3.

Türkiye'de saat 19:00 iken Almanya' da saatin 17:00 olduğu bilinmektedir.

Yukarıda verilen bilgiye göre aşağıdaki yorumlardan hangisi yapılamaz?

- A. Almanya, Türkiye'den daha batıda yer almaktadır.
- B. Almanya'da, Güneş daha geç doğar.
- C. Türkiye'de saat 23:30 iken, Almanya'dan saat 21:30 olur.
- D. Türkiye gün boyunca Almanya'dan daha sıcak olur.

4.







Yukarıda incelenen varlık ile ilgili aşağıdakilerden hangisi söylenemez?

- A. Çok uzun bir zaman diliminde oluşan canlı varlık kalıntısıdır.
- B. Fosil olarak adlandırılır.
- C. Canlılık özelliğini kaybetmemiştir.
- D. Geçmiş ile ilgili fikir üretilmesini sağlar.

5.

Aşağıdaki canlılardan hangisine yönelik bilgileri sadece fosil kaynaklar sayesinde öğrenebiliriz?

- A. 
- B. 
- C. 
- D. 

6. Aşağıda bazı madenlerin ülkemizde çıkarıldıkları yerler verilmiştir. Verilen yerlerden hangisi yanlıştır?

A. Boksit - Konya

B. Altın - İzmir

C. Linyit - Kahramanmaraş

D. Petrol - Mersin

7. Aşağıdaki ifadelerden hangisi yanlıştır?

- A. Dünya, kendi etrafında dönme hareketini 24 saatte tamamlar.
- B. Dünya'nın, Güneş etrafında dönmesi sonucu mevsimler oluşur.
- C. Dünya'nın, Güneş'e yakınlığı yörüngesinden dolayı farklılık gösterebilir.
- D. Dünya, Güneş'e en yakın konumdayken, Dünya'nın her bölgesinde gündüz vakti yaşanır.

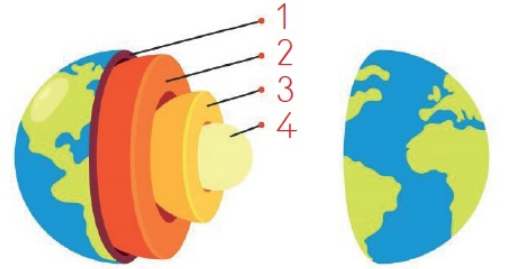
8.



Yukarıda Dünya'nın, Güneş'e göre konumuna bakarak aşağıdaki yorumlardan hangisi yapılamaz?

- A. Dünya'nın bir kısmında gündüz yaşanmaktadır.
- B. Güneş ışınları, Dünya'nın şekli dolayısıyla her yere ulaşamamaktadır.
- C. Dünya'nın, gündüzü yaşayan yerlerinde sıcaklık farklılıkları yoktur.
- D. Dünya'nın bir kısmı geceyi yaşamaktadır.

9.



Yukarıda verilen Dünya modelinde, işaretlenen Dünya'nın katmanlarının doğru sıralanışı aşağıdakilerden hangisidir?

	1	2	3	4
A.	Manto	Yer Kabuğu	İç Çekirdek	Dış Çekirdek
B.	Yer Kabuğu	Manto	İç Çekirdek	Dış Çekirdek
C.	Yer Kabuğu	Manto	Dış Çekirdek	İç Çekirdek
D.	Manto	İç Çekirdek	Yer Kabuğu	Dış Çekirdek

10. Dünya'nın, kendi etrafındaki dönüş yönü aşağıdaki şıklardan hangisinde verilmiştir?
- A. Doğudan batıya
 - B. Batıdan doğuya
 - C. Güneyden kuzeye
 - D. Kuzeyden güneye

1. Bu testte 10 soru bulunmaktadır.

2. Cevaplarınızı, cevap kâğıdının SOSYAL BİLGİLER Testi için ayrılan kısmına işaretleyiniz.

1. Aşağıdaki ifadelerden hangisi yanlıştır?

- A. Bir şeyi tam anlamadan tepki vermek arkadaşlık ilişkilerini zayıflatır.
- B. Engelli bireylere yardım edilmelidir.
- C. Bir işe başlarken çevremizdeki insanlardan fikir alınmamalıdır.
- D. Kişilerin ilgi alanları arasında farklılıklar olabilir.

2.

Kin	Hoşgörü
Sabır	Nefret
Saygı	Bencillik

Yukarıdakilerden kaç tanesi kişiler arasında olumsuz ilişkiler oluşmasına neden olur?

- A. 2
- B. 3
- C. 4
- D. 5

3.



Sadece yukarıdaki görselden yola çıkarak Hasan ile ilgili aşağıdaki yorumlardan hangisi yapılamaz?

- A. Hasan kedileri sevmektedir.
- B. Gitar çalmak Hasan'ın, ilgi alanıdır.
- C. Hasan, günün büyük bir kısmını kitap okuyarak geçirir.
- D. Hasan okulda Müzik Klübü'nde görev alıyor olabilir.

4.

Sedat kendisini tanıtırken sarı saçlıyım, uzun boyluyum ve hafif kiloluym demmiştir.

Buna göre Sedat, hangi özelliklerden bahsetmiştir?

- A. Sosyal özelliklerinden
- B. Fiziksel Özelliklerinden
- C. Yeteneklerinden
- D. Zihinsel Özelliklerinden

5.



Selin ve Ceren boş zamanlarda genel olarak birlikte yukarıdaki etkinliği yapmaktadırlar. Buna göre aşağıdakilerden hangisi söylenemez?

- A. Selin ve Ceren'e okulda Müzik Klübünde görev alıyor olabilirler.
- B. Selin ileride konservatuara gidebilir.
- C. İkisi de ileride müzisyen olmak istemektedirler.
- D. Şarkı söylemek Ceren'in ilgi alanıdır.

6.



● 8 Eylül 2005'de liseye başladım.

■ 16 Ağustos 1994'te yürümeye başladım.

◆ 28 Eylül 1992'de doğdum.

▲ 15 Eylül 1999'da ilkökula başladım.

Yukarıda Hasan'ın hayatındaki önemli gelişmeler karışık olarak verilmiştir. Verilenlere göre olayların kronolojik sıralaması aşağıdakilerden hangisidir?

- A. ● ■ ◆ ▲
- B. ◆ ■ ▲ ●
- C. ● ▲ ● ■
- D. ▲ ◆ ■ ●

7.

Yaşanmış olayların, oluş sıralamasına göre sıralanması şeklinde ifade edilen kavram aşağıdakilerden hangisidir?

- A. Anı
- B. Paleontoloji
- C. Kronolog
- D. Kronoloji

8.



Tanıdıklarımla ilgili karar alırken kendimi onların yerine koyarım. Öyle karar veririm.

Merve'nin yukarıdaki açıklamasını anlatan kavram aşağıdakilerden hangisidir?

- A. Sabırlı olma
- B. Çekingen olma
- C. Empati kurma
- D. Utangaç olma

9.

Ülkemizde verilen eski ve yeni kimlik kartıyla ilgili aşağıda verilen bilgilerden hangisi yanlıştır?

- A. Her ikisinde T.C. kimlik numarası, ad, soyad ve baba adımız bulunur.
- B. Yeni kimlik kartında bir çip bulunur.
- C. Her iki nüfus cüzdanında adres bilgimiz yer almaz.
- D. Yeni kimlik kartımızın ön tarafında anne ve baba adı yer alır.

10.

Pasaport

Otobüs kartı

Öğrenci kimliği

Ehliyet

18 yaşından küçük olan bir ülke vatandaşı, yukarıdaki kimlik belgelerinden kaç tanesine sahip olabilir?

- A. 1
- B. 2
- C. 3
- D. 4

1. Bu testte 10 soru bulunmaktadır.
2. Cevaplarınızı, cevap kâğıdının İNGİLİZCE Testi için ayrılan kısmına işaretleyiniz.

1.



- A) Be quiet please!
B) Turn off the light!
C) Turn around!
D) Come in!

2.

A: Give me the ruler, please!
B: _____ .
A: Thank you very much.

- A) Yes, you may
B) Here you are
C) I don't have a ruler
D) Thank you

3.

A: Can I have your eraser?
B: Of course, _____ .
A) join me B) here you are
C) leave it D) give me

4.

A: May I stay in the class?
B: _____ .
A: Thank you.

- A) Turn around B) Excuse me
C) Say that again D) Sure

5.



- A) Read your book!
B) Turn on the light!
C) Clean the board!
D) Open the window!

6.

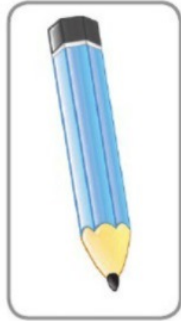
Leave _____ .

- A) the book
B) the notebook
C) the classroom
D) the chalk




7. A: Have you got a glue and scissors?
 B: No, _____ .
 A) I have got
 B) sure
 C) I haven't
 D) I am

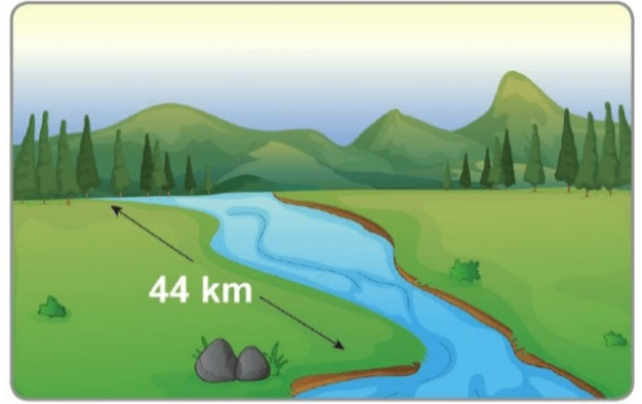
8. A: Is this a pen or a pencil?
 B: _____ .
 A) It is a pen
 B) It is a pencil
 C) It isn't
 D) Yes, it is



9. Read _____ .
 A) the book
 B) the duster
 C) the crayon
 D) the pencil



10.



How long is this river?

- A) Forty km. B) Forty-four km.
 C) Fourteen km. D) Four km.