

20 NİSAN 2020

**ÖĞRENCİ
GÖREVLERİ**



nihalkaralikorkmaz

BU ÖZELLİKLER HANGİ VARLIĞA AİT?

Aşağıdaki verilen özelliklere uygun üç varlık bulun. Varlıkların adını yazın.
Daha sonra yazdığınız varlıkları özellikleri ile birlikte cümlede kullanın.

ÖRNEK

taze

simit Mis gibi taze simit kokusu geliyor.

ekmek Kahvaltıda taze ekmek yemeyi çok seviyorum.

meyve Annem taze meyve almak için pazara gitti.

1-

mavi

.....

.....

.....

2-

ekşi

.....

.....

.....

3-

yüksek

.....

.....

.....

4-

çeyrek

.....

.....

.....



ÖZELLİKLERE UYGUN VARLIKLARI ÇİZİYORUZ 😊

Aşağıdaki verilen özelliklere uygun varlıkları çizin.

Benim ilk öğretmenim her zaman güler yüzlüydü. Yeşil gözleri bize her zaman gülümserdi. Kahverengi uzun saçlarını hiç toplamazdı. Kısa boylu ve zayıf bir kadındı.

Haydi söylediğim özelliklere göre öğretmenimi çiz.

Benim bir yastığım var. Her zaman onunla uyur, ondan başka bir yastıkta uyuyamam. Yastığımda iki beyaz papatya, iki tane pembe gül ve bir tane kırmızı lale var. Nasıl yumuşak bir yastık olduğunu görerseniz, sizde onu çok seversiniz.

Haydi söylediğim özelliklere göre yastığımı çiz.

Dün işten eve dönerken yağmura yakalandım. Hemen ilk gördüğüm dükkandan bir şemsiye aldım. Mavi renkli ve yıldız desenli şemsiyem sayesinde ıslanmadan evime gelebildim.

Haydi beni yağmurdan koruyan şemsiyemi özelliklerine göre çiz.



ŞİMDİ SIRA SENDE

Bana en sevdiğin oyuncakını özellikleri ile anlat. Bende hayal edeyim 😊

Bana sınıfta en sevdiğin arkadaşını özellikleriyle anlat.
Bende en sevdiğin arkadaşını tahmin etmeye çalışayım 😊



nihalkaralikorkmaz

SAATİ AYARLAYALIM

Aşağıdaki bilgileri matematik defterinize yazın.



Saat 3

bir saat önce



Saat 4

bir saat sonra



Saat 5











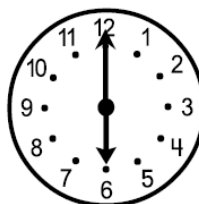
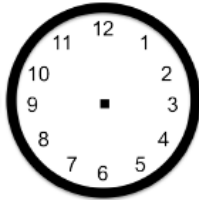
Saatleri ileri ya da geriye doğru ayarlarken söylenene göre yelkovanı **tam**, **yarım** ve **çeyrek** tur ileriye veya geriye hareket ettiririz.

Saatleri ileri ya da geri hareket ettirirken, akrebi yelkovanın hareketine göre hareket ettirmeyi unutmamalıyız.

Aşağıdaki saatlerin gösterdiği zamandan bir saat öncesi ve bir saat sonrasını saatlerin üzerinde çizerek gösterelim.

bir saat öncesi

bir saat sonrası



nihalkaralikorkmaz

SAATİ AYARLAYALIM


Aşağıdaki saatlerin yarım saat öncesi ve sonrasının kaç gösterdiğini yazalım.

ÖRNEK

yarım saat önce


yarım saat sonra

02:45

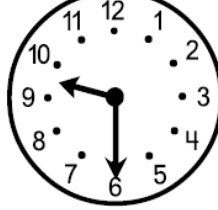


03:45


: :




: :



: :



: :




Aşağıdaki saatlerin çeyrek saat öncesi ve sonrasının kaç gösterdiğini yazalım.

ÖRNEK

çeyrek saat önce


çeyrek saat sonra

07:00




07:30


: :



: :



: :



: :

