

06 MAYIS 2020

**ÖĞRENCİ
GÖREVLERİ**

😊Sizin Başarınız Benim Mutluluğumdur😊



nihalkaralikorkmaz

CÜMLEDEN NE SONUÇ ÇIKARDIM?

Türkçe defterine cümleleri yazınız ve okuyunuz.


Cümleden çıkaramayacağımız sonucun yazdığı ifadeyi işaretleyin.

1

Sınıfın havalanması için camı açtım.

Sınıf havasız kalmıştır.

Sınıfın camları açıktır.

Sınıfın kapısı açıktır. 

2

Dedem köyden yarın gelecek.

Dedesi köydedir.

Dedesi köyde tek başınadır.

 nihalkaralikorkmaz
Instagram

Dedesi daha gelmemiştir.

3

Selim, okulun ilk günü olduğu için çok heyecanlıydı.

Okulun ilk günüdür.

Selim çok heyecanlıdır.

Selim heyecandan titriyordur.

4

Kardeşim ve ben haftada iki gün futbol kursuna gidiyoruz.

Futbol kursuna hafta sonu gidiyor.

Kardeşi futbol kursuna gidiyor.

Futbol kursuna gidiyor.

5

Manavdan aldığım biberler çok acı çıktı.

Manava gitmiştir.

Aldığı biberler çok acıdır.

Manavdan sadece biber almıştır.

6

Hafta sonu annemle sinemaya gideceğiz.

Zaman hafta içidir.

Sinemada çizgi film izleyecekler.

Annesi de sinemaya gidecektir.

7

Evimize giren hırsız, annemin altınlarını çaldı.








Annesi hırsızları görmüş.

Annesinin altınları artık yoktur.


Evlerine hırsız girmiştir.

PARALARIMIZ ÇALIŞMAMIZ

Aşağıdaki menüyü inceleyelim.

	Hamburger 11 TL	 nihalkaralikorkmaz		Su 1 TL
	Pizza 12 TL			Meyve Suyu 3 TL
	Döner 9 TL			Kola 4 TL


Aşağıda çocukların sahip oldukları paralar ve aldıkları ürünler verilmiştir. Size sorulan soruları işlem yaparak bulunuz.



Pizza, kola ve su aldım.
Cüzdanımda 1 tane 10 TL ve 4 tane 50 kr. var.
Ne kadar param var? Kaç TL harcadım? Kalan param ne kadar?



İki hamburger ve bir meyve suyu aldım.
Cüzdanımda 1 tane 20 TL ve 2 tane 5 TL var.
Ne kadar param var? Kaç TL harcadım? Kalan param ne kadar?



Döner, su ve meyve suyu aldım.
Cüzdanımda 10 tane 1 TL ve 2 tane 5 TL var.
Ne kadar param var? Kaç TL harcadım? Kalan param ne kadar?

PARALARIMIZ ÇALIŞMAMIZ

Kumbaralardaki paralarını örnekteki gibi gösteriniz.

İstediğiniz parayı kullanabilirsiniz.

ÖRNEK



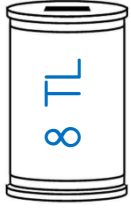
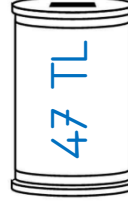
1 tane 10 TL

+

2 tane 5 TL

+

5 tane 1 TL




Aşağıdaki problemleri dikkatli bir şekilde çözünüz.




PROBLEM 1: Buse, annesinden her gün 4 TL harçlık alıyor. Buse'nin bir haftalık harçlığı kaç TL'dir?



PROBLEM 2: Dedem bayramda 27 TL harçlık verdi. 2 kardeşim ve ben dedemin verdiği parayı eşit olarak paylaştık. Her birimize kaç TL düşer?



PROBLEM 3: Tanesi 50 kr. olan şekerlerden 6 tane aldım. Satıcıya 5 TL verdim. Kaç tane para üstü alırım?
(1TL= 100 kr.)



PROBLEM 4: Ersin, kumbarasındaki paraları sayıyor. Kumbarasından değeri en az olan kağıt paradan 6 tane, değeri en çok olan madeni paradan 8 tane çıkıyor. Ersin'in kumbarasında kaç TL vardır?



nihalkaralikorkmaz