




## VERİ TOPLAMA

1.Etkinlik: Tabloyu inceleyelim. Soruları tabloya göre cevaplayalım.

Arda'nın Oyuncakları Tablosu			
Oyuncaklar			
Sayısı	7	3	4

Arda'nın .... tane  var.

Arda'nın .... tane  var.

Arda'nın .... tane  var.

Arda'nın en fazla oyuncuğu hangisidir? .....




Arda'nın en az oyuncuğu hangisidir? .....

Arda'nın toplam kaç oyuncuğu vardır? .....

Arabalar ayılardan kaç tane fazladır? .....



2.Etkinlik: Tabloyu inceleyelim. Soruları tabloya göre cevaplayalım.

Tabaktaki Meyveler Tablosu			
Meyveler			
Sayısı	3	8	6

Tabakta .... tane  var.

Tabakta .... tane  var.


Tabakta .... tane  var.

Tabakta en fazla hangi meyve var? .....

Tabakta en az hangi meyve var? .....

Tabakta toplam kaç meyve vardır? .....

Çilekler elmalardan kaç tane fazladır? .....



2.Etkinlik: Tabloyu inceleyelim. Soruları tabloya göre cevaplayalım.

Sınıfta Spor Kurslarına Giden Öğrenciler Tablosu			
Kurslar			
Sayısı	4	6	9

Sınıfta .... Tane  var.

Sınıfta .... tane  var.

Sınıfta .... tane  var.

Sınıfta en fazla öğrenci hangi kursa gidiyor? .....

Sınıfta en az öğrenci hangi kursa gidiyor? .....

Sınıfta toplam kaç öğrenci kursa gidiyor? .....

Futbol kursuna gidenler yüzme kursuna gidenlerden kaç tane fazladır? .....

