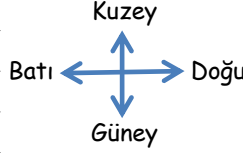


## YÖNLER

### Numaralı Taşlar

1	2	3	4	5	6	7	8
9	10	11	12	13	14	15	16
17	18	19	20	21	22	23	24
25	26	27	28	29	30	31	32
33	34	35	36	37	38	39	40



- 3) Reyhan 39 numaralı taşın üzerinde durmaktadır. 6 adım batıya, 2 adım kuzeye, 7 adım doğuya ve 1 adım güneye ilerledikten sonra hangi taşa ulaşır?
- 4) Elifnaz 2 numaralı taşın üzerinde durmaktadır. 4 adım doğuya, 1 adım güneye, 3 adım batıya ve 1 adım kuzeye ilerledikten sonra hangi taşa ulaşır?
- 5) Aslı 15 numaralı taşın üzerinde durmaktadır. 1 adım doğuya, 1 adım güneye, 7 adım batıya ve 2 adım kuzeye ilerledikten sonra hangi taşa ulaşır?
- 6) Esila 18 numaralı taşın üzerinde durmaktadır. 3 adım doğuya, 1 adım güneye, 1 adım batıya ve 3 adım kuzeye ilerledikten sonra hangi taşa ulaşır?

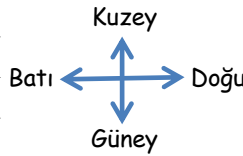
- 1) Kıvanç 23 numaralı taşın üzerinde durmaktadır. 4 adım batıya, 2 adım güneye, 1 adım doğuya ve 4 adım kuzeye ilerledikten sonra hangi taşa ulaşır?
- 2) Azra 20 numaralı taşın üzerinde durmaktadır. 1 adım batıya, 2 adım kuzeye, 3 adım doğuya ve 2 adım güneye ilerledikten sonra hangi taşa ulaşır?

**Kontrol için doğru cevaplardaki sayıları topla. Toplamı 66 ise aferin sana!**

## YÖNLER

### Numaralı Taşlar

1	2	3	4	5	6	7	8
9	10	11	12	13	14	15	16
17	18	19	20	21	22	23	24
25	26	27	28	29	30	31	32
33	34	35	36	37	38	39	40



- 3) Süeda 26 numaralı taşın üzerinde durmaktadır. 1 adım batıya, 1 adım güneye, 2 adım doğuya ve 3 adım kuzeye ilerledikten sonra hangi taşa ulaşır?
- 4) Serhat 6 numaralı taşın üzerinde durmaktadır. 2 adım doğuya, 3 adım güneye, 6 adım batıya ve 2 adım kuzeye ilerledikten sonra hangi taşa ulaşır?
- 5) Kıvanç 25 numaralı taşın üzerinde durmaktadır. 2 adım doğuya, 1 adım güneye, 1 adım batıya ve 3 adım kuzeye ilerledikten sonra hangi taşa ulaşır?
- 6) Azra 38 numaralı taşın üzerinde durmaktadır. 2 adım batıya, 2 adım kuzeye, 1 adım doğuya ve 1 adım güneye ilerledikten sonra hangi taşa ulaşır?

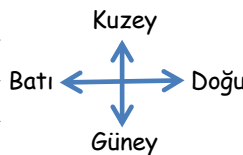
- 1) İbrahim 17 numaralı taşın üzerinde durmaktadır. 7 adım doğuya, 1 adım kuzeye, 1 adım batıya ve 1 adım güneye ilerledikten sonra hangi taşa ulaşır?
- 2) Beyza 25 numaralı taşın üzerinde durmaktadır. 1 adım doğuya, 1 adım güneye, 1 adım batıya ve 4 adım kuzeye ilerledikten sonra hangi taşa ulaşır?

**Kontrol için doğru cevaplardaki sayıları topla. Toplamı 84 ise aferin sana!**

## YÖNLER

### Numaralı Taşlar

1	2	3	4	5	6	7	8
9	10	11	12	13	14	15	16
17	18	19	20	21	22	23	24
25	26	27	28	29	30	31	32
33	34	35	36	37	38	39	40



- 3) İsa 33 numaralı taşın üzerinde durmaktadır. 4 adım doğuya, 3 adım kuzeye, 4 adım batıya ve 2 adım güneye ilerledikten sonra hangi taşa ulaşır?
- 4) Zeynep 13 numaralı taşın üzerinde durmaktadır. 2 adım doğuya, 3 adım güneye, 1 adım batıya ve 4 adım kuzeye ilerledikten sonra hangi taşa ulaşır?
- 5) Şeyma 1 numaralı taşın üzerinde durmaktadır. 4 adım doğuya, 3 adım güneye, 3 adım batıya ve 3 adım kuzeye ilerledikten sonra hangi taşa ulaşır?
- 6) Ecenur 24 numaralı taşın üzerinde durmaktadır. 5 adım batıya, 2 adım güneye, 5 adım doğuya ve 1 adım kuzeye ilerledikten sonra hangi taşa ulaşır?

- 1) Mina 6 numaralı taşın üzerinde durmaktadır. 2 adım doğuya, 2 adım güneye, 2 adım batıya ve 1 adım kuzeye ilerledikten sonra hangi taşa ulaşır?
- 2) Reyhan 5 numaralı taşın üzerinde durmaktadır. 3 adım doğuya, 1 adım güneye, 6 adım batıya ve 1 adım kuzeye ilerledikten sonra hangi taşa ulaşır?

**Kontrol için doğru cevaplardaki sayıları topla. Toplamı 81 ise aferin sana!**