

İŞLEM OKLARI (Zincirleme İşlemler)

Başta verilen sayıyı işlem oklarından geçir, cevabı bul ve işaretle.

$$129 \xrightarrow{\times 6} \boxed{} \xrightarrow{- 120} \boxed{} \xrightarrow{\div 2} \boxed{} \xrightarrow{+ 62} \boxed{} \quad ?$$


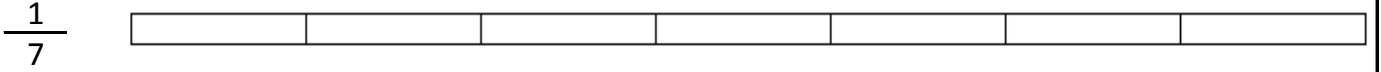
$$340 \xrightarrow{\times 8} \boxed{} \xrightarrow{- 319} \boxed{} \xrightarrow{\div 7} \boxed{} \xrightarrow{+ 478} \boxed{} \quad ?$$

$$277 \xrightarrow{\times 7} \boxed{} \xrightarrow{- 928} \boxed{} \xrightarrow{\div 3} \boxed{} \xrightarrow{+ 430} \boxed{} \quad ?$$



459 - 821 - 389 - 767

KESİRLERDE SIRALAMA

Verilen kesirleri şekillerde boyayarak gösterin. Boyalı kısımlara bakarak küçük olan kesri işaretleyin.



Verilen kesirleri şekillerde boyayarak gösterin. Boyalı kısımlara bakarak büyük olan kesri işaretleyin.



BÖLME ALIŞTIRMALARI (Kalanlı/Kalansız)

$$191 \overline{) 5}$$

$$552 \overline{) 6}$$

$$432 \overline{) 7}$$

$$544 \overline{) 8}$$

$$281 \overline{) 2}$$

$$160 \overline{) 9}$$

$$837 \overline{) 6}$$

$$940 \overline{) 9}$$

Bulduğun cevapları işaretle. Başta 1 cevap kalacak.



92 - 139 - 68 - 140 - 38 - 17 - 129 - 61 - 104