

1.

Deprem Nedir Baba?

İlk sarsıntıyla uyandım. Yatağımın altına kalkmaya çalıştım. Sarsıntının etkisiyle odanın ortasındaki halının üstüne düştüm. Hemen üç yaşındaki oğlum Mehmet'in yatağına koştum. Karanlıkta göz gözü görmüyordu. "Oğlum, Mehmet!" der demez, titreyerek hemen boynuma sarıldı. Oturdum ve sarsıntının bitmesini bekledim. Bu arada Mehmet, "Baba ne oluyor, evimizi başımıza mı yıkıyorlar?" dedi. "Hayır yavrum, deprem oluyor. Sakin olmak zorundayız. Birazdan dışarı çıkacağız." dedim. Mehmet: "Deprem nedir baba?" "Dışarı çıkınca anlatırım oğlum." diye yanıt verdim.

İsmail MALATYA

1, 2 ve 3. soruları metne göre yanıtlayınız.

1. Yazar, sarsıntının etkisiyle hangisinin üzerine düşmüştür?



2. Yazar, deprem sırasında nereye koşuyor?

- A. Balkona
B. Dışarıya
C. Oğlunun yatağına

3. Metinde hangi sorunun yanıtı yoktur?

- A. Yazar, dışarı çıkmak için neden sarsıntının bitmesini bekliyor?
B. Yazar, deprem sırasında nerededir?
C. Yazar, deprem sırasında neyi bekliyor?

4. 4. Hangi öğrencinin söylediği bir cümle **değildir**?

A.  Bahçedeki ağaçların hepsi çiçek açtı

B.  Mehmet ile Sena bahçede top oynuyorlar

C.  Pelin annesini görünce çok

5. 5. Çamlıbel'in tepesinde arabadan indik. Ağaçların arasına girdik. Biraz ilerledikten sonra, dereye doğru patika yolda yürüdük. Otların arasında bembeyaz mantarlar bizi bekliyordu. Avuç içi kadar mantarları sepetlere doldurmaya başladık.

İsmail MALATYA

Metinde, hangi sorunun yanıtı **yoktur**?

- A. Çamlıbel'in tepesinde niçin arabadan indiler?
- B. Arabadan indikten sonra nereye doğru yürüdüler?
- C. Otların arasında ne gördüler?

6. 6. Bisiklet almak istiyorum, babamı bir türlü ikna edemedim.

Yukarıdaki cümlede boş bırakılan yere hangisi yazılabilir?

- A. çünkü
- B. fakat
- C. bu yüzden

7. 7. Akşam çok geç yattı sabah uyanamadı.


Bu cümlede boş bırakılan yere hangisi **yazılamaz**?

- A. bu yüzden
- B. buna rağmen
- C. bundan dolayı

8. 8. Aylin de Efe güzel şiir okur.


Bu cümle hangisiyle tamamlanabilir?

- A. ile
- B. kadar
- C. bile

9.  Sıra arkadaşım ile çok iyi anlaşırız. Ben ondan satranç oynamayı da seviyorum.

Yukarıdaki cümle hangisiyle tamamlanmalıdır?

- A. iyi B. farklı olarak
C. birlikte

10.  Yarın ayakkabılarımı giymeyi düşünüyorum.

Ali'nin cümlesini hangi sözcükle tamamlaması anlamsız olur?

- A.  çok B.  yeni
C.  siyah

11. Aşağıdaki grafikte 2B sınıfındaki velilerinin meslekleri verilmiştir.




Grafik: Velilerin Meslekleri	
Memur	
İşçi	
Esnaf	
Serbest Meslek	

Her şekil, 2 kişiyi göstermektedir.

1, 2, 3, 4, 5 ve 6. soruları grafiğe göre yanıtlayınız.

1. 2B sınıfında en çok hangi meslek grubundan veli vardır?
A. Esnaf
B. Serbest meslek
C. İşçi

12. 2. En az hangi meslek grubundan veli vardır?

- A.  Esnaf
B.  Memur
C.  İşçi

13. 3. Sınıf velilerinden, kaç kişinin mesleği esnaftır?
A. 12 B. 10 C. 8
14. Memur veliler, esnaf olan velilerden kaç kişi fazladır?
A. 1 B. 2 C. 4
15. 2B sınıfında toplam kaç veli vardır?
A. 50 B. 42 C. 48
16. Grafiğe göre aşağıdakilerden hangisi yanlıştır?
A. Serbest meslek sahibi 9 veli vardır.
B. İşçi veliler, esnaf velilerden 4 kişi fazladır.
C. Memur veliler, işçi velilerden 2 kişi azdır.

17. Fabrikada Çalışanlar

Çalışanların öğrenim durumu	Çalışanların sayısı
İlköğretim	24
Lise	16
Üniversite	8

7, 8 ve 9. soruları tablodaki bilgilere göre yanıtlayınız.

7. Fabrikada çalışanların toplam sayısı kaç kişidir?
A. 32 B. 48 C. 38
18. 8. Hangi grafik, tablodaki verilere göre düzenlenmiştir?
A.

İlköğretim	●●●●
Lise	●●
Üniversite	●

 Her şekil, 4 kişiyi gösterir.
B.

İlköğretim	●●●●
Lise	●●●
Üniversite	●

 Her şekil, 4 kişiyi gösterir.
C.

İlköğretim	●●●●●●
Lise	●●●●
Üniversite	●●

 Her şekil, 4 kişiyi gösterir.

19. 9. Tabloya göre hangisi **yanlıştır**?

- A. İlköğretim mezunlarının sayısı, üniversite mezunlarının sayının iki katıdır.
 B. Lise ve üniversite mezunlarının sayısının toplamı, ilköğretim mezunlarının sayısına eşittir.
 C. Lise mezunlarının sayısı, üniversite mezunlarının sayısının iki katıdır.

20. Her şeklin 4 meyveyi gösterdiği bir grafikte elma 9, erik 7 şekille gösterilmiştir.

10, 11 ve 12. soruları yukarıdaki bilgilere göre yanıtlayınız.

10. Meyvelerin toplamı kaç tane dir?

- A. 46 B. 64 C. 56

21. 11. Elmaların sayısı, eriklerin sayısından kaç fazladır?

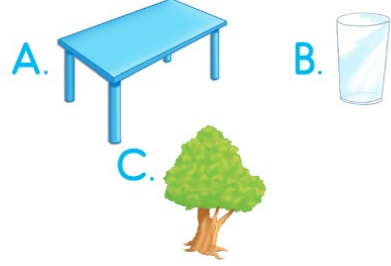
- A. 8 B. 6 C. 10

22. 12. Meyvelerin 90 tane olması için kaç meyveye daha ihtiyaç vardır?

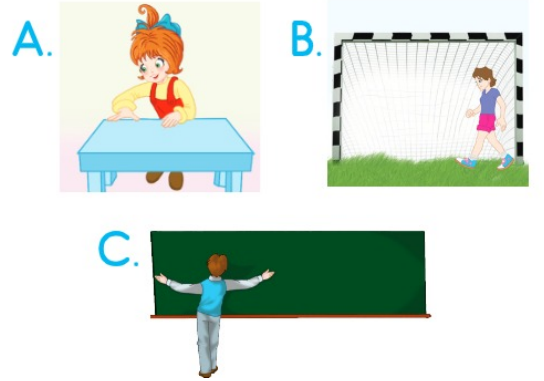
- A. 16 B. 24 C. 26

23.

1. Aşağıdakilerden hangisinin boyu karışla ölçülebilir?




24. Aşağıdakilerden hangisi adımla ölçme yapmaktadır?

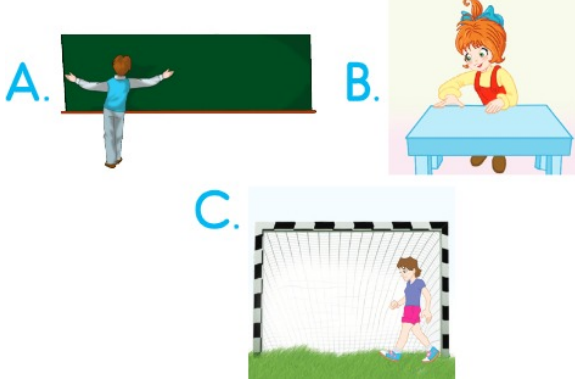


25.

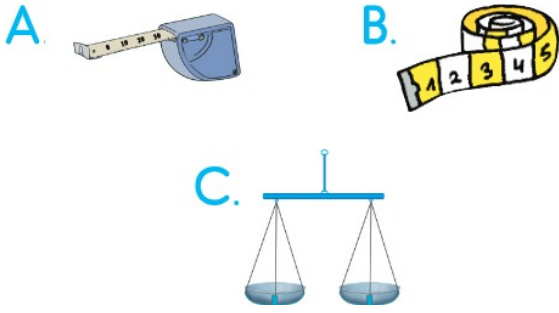
Aşağıdakilerden hangisi metre ile ölçülemez?



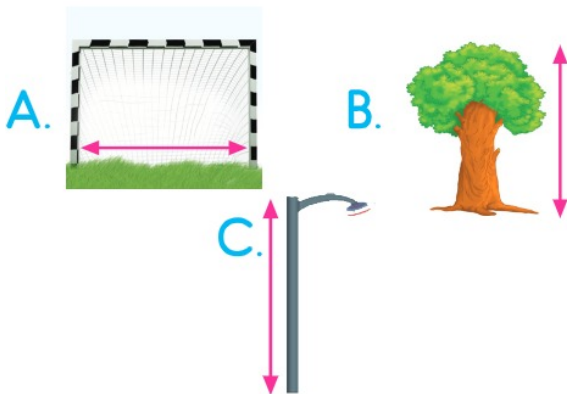
26. Aşağıdakilerden hangisi kullaçla ölçüm yapmaktadır?



27. Aşağıdakilerden hangisi, uzunlukları ölçmek için kullanılmaz?




28. Hangisinin uzunluğu ayakla ölçülebilir?



29. Emel ve Aykut, sıralarının uzunluğunu ölçecekler. Hangi ölçme birimini kullanırlarsa, ölçüm sonuçları farklı olabilir?



30. Aşağıdakilerden hangisi metre ile ölçülmez?



31. Aşağıdakilerden hangisi standart olmayan uzunluk ölçüsüdür?



32. Aşağıdaki uzunluklardan hangisi parmakla ölçülebilir?

- A. Kitabın kalınlığı
- B. Kapının yüksekliği
- C. Arkadaşımızın boyu

33. Yazı tahtasının uzunluğunu Öner metreyle, Zeynep mezurayla, Azra ve Sibel kulaçla ölçtüler.

Buna göre aşağıdakilerden hangisi **yanlıştır**?


- A. Azra ve Sibel'in ölçüm sonuçları aynıdır.
- B. Azra ve Sibel'in ölçüm sonuçları farklı olabilir.
- C. Öner ve Zeynep'in ölçüm sonuçları aynıdır.

34. Ayşe Hanım, perde diktirmek için pencerenin boyunu ölçecektir.

Ayşe Hanım, aşağıdakilerden hangisini kullanırsa doğru ölçüm yapmış olur?

- A. Kulaç B. Karış C. Metre

35. Aşağıdakilerden hangisi, Atatürk'ün yaptığı yenilikleri **anlatmaz**?



36. Atatürk, 19 Mayıs'ta hangi şehre çıkararak Kurtuluş Savaşı'nı başlatmıştır?

- A. Sivas
- B. Erzurum
- C. Samsun

37. Aşağıdakilerden hangisi Atatürk'ün okuduğu okullardan biri **değildir**?

- A. Mahalle Mektebi
- B. Harp Akademisi
- C. İstanbul Lisesi

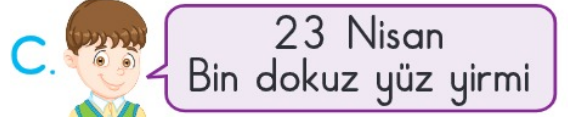
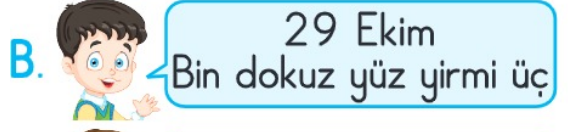
38. Hangi görselde, 23 Nisan Ulusal Egemenlik ve Çocuk Bayramı için hazırlık yapıldığı söylenebilir?



39. Cumhuriyet ne zaman ilan edilmiştir?

- A. 23 Nisan
B. 29 Ekim
C. 30 Ağustos

40. Aşağıdakilerden hangisi Türkiye Büyük Millet Meclisi'nin açıldığı günü doğru söylemiştir?



41. Aşağıdaki kültürel öğelerden hangisi gelenek ve göreneklerimizle ilgilidir?

- A. Basketbol oynamak
B. Gelinlere kına yakmak
C. Dans etmek

42. Ekmeğin soframıza ulaşmasında hangisinin emeği **yoktur**?

- A. Çiftçi
B. Fırıncı
C. Hemşire

43.



Murat

Onların kültürlerini öğreniriz.



Sibel

Yeni arkadaşlıklar kurarız.



Kayra

Bize okuma yazmayı öğretirler.

Hangisi farklı ülkelerden gelen insanların bize sağladığı yararlarından **bahsetmemiştir**?

- A. Murat
- B. Sibel
- C. Kayra

44.

Hangi öğrenci, Ulusal Egemenlik ve Çocuk Bayramı'nı kutlamamızın nedenini doğru açıklamıştır?



A.

Kurtuluş Savaşı'nı kazanmamızı kutluyoruz.



B.

Cumhuriyetin ilanını kutluyoruz.



C.

Türkiye Büyük Millet Meclisinin açılışını kutluyoruz.

45.

Aşağıdakilerden hangisi bağımsızlığımızın sembollerinden biri **değildir**?

- A. Bayrağımız
- B. Okulumuz
- C. İstiklâl Marşı'mız

46.

- △ Cumhuriyet Bayramı
- Ramazan Bayramı
- Zafer Bayramı

Aşağıdakilerden hangisi dinî bayramlarımızdan biridir?

- A. △
- B. ○
- C. □