


MATEMATİK TESTİ

1)



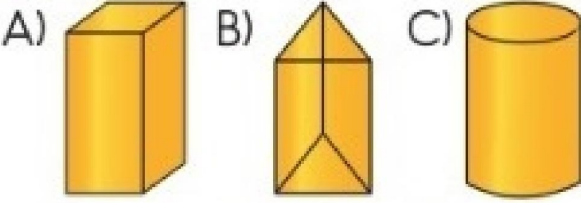
Masanın üzerinde 8 yarım ekmeğ vardır.

Ekmekler kesilmeseydi, masanın üstünde **kaç bütün** ekmeğ olurdu?

- A) 4 B) 10 C) 16

2)

Aşağıda verilen geometrik şekillerden hangisinin köşesi **yoktur**?



3)




Benim doğum günüm 7. aydadır.

BÜŞRA

Büşra'nın doğum günü hangi **aydadır**?

- A) Haziran B) Temmuz C) Ağustos

4)

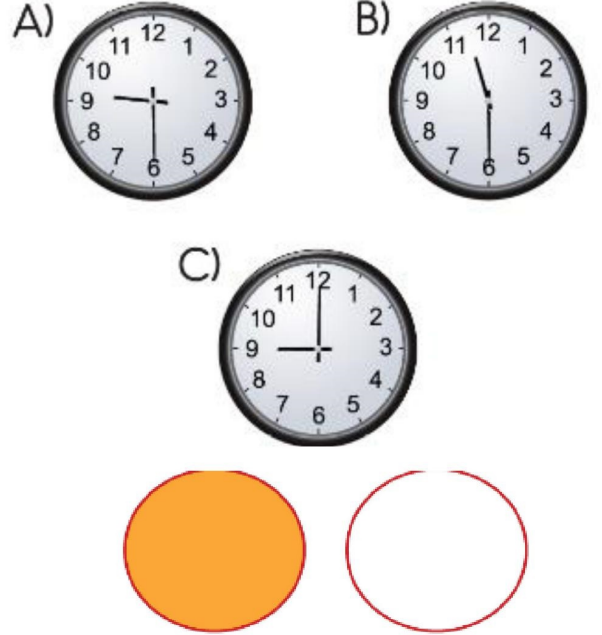


Ağaçta 9 kuş vardır. Ağaca 6 kuş konup ağaçtan 2 kuş uçuydu. Sonuçta ağaçta kaç kuş kalmış olur?

- A) 15 B) 14 C) 13

5)

Aşağıdaki saatlerden hangisi **9:30'u** göstermektedir?



6)

Yukarıdaki görsellerin adları sırasıyla hangi seçenekte doğru olarak verilmiştir?

- A) Çember - Daire
B) Daire - Üçgen
C) Daire - Çember

7)

Aşağıda verilen işlemlerden hangisinin sonucu **2 onluktur**?

- A) $11 + 8$ B) $13 + 7$ C) $15 + 4$

8)



Çiğdem'in cüzdanında 15 TL var. Çiğdem, parasıyla yukarıda fiyatı verilen boya kaleminden bir kutu aldı. Çiğdem'in kaç lirası kaldı?

- A) 2 B) 7 C) 10

9)



Yandaki nesnelere ilgili verilen bilgilerden hangisi **yanlıştır**?

- A) En uzun diş fırçası en kısası taraktır.
 B) Çatal; makastan uzun,kalemde kısıdır.
 C) Kalem ile çatalın boyları eşittir.

10)



Yukarıdaki kibrit çöpleri kullanarak hangi geometrik şekil oluşturulabilir?

- A) üçgen B) kare C) çember

11)



Yukarıdaki örüntüde "?" ile gösterilen yerlere sırasıyla hangi seçenekteki şekiller gelmelidir?

- A) B) C)

12)

Hangi seçenekteki tabakta 1 yumurtadan daha fazla yumurta vardır?



A)



B)



C)

13)

$$4 + 8 = ? + 4$$

Yukarıdaki eşitlikte "?" yerine hangi sayı yazılmalıdır?


- A) 8 B) 4 C) 0

14)

Aşağıda verilenlerden hangisi bir örüntü **değildir**?

- A)
- B)
- C)

15)



Masadaki elma ve armutların sayılarının farkı kaçtır?

- A) 16 B) 4 C) 5

16)



Yukarıdaki ritmik saymada **yanlış** yazılan sayı aşağıdakilerden hangisidir?

- A) 18 B) 19 C) 22

17) Burak 11 yaşındadır. Kardeşi Duru , Burak'tan 3 yaş **küçüktür**. Burak ile kardeşi Duru'nun **yaşları toplamı** kaçtır ?

- A) B) C)