

1. Aşağıda verilenlerden hangisi **yanlıştır**?
 A) Vali ve kaymakam devleti temsil eder.
 B) Belediye başkanı , valiyi ve kaymakamı denetler.
 C) İlçeler, köyler ve mahalleler illere bağlıdır.

2. Şehir içinde temizlik , aydınlatma ve ulaşım gibi hizmetleri yapmak hangi yöneticinin görevidir?




- A) Vali B) Kaymakam C) Belediye Başkanı

3. Aşağıda verilenlerden hangisi **yanlıştır**?
 A) İl ve ilçelerde belediyeler bulunur.
 B) Su ve kanalizasyon işlerinden belediyeler sorumludur.
 C) Tüm yöneticiler seçimle göreve gelir.

4. Muhtar, vali tarafından atanır.
 Kaymakamı , vali atar.
 Belediye başkanı halk tarafından seçilir.
 Şehirlerin güvenliğinden vali sorumludur.

Yukarıda verilen ifadelerden doğru olanlara "D" , yanlış yazılanlara " Y " yazılırsa hangi seçenek doğru olur?

- A) Y Y D D
 B) Y D Y Y
 C) D Y D D

5.  yılan  leylek  kurbağa  balık

Yukarıda verilen canlıların **ortak özelliği** aşağıdakilerden hangisidir?

- A) Suda yaşamaları
 B) Yumurta ile çoğalmaları.
 C) Yavrularına bakmaları

6.   









Yukarıdaki çevrelerden kaç tanesi yapay çevreye örnektir?

- A) 4 B) 3 C) 2

7. → Kendi besinimi kendim üretirim.
 → Besinleri çevremden hazır olarak alırım.

Yukarıda numaralandırılmış yerlere aşağıdaki görsellerden hangileri gelebilir?

	1	2
A)		
B)		
C)		

8. Yaşadığımız çevreyi tanımak hayatımızı kolaylaştırır

Aşağıdakilerden hangisi yukarıda verilen ifadeyi destekler?

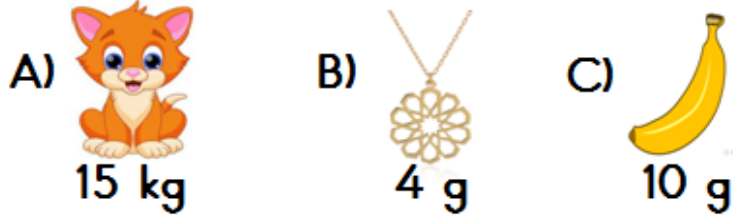
- A) Geri dönüşüm ülke ekonomisine katkı sağlar.
 B) Mahallemizde bulunan dükkanların yerini bilmek ihtiyaçlarımızı hızlıca karşılamamızı sağlar.
 C) Çevremizi korumalı ve temiz tutmalıyız.


9. Aşağıda verilenlerden hangisi yanlıştır?

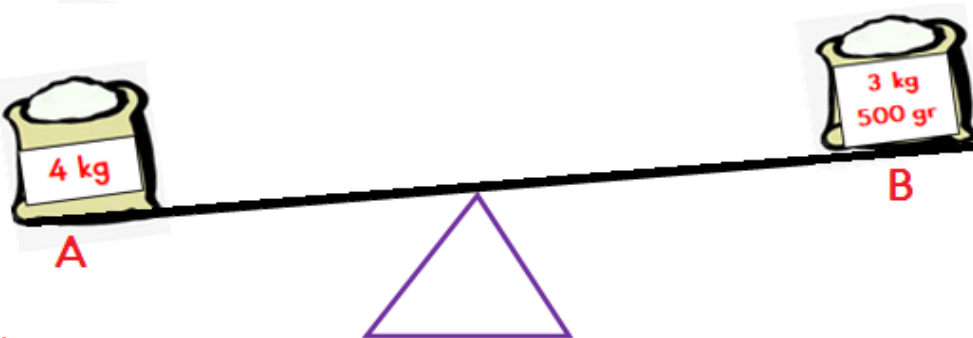
- A) Doğal çevre yapay çevreye dönüşür fakat yapay çevre doğal çevreye dönüşmez.
 B) Yapay çevre , doğal çevreye göre daha uzun zamanda oluşur.
 C) Yapay çevre , doğal çevrenin bir değişimidir.

1. 6 tane 200 gram
2. 15 tane 40 gram
3. 5 tane 250 gram
4. 9 tane 100 gram
10. Yukarıda verilen ağırlıklardan hangileri 1 kg 'dan azdır?
A) 2 ve 4 B) 2 ve 3 C) 1 ve 4

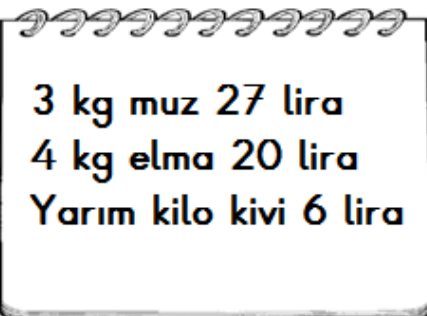
11. Aşağıdakilerden hangisinin kütlesi doğru tahmin edilmiştir?



12.  Yarım kilosu 12 lira olan balıktan 2 kilogram alıp satıcıya 100 lira veririm kaç lira para üstü alırım?
A) 52 B) 62 C) 76



13. Yukarıdaki terazinin dengede durabilmesi için A kefesindeki şekerden B kefesindeki şekere kaç gram konulmalıdır?
A) 500 g B) 200 g C) 250 g

14.  Yandaki listede pazardan alınan ürünlere harcanan para miktarları verilmiştir. Ürünlerin kg fiyatları hangi seçenekte verilmiştir?

	Muz	Elma	Kivi
A)	9 lira	5 lira	10 lira
B)	8 lira	4 lira	12 lira
C)	9 lira	5 lira	12 lira

15. 
- Hem eş hem zıt anlamı olan balonlar patlatılırsa geriye kaç tane balon kalır?
A) 2 B) 3 C) 4

16. Kış gelince polar battaniye aldık. Annem çok güzel şarkı söyler. Güler, sınıfın en başarılı öğrencisidir. Leylalar dün gece eve geç geldi. Yukarıda verilen altı çizili kelimelerden kaç tanesi coğul isimdir?
A) 1 B) 2 C) 3

RECEP ALPTEKİN

17. Aşağıdaki cümlelerden hangisi **neden-sonuç** cümlesidir?
A) Karıncalar bildiğimiz tüm yırtıcı hayvanlardan daha fazla et tüketir.
B) Karıncalar ağır besinleri tek başına taşıyamadıklarından yardımlaşır.
C) Yuvadaki her karıncanın bir görevi vardır.

18. Nasıl? Ne zaman? Nereye?

- Aşağıda verilen cümlelerin hangisinde yukarıdaki soruların tamamının cevabı vardır?
A) Dün akşam eve gittim.
B) Recep , ağaca çıkarak kirazları topladı.
C) Akşam okuldan eve koşarak gittim.

19. Aşağıdaki sözcüklerden hangisi hecelerine **yanlış** ayrılmıştır?

A) Ka-ra-ma-noğ-lu

B) ha-nı-me-li

C) de-niz-a-na-sı

CEVAP ANAHTARI

1	2	3	4	5	6	7	8	9	10	11	12	13	14	15	16	17	18	19	20
B	C	C	A	B	A	A	B	B	A	B	A	C	C	B	A	B	C	C	