

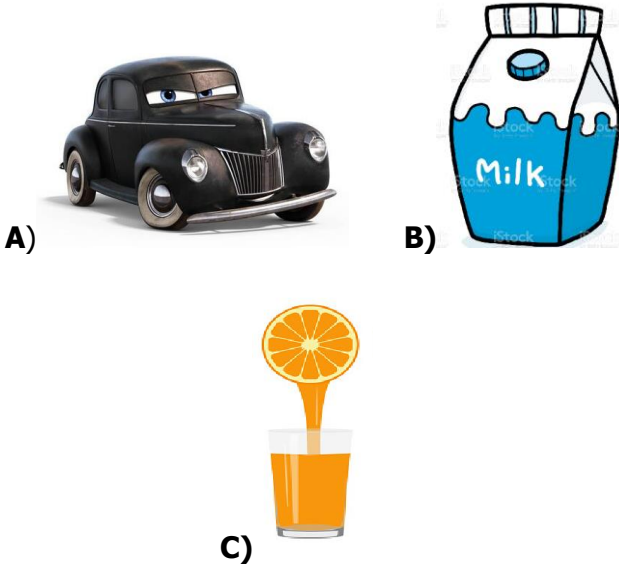
1)



Maddenin kaç hali vardır?

- A) 2 B) 3
C) 4

2) Aşağıdakilerden hangisi maddenin sıvı haline örnek değildir?



3) Bugün yağmur nedeniyle pikniğe gidemedik.

Yukarıdaki cümlede altı çizili kelime maddenin hangi haline örnektir?

- A) Katı B) Sıvı C) Gaz

4. Topun içindeki hava maddenin haline örnektir.


- A) Katı
B) Sıvı
C) Gaz

5) Sinan sabah camdan dışarı baktığında sevinçten havalara uçtu. Çünkü her yer kardan dolayı bembeyaz olmuştu.

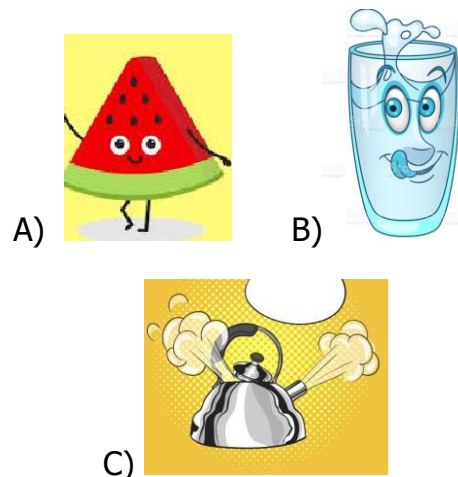
Yukarıdaki cümleye göre Sinan'ı mutlu eden kar maddenin hangi haline örnektir?

- A) Katı
B) Sıvı
C) Gaz

6) Aşağıdaki resimlerden hangisi maddenin hallerinden biri değildir?



7) Aşağıdaki görsellerden hangisi maddenin gaz haline örnektir?



8) Havalarda çok soğuk olduğu için mahallemizdeki derenin suyu hale dönüştü.

Yukarıdaki cümleyi aşağıdaki kelimelerden hangisi ile tamamlayabiliriz?

- A) Katı
B) Sıvı
C) Gaz



AYŞE: Un, bulgur ve şeker gibi maddeler sıvı maddelerdir.



SİNAN: Katı maddeler buldukları kabın şeklini almazlar.



FATMA: Gaz maddelerin kendilerine ait bir şekli vardır.

9) Yukarıdaki öğrencilerden hangisi maddenin halleri ile ilgili doğru bilgi vermiştir?

- A) AYŞE B) SİNAN C) FATMA

10) Çevrede gördüğümüz, duyu organlarımızla algılayabildiğimiz, boşlukta yer kaplayan, canlı ve cansız varlıkların tümüne madde denir.

Bu ifadeye göre aşağıdakilerden hangisi madde değildir?

- A) Masa B) Araba C) Kuvvet

11)

su	taş	duman
tuz	buhar	mısır

Yukarıdaki maddelerden hangileri katı maddedir?

- A) su, taş, duman
B) taş, mısır, tuz
C) buhar, duman, mısır

12)

araba	Meyve suyu
su	parfüm
boncuk	ayran

Yukarıdaki maddelerden sıvı olanları boyayacak olursak görüntü nasıl olur?

- A)

- B)

- C)

13)

MADDE	KATI	SIVI	GAZ
hava	X		
kola		X	
odun			X

Yukarıdaki tabloda bulunan maddelerden hangileri yanlış işaretlenmiştir?

- A) hava, kola
B) kola, odun
C) hava, odun

14)



Küçük taneli maddeler sıvılar gibi konuldukları kabın şeklini alırlar. Fakat yine katı maddedir.

Aşağıdaki maddelerden hangisi bu ifadeye örnek olur?



A.



B.



C.

15)

I. ŞEKER

II. MEYVE SUYU

III. ELMA

Yukarıdaki maddeler hallerine göre sınıflandırıldığında hangi madde dışarıda kalır?

- A) ŞEKER
B) MEYVE SUYU
C) ELMA

16)

SU

KATI

ELMA

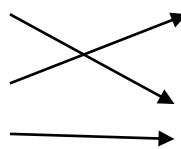
SIVI

YEMEK BUHARI

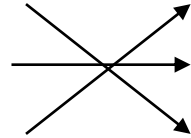
GAZ

Yukarıdaki maddeleri hallerine göre eşleştirirsek eşleştirme nasıl olur?

A)



B)



C)

