

Adı :

Soyadı:

MATEMATİK

Doğru Sayısı :



Yanlış sayısı:



1. 2-A sınıfında 18 tane öğrenci var. Her sırada 2 öğrenci oturduğuna göre, sınıfımızda kaç tane sıra vardır ?

- A) 9 B) 8 C) 7

2. Sinem 5 günde toplam 35 sayfa kitap okumuş. Her gün eşit sayıda sayfa okuduğuna göre, Sinem bir günde kaç sayfa okumuştur ?

- A) 6 B) 9 C) 7

3. 32 tane fıncığı 4 çocuğa eşit olarak paylaştırdık. Bir çocuğa kaç tane fıncık düşmüştür ?


- A) 10 B) 9 C) 8

4. 2 tane bütün simit kaç tane yarım simit eder ?



- A) 3 B) 4 C) 8

5. 6 tane yarım elma kaç tane bütün elma eder ?



- A) 3 B) 4 C) 2

6. 1 yarım limon kaç tane çeyrek limon eder ?



- A) 1 B) 3 C) 2

7. Resimde gösterilen boyalı alanın ismi aşağıdakilerden hangisiyle ifade edilir ?

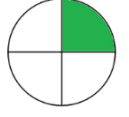


- A) Yarım B) Çeyrek C) Bütün

8. 8 tane çeyrek ekmek kaç tane bütün ekmek eder ?

- A) 6 B) 4 C) 2

9. Resimde gösterilen boyalı alanın ismi aşağıdakilerden hangisiyle ifade edilir ?



- A) Yarım B) Çeyrek C) Bütün

10. Yandaki saat kaç göstermektedir ?

- A) 03.30 B) 03.15
C) 04.30



11. Yandaki saat kaç göstermektedir ?

- A) 09.30 B) 09.00
C) 12.45




12. Yandaki saat kaç göstermektedir ?

- A) 03.15 B) 07.00
C) 07.15



13. Yandaki saat kaç göstermektedir ?

- A) 11.45 B) 11.30
C) 12.00



14. Yandaki saatin okunuşu aşağıdakilerden hangisidir ?

- A) Onu çeyrek geçiyor
B) Ona çeyrek var
C) On buçuk



15. Yandaki saatin okunuşu aşağıdakilerden hangisidir ?

- A) Sekizi çeyrek geçiyor
B) Dokuz buçuk
C) Sekiz buçuk

