

Adı :

Soyadı:

MATEMATİK

Doğru Sayısı :


Yanlış sayısı:



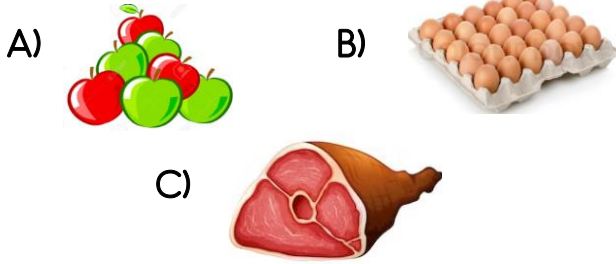
1. Aşağıdakilerden hangisi kütle ölçü birimidir?

A) metre B) santimetre C) kilogram

2. Aşağıdakilerden hangisi kütle (ağırlık) ölçüm aracı değildir?



3. Aşağıdakilerden hangisi tartılarak alınmaz?



4. Aşağıdaki hayvanlardan hangisi diğerlerinden daha ağırdır?



5. Pazarıcı 80 kg muzun 64 kg'ını satmış. Kaç kg muz kalmıştır?

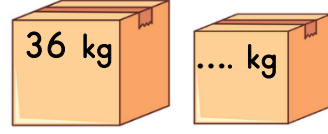
A) 16 B) 26 C) 17

6. Manavda her biri 22 kg olan 3 kasa elma vardı. Elmaların 48 kg'ı satıldı. Kaç kg elma kalmıştır ?



A) 17 B) 18 C) 28

7.



Yukarıdaki iki kutu toplam 63 kg'dır. Küçük kutu kaç kg ağırlığındadır ?

A) 28 B) 37 C) 27



8,9 ve 10 soruları yukarıdaki resimlere göre cevaplayınız.

8. Ozan , Suna'dan kaç kg ağırdır ?

A) 8 B) 18 C) 9

9. Üç arkadaşın en hafif olanı kimdir ?

A) Suna B) Ozan C) Arda

10. Ozan ve Arda'nın ağırlıkları toplam kaç kg'dır ?

A) 50 B) 60 C) 61

11. 20 kg pirince ihtiyacı olan bir aşçı, bir tanesi 4 kg olan paketlerden kaç tane alması gerekir ?

A) 4 B) 6 C) 5

12. Bir bakkal 60 kg zeytinin önce 27 kg'ını, sonra 18 kg'ını satmış. Geriye kaç kg zeytin kalmıştır ?

A) 25 B) 45 C) 15

13. Ömer kilosu 7 liradan 3 kg üzüm almış. Satıcıya 30 lira vermiş. Kaç lira para üstü alır ?

A) 21 B) 9 C) 8