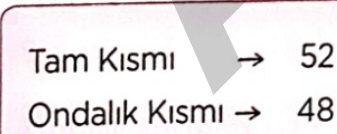


1. 7 m'lik kumaşın 3m 45 cm'sini kullandık.  
Geriye kaç cm kumaş kalmıştır?  
A) 255                      B) 355  
C) 365                      D) 450

2.  67,94

Yukarıdaki ondalık kesrin ondalık kısmındaki rakamların sayı değerleri toplamı kaçtır?  
A) 15      B) 14      C) 12      D) 13

3.  Tam Kısım → 52  
Ondalık Kısım → 48

Yukarıdaki bilgiye göre bahsedilen ondalık kesir aşağıdakilerden hangisidir?  
A) 5,248                      B) 52,48  
C) 520,48                      D) 524,8

4. Aşağıda verilen ondalık kesirlerden hangisinin virgülle gösterilişi **yanlıştır**?

A)  $\frac{2}{10} = 0,002$       B)  $\frac{25}{100} = 0,25$

C)  $\frac{163}{1000} = 0,163$       D)  $\frac{9}{10} = 0,9$

5. Aşağıdaki sayılardan hangisi diğerlerinden **farklıdır**?

A) 0,2                      B) 0,200

C) 0,20                      D) 0,02

6. Aşağıdaki ondalık kesirlerden hangisi, **18,65 ile 18,79** arasındadır?

A) 18,64                      B) 18,8

C) 18,72                      D) 18,6

7. Aşağıda verilen sayılardan hangisi 10'a en yakın olanıdır?

- A) 8,45                      B) 9,02  
C) 10,25                     D) 10,53

8. Aşağıdaki kesirlerden hangisinin yüzde birler basamağında 7 rakamı vardır?


- A) 14, 72                     B) 8,07  
C) 7,43                        D) 9,297

9. 12 metre uzunluğundaki telin önce 3 m 50 cm'sini sonra 5 m 25 cm'sini kullandık.

Geriye kaç m kaç cm telimiz kalır?

- A) 4 m 25 cm                B) 3 m 75 cm  
C) 3 m 50 cm                D) 3 m 25 cm

10.



Yukarıdaki yapı kaç tane birim küp kullanılarak yapılmıştır?

- A) 10                      B) 9                      C) 8                      D) 7

11. "İstanbul'da yoğun kar yağışında okulların tatil olması.....?"

Yukarıdaki cümlede boş bırakılan yer, hangi seçenikle **tamamlanmaz**?

- A) mümkün                B) kesin  
C) belirsiz                    D) olası

12. Çevre uzunlukları birbirine eşit kare ve dikdörtgenimiz var. Karemizin çevresi 48 cm, dikdörtgenimizin kısa kenarları toplamı 16 cm'dir.

Buna göre dikdörtgenimizin bir uzun kenarı kaç cm'dir?

- A) 8 cm                      B) 12 cm  
C) 14 cm                     D) 16 cm

13.

$$16 \cdot 50$$

Yukarıdaki çarpma işleminin kısa yoldan yapılışı aşağıdakilerden hangisidir?

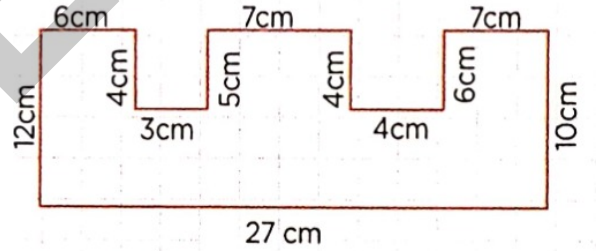
- A)  $16 \div 4 = 4$               B)  $16 \div 2 = 8$   
 $4 \times 100 = 400$              $8 \times 100 = 800$   
 C)  $16 \div 4 = 4$               D)  $16 \div 2 = 8$   
 $4 \times 100 = 40$                $8 \times 1000 = 8000$

14. Bir dikdörtgenin uzun kenarı 75 cm'dir. Bu dikdörtgenin kısa kenarı, uzun kenarının  $\frac{1}{5}$ 'idir.

Buna göre dikdörtgenin çevresi kaç cm'dir?

- A) 180                      B) 90  
C) 88                      D) 84

15.



Yukarıdaki düzlemsel şeklin çevre uzunluğu kaç cm'dir?

- A) 95              B) 90              C) 88              D) 84

16. Aşağıdaki kısa yoldan çarpımlardan hangisi yanlıştır?

A)  $40 \times 5$

$40 \div 2 = 20$

$20 \times 10 = 200$

B)  $28 \times 25$

$28 \div 4 = 7$

$7 \times 100 = 700$

C)  $32 \times 50$

$32 \div 2 = 16$

$16 \times 100 = 1600$

D)  $80 \times 25$

$80 \div 2 = 40$

$40 \times 100 = 400$

17. Çevre uzunlukları 120 cm ve 80 cm olan iki kareyi birer kenarlarından yapıştırırsak, elde edilen yeni şeklin çevresinin uzunluğu kaç cm olur?

A) 160 cm

B) 180 cm

C) 200 cm

D) 240 cm

18.

Cenk'in bir karışı 20 cm'dir. Kare şeklindeki masasının bir kenarı Cenkin 5 karışına eşittir.

Buna göre Cenkin masasının çevresi kaç cm'dir?

A) 400 cm

B) 440 cm

C) 460 cm

D) 480 cm

19.

Kenar uzunlukları 12 m ve 10 m olan dikdörtgen şeklindeki bahçemizin etrafına 4 sıra tel çekilecektir.

Buna göre bize kaç m tel gerekir?

A) 170 cm

B) 176 cm

C) 180 cm

D) 182 cm

20.

"Bir horozun yumurtlaması ..... dir."

Yukarıdaki cümlede boş bırakılan yere aşağıdakilerden hangisinin gelmesi uygundur?

A) belirsiz

B) kesin

C) olası

D) imkansız

21. Aşağıdaki ülkelerden hangisi ülkemizin batısında bulunan komşumuzdur?

- A) Suriye                      B) İran  
C) Gürcistan                D) Yunanistan

22. Başkenti Bakü olan komşu ülkemiz aşağıdakilerden hangisidir?

- A) Azerbaycan  
B) Irak  
C) Gürcistan  
D) Bulgaristan

23. Dünya üzerinde kaç tane kıta vardır?

- A) 3                              B) 4  
C) 5                              D) 7

24.

Ülkemiz hangi iki kıta üzerinde bulunur?

- A) Afrika - Antarktika  
B) Asya - Amerika  
C) Avrupa - Amerika  
D) Asya - Avrupa

25. Aşağıdakilerden hangisi milli bayramlarımızdan biri **değildir**?

- A) Zafer Bayramı  
B) Ramazan Bayramı  
C) Cumhuriyet Bayramı  
D) Ulusal Egemenlik ve Çocuk Bayramı

26. Aşağıdakilerden hangisi okyanus **değildir**?

- A) Pasifik Okyanusu  
B) Hint Okyanusu  
C) Atlantik Okyanusu  
D) Karadeniz

27. Ateşten atlama, demir dövme gibi etkinliklerin yapıldığı baharın geldiğini belirten bayram aşağıdakilerden hangisidir?

- A) Nevruz Bayramı
- B) Zafer Bayramı
- C) Ramazan Bayramı
- D) Kurban Bayramı

28. Ülkemizin aşağıda verilen denizlerden hangisine kıyısı bulunmaz?

- A) Akdeniz
- B) Hazar Denizi
- C) Karadeniz
- D) Marmara Denizi

29. Aşağıdaki ülkelerden hangisi komşumuz değildir?

- A) Ermenistan
- B) İran
- C) İtalya
- D) Yunanistan

30. Farklı yaşam biçimlerine sahip olmanın nedeni aşağıdakilerden hangisi değildir?

- A) İklim
- B) Yeryüzü şekilleri
- C) Kültür
- D) İnsan tipleri

31. Bize en çok benzeyen ülke aşağıdakilerden hangisidir?

- A) Bulgaristan
- B) Azerbaycan
- C) Ukrayna
- D) Irak

32. Aşağıda verilen bilgilerden hangisi yanlıştır?

- A) Beslenme şekli de toplumdans topluma değişir.
- B) Dünya üzerinde on kıta vardır.
- C) Ekvator Dünya'nın en sıcak yerlerindedir.
- D) Barınak biçimleri de toplumdans topluma değişir.