



TOPLAMA İŞLEMİ PROBLEMLER


1. Şeyma parasının 5 lirasını harcamış. Geriye 7 lirası kalmış. Şeyma parasını harcamadan önce toplam kaç lirası vardı ?




2. Annem yumurtaların 6 tanesini pasta için kullanınca geriye 12 tane kalmış. Yumurtaları kullanmadan önce toplam kaç tane yumurta vardı?




3. Suna, kitabının 13 sayfasını okumuş. Geriye 7 sayfa kalmış. Kitabın tamamı kaç sayfadır ?




4. Ağaçtaki kuşlardan 4'ü uçuyor. Geriye 11 kuş kalıyor. Kuşlar uçmadan önce toplam kaç tane kuş vardı?




5. Bekir dün 8 sayfa kitap okudu. Bugün ise dünden 4 sayfa fazla kitap okudu. Bekir bugün kaç sayfa kitap okudu?



6. Özgür sabah 6 tane , akşam ise 5 tane ekmek aldı. Özgür toplam kaç tane ekmek aldı ?



7. Resim kursuna 9 kız , 6 erkek öğrenci katılıyor. Resim kursuna toplam kaç öğrenci katılıyor?



8. Fatih'e dedesi 10 lira , ninesi ise 5 lira vermiş. Dedesi ve ninesi Fatih'e toplam kaç lira vermiştir?

