

Türkçe 9, Matematik 12, Hayat Bilgisi 12 İngilizce 12 soru toplam 45 sorudan oluşmaktadır.

1.



Teknolojik aletlerin isimleri sözlük sırasına konduğunda sıralama nasıl olur?




2.

Noktalama işareti yanlış kullanılmış olan cümle hangisidir?

- A) Mert'ler sokağa çıkmış.
 B) Annem pasta mı yaptı?
 C) Selin bizimle oynamıyor.

3.



Yukarıda sırasıyla verilen olayların anlatılışı hangisinde doğru verilmiştir?

- A) Önce fidanın çevresine taşlar koydum, sonra fidanı diktim, daha sonra suladım, en sonunda toprağı kazdım.
 B) Önce toprağı kazdım, sonra kazdığım yere fidanı diktim daha sonra fidanı güzelce suladım en sonunda da etrafına taşlar koydum.
 C) Önce fidanı suladım, sonra toprağı kazdım daha sonra fidanı diktim en sonunda da fidanın etrafına taş koydum.

4. "Bakkaldan süt() yumurta() yoğurt alır mısın()" cümlesinde () ile belirtilen yerlere sırasıyla hangi noktalama işaretleri gelmelidir?

- A) (.), ('), (?)
B) (.), (.), (.)
C) (.), (.), (?)

5. Hangi kelime grubu anlamca diğerlerinden farklıdır?

- A) تنها - kalabalık
B) derin - sığ
C) uzak - ırak

6. Hangi noktalama işaretinin ismi yanlış verilmiştir?

- A)  → kesme işareti
B)  → konuşma çizgisi
C)  → virgül

7. Hangisinde "mı" soru eki yanlış yazılmıştır?

- A) Sinemaya mı gidiyorsunuz?
B) Hava soğuk mu?
C) Şemsiyeni aldın mı?


8. Hangisi soru cümlesi değildir?

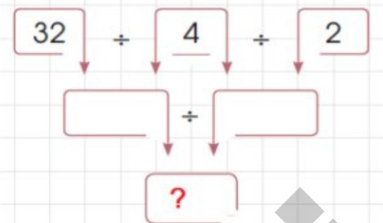
- A) Yarın günlerden ne
B) Neden ağladığınızı anlamadım
C) Çarşıya mı çıktın

9. Hangisi yazım kuralı değildir?

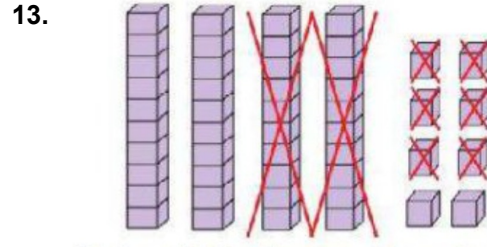
- A) Cümle büyük harfle başlar.
B) Kelimelerin ilk harfi büyük yazılır.
C) Kelimeler arasında uygun boşluk bırakılır.

10. Aşağıdaki modellerden hangisi 24 fındığın 6 kardeşe eşit olarak paylaştırıldığını gösterir?



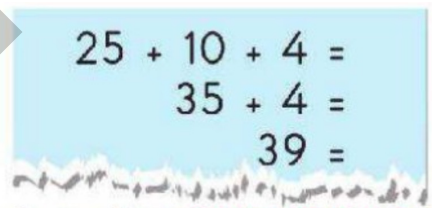
11. 
- Soru işareti olan yere hangi sayı yazılmalıdır?
A) 4 B) 8 C) 2

12. Aşağıdakilerden hangisi bir örüntüdür?



Yukarıdaki çıkarma işlemiyle ilgili verilen bilgilerden hangisi yanlıştır?

- A) Çıkan sayı 48'dir.
B) Fark 22'dir.
C) Çıkan ile farkın toplamı 48'dir.

14. 
- 25 + 10 + 4 =
35 + 4 =
39 =

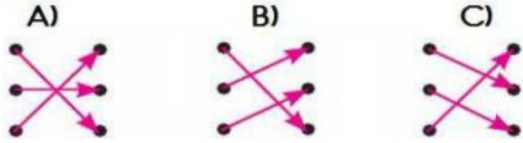
Yukarıda yapılan zihinden toplama işlemi aşağıdakilerden hangisidir?

- A) 24 + 16 B) 25 + 14 C) 29 + 10

15.

$42 + \dots = 69$	46
$\dots + 28 = 73$	45
$18 + \dots = 64$	27

Yukarıda verilen toplama işlemlerinde verilmeyen sayılar oklarla eşleştirildiğinde okların görünümü nasıl olur?



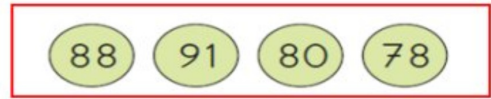
16.

Geçen Ay	Bu Ay	Gelecek Ay
Şubat	☆
.....	Nisan
♥	Eylül
Kasım	☆

Yukarıdaki tabloda şekillerin olduğu kısımlara hangi aylar yazılmalıdır?

- A)  Nisan  Temmuz  Aralık
 B) Mart Temmuz Ekim
 C) Nisan Ağustos Aralık

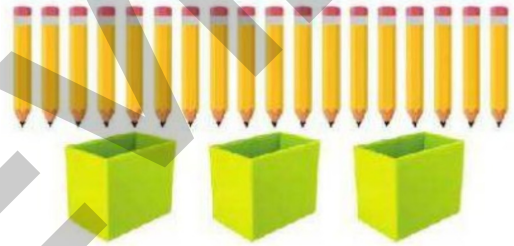
17.



Yukarıda verilen sayılar **küçükten büyüğe** doğru sıralandığında **sondan 3. Sayı** kaç olur?

- A) 88 B) 80 C) 78

18.



Yukarıdaki kalemler aşağıdaki kutulara eşit sayıda paylaşılacaktır.

Yukarıdaki bilgilere göre aşağıdakilerden hangisi **yanlıştır**?

- A) Bölen sayı 3'tür.
 B) Bölüm 6'dır.
 C) Bölünen sayı 15'tir.

19. Aşağıda verilen paralardan hangisinin değeri **doğru** yazılmıştır?



20.



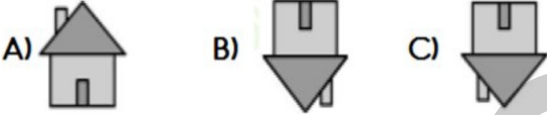
Yukarıdaki pastalardan 2 çeyrek dilim **yersem** geriye **kaç yarım** pasta kalır?

- A) 6 B) 5 C) 10

21.




Yandaki evin **simetriği** hangi seçenekte verilmiştir?




22.

Etle beslenen hayvanlara hangisini örnek verebiliriz?



23.

Seçenekteki bitkilerden hangisi büyüme için uygun şartlara sahiptir?



24.

Bitkisel yağları kullandıktan sonra lavaboya dökmek neye sebep olur?

- A) Hava kirliliğine
B) Lavabo kirliliğine
C) Su kirliliğine

25. Fabrikaların kurulması hangi alanın gelişmesi ile ilgilidir?

- A) Tarım
- B) Sanayi
- C) Hayvancılık

26.




Görseldeki çocuk için hangisini söylememiz doğru olur?

- A) Hayvanseverdir.
- B) Hayvanlardan korkar.
- C) Hayvanlara kötü davranır.

27. Hangisi bir doğa olayı değildir?

- A) Dolu
- B) Rüzgâr
- C) Toprak

28.



Yukarıdaki doğal afet hangisidir?

- A) Çığ
- B) Heyelan
- C) Deprem

29. Rüzgârın çok kuvvetli esmesi sonucu oluşan doğal afete fırtına denir.
- Yer kabuğunun sarsılması sonucu heyelan oluşur.
- Karların erimesi ve yağmurun çok yağması sonucu çığ oluşur.

Verilen bilgilerden doğru olanların başına "D", yanlış olanların başına "Y" yazdığımızda görüntü nasıl olur?

- A)

Y
Y
Y

 B)

D
D
Y

 C)

D
Y
Y

30. Sisli havalarda hangi kıyafeti tercih etmemiz doğru olur?



31.



Pusulada "?" ile boş bırakılan yere hangisi yazılmalıdır?

- A) Kuzey B) Batı C) Güney

32.

Deprem sırasında hangisini yapmamalıyız?

- A) Elimizle başımızı korumalıyız.
- B) Daha önceden belirlediğimiz güvenli yerde beklemeliyiz.
- C) Hemen merdivenlere koşmalıyız.

33.



Kazma kürek yaktıran ay hangisidir?

- A) Nisan B) Mart C) Aralık

34. Aşağıdaki cümlede boş bırakılan yere hangi seçenek gelmelidir?



This is a

- A) mouth
B) nose
C) shoulder

35.



Aşağıdaki cümlede boş bırakılan yere resme göre, hangi seçenek gelmelidir?

These are

- A) arms
B) teeth
C) eyes

36.

Aşağıdaki cümlede boş bırakılan yere hangi seçenek gelmelidir?



This is my

- A) hand
B) head
C) leg

37.

Aşağıdaki cümlede boş bırakılan yere hangi seçenek gelmelidir?



Look at my

- A) feet
B) eyes
C) nose

38.

Aşağıdaki cümlede boş bırakılan yere resme göre, hangi seçenek gelmelidir?

They are

- A) leg
- B) hand
- C) knees



39.

Aşağıdaki cümlede boş bırakılan yere resme göre, hangi seçenek gelmelidir?

These are my

- A) shoulders
- B) ears
- C) legs



40.

Aşağıdaki cümlede boş bırakılan yere hangi seçenek gelmelidir?



' ve got big

- A) mouths
- B) ears
- C) nose

41.

Yandaki resimde hangi organ verilmiştir?

- A) fingers
- B) hands
- C) toes



42.

Aşağıda anlatılan durum, hangi seçenekte resmedilmiştir?
-Raise your hand.

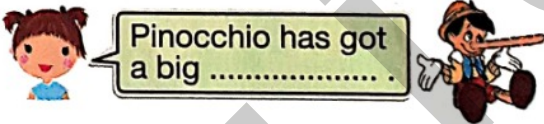


43. Aşağıdaki cümlede boş bırakılan yere resme göre, hangi seçenek gelmelidir?



- A) feet
B) hands
C) heads

44. Aşağıdaki cümlede boş bırakılan yere resme göre, hangi seçenek gelmelidir?



- A) nose
B) ear
C) eye

45. Aşağıdakilerden hangisi vücudun bir parçası **değildir**?

- A) head
B) leg
C) desk