



Toplama işlemlerini yaparak tabloları dolduralım.

+	18	25
51		
40		

+	72	35
29		
16		

Çıkarma işlemlerinin sonuçlarını yazalım.

Matematik Tekrar 34

$$\begin{array}{r} 25 \\ - 15 \\ \hline \end{array} \quad \begin{array}{r} 97 \\ - 73 \\ \hline \end{array} \quad \begin{array}{r} 13 \\ - 11 \\ \hline \end{array} \quad \begin{array}{r} 82 \\ - 26 \\ \hline \end{array} \quad \begin{array}{r} 61 \\ - 50 \\ \hline \end{array}$$

Sayıların okunuşlarını yazalım.

91 →

86 →

29 →

53 →


Sayıları büyükten küçüğe sıralayalım.

56, 67, 34, 59

68, 92, 13, 25

45, 68, 87, 90

Saat kaç gösterdiğini yazalım.


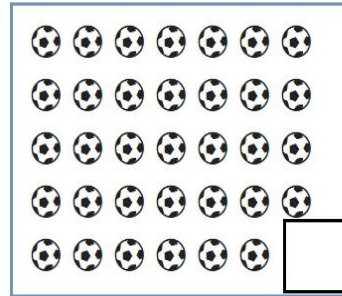


Verilen işlemlere göre sayıları kutucuklara yazalım.

12	
47	59
$47 + 12 = 59$	
$\square + \square = \square$	
$\square - \square = \square$	
$\square - \square = \square$	

85	
23	62
$\square + \square = \square$	
$\square + \square = \square$	
$\square - \square = \square$	
$\square - \square = \square$	

Nesne sayılarını bulalım onluk ve birliklerini gösterelim.



İkişer ritmik saymadaki boşlukları dolduralım.

2		8	
	16		
	24		
32			40
		48	
	54		
62			68
	74		
82		86	90
		98	

Çarpma ve bölme işleminin boşluklarını dolduralım.

24	
6	4
$6 \times \square = 24$	
$4 \times 6 = \square$	
$\square \div 4 = 6$	
$24 \div \square = 4$	

16	
2	8
$\square \times 8 = 16$	
$8 \times 2 = \square$	
$16 \div \square = 2$	
$\square \div 2 = 8$	

Saat kaç olduğunu yazalım.

