

Adı:  
Soyadı:



Matematik  
Çalışma Kağıdı



Tarih  
...../...../2020

### ----Çetele ve Sıklık Tablosu----

Sıklık tablosu verilen şekli çetele tablosu olarak tamamlayınız.

#### Çetele Tablosu

Tablo: Sevilen Renkler

Kırmızı	
Sarı	
Mavi	

#### Sıklık Tablosu

Tablo: Sevilen Renkler

Kırmızı	4
Sarı	9
Mavi	5

### -----Çetele ve Sıklık tablosunu Oluştur-----

Basketbol kursuna katılmak isteyen : 8 öğrenci  
Futbol kursuna katılmak isteyen : 10 öğrenci  
Voleybol kursuna katılmak isteyen : 15 öğrenci  
Hentbol kursuna katılmak isteyen : 4 öğrenci

#### Çetele

Tablo: Spor Dalları

Spor dalı	Kişi sayısı
Basketbol	
Futbol	
Voleybol	
Hentbol	

#### Sıklık

Tablo: Spor Dalları

Spor dalı	Kişi sayısı
Basketbol	
Futbol	
Voleybol	
Hentbol	

### -----Nesne Grafiği-----

Grafik: Çiftlikteki Hayvanlar




Yanda verilen nesne grafiğini inceleyelim ve yorumlayalım.

- 1) Grafiğe göre kaç hayvan türü vardır?
- 2) Grafiğe göre en fazla hangi hayvan bulunur?
- 3) Grafiğe göre toplam hayvan sayısı kaçtır?

### ---Mini Test---

Grafik: En Çok Sevilen Film Türleri



Not: Her ● sembolü 2 öğrenciyi göstermektedir.

- 1) Bu sınıfta en çok hangi film türü sevilmiştir?
- 2) En az sevilen tür ile en çok sevilen film türlerinin toplamı kaçtır?
- 3) Bu sınıfta toplam kaç öğrenci vardır?

Yukarıdaki tablonun çetelesini yapınız.

Film türü	Öğrenci sayısı
Komedi	
Macera	
Çizgi	
Duygusal	

Yukarıdaki tablonun sıklığını yapınız.

Film türü	Öğrenci sayısı
Komedi	
Macera	
Çizgi	
Duygusal	

Adı:  
Soyadı:



Matematik  
Çalışma kağıdı



Atasözünün Anlamını öğren  
Eğri otur, doğru söyle.

----Tablo Okuyalım----

Grafik: 2 F Sınıfı Başkan Adaylarının Oyları

Adaylar	Oy sayısı
 Ayşe	
 Osman	
 Burak	

Her şekil 2 öğrenciyi göstermektedir.

- 1) En çok oyu alan aday:
- 2) En az oyu alan aday :
- 3) Ayşe ile Burak arasındaki oy farkı kaçtır?
- 4) Toplam kullanılan oy sayısı kaçtır?
- 5) Osman ile Burak'ın oy sayısı toplamı Ayşe'nin aldığı oy sayısından kaç fazladır?

-----Bir Problem Çözelim-----

Bir okulun kantininde gün içinde 18 tane tost, 10 tane ayran ve 21 tane su satılmıştır.

Satılan ürünlerin önce çetele tablosunu, sonra sıklık tablosunu oluşturunuz.

Çetele Tablosu


Sıklık Tablosu


----Mini Test----





Grafik: 2 F Sınıfında En Çok Sevilen Mevsim

Mevsimler	Oy sayısı
 Sonbahar	
 Kış	
 İlkbahar	
 Yaz	

Not: Her şekil iki öğrenciyi göstermektedir.

- a. 2 E sınıfında en çok sevilen mevsim hangisidir?
- b. 2 E sınıfında hangi mevsimleri seven öğrenci sayıları eşittir?
- c. 2 E sınıfında yaz mevsimini sevenler, kış mevsimini sevenlerden kaç kişi fazladır?
- ç. 2 E sınıfında toplam kaç öğrenci vardır?

Grafik: Kitaplardaki Kitap Türleri

Kitaplar	Kitapların sayısı
Roman	
Hikâye	
Masal	
Ansiklopedi	

Her şekil 2 kitabı göstermektedir.

- a. Grafiğe göre kitaplıkta sayıca en fazla olan tür hangisidir?
- b. Masal kitaplarının sayısı ile ansiklopedilerin sayısının toplamı kaçtır?
- c. Hikâye kitaplarının sayısı ile romanların sayısının farkı kaçtır?