

İşlemlerin sonuçlarını bulalım.

$$\begin{array}{r} 313 \\ +400 \\ \hline \end{array}$$

$$\begin{array}{r} 567 \\ +345 \\ \hline \end{array}$$

$$\begin{array}{r} 212 \\ +134 \\ \hline \end{array}$$

$$\begin{array}{r} 780 \\ +220 \\ \hline \end{array}$$

$$\begin{array}{r} 413 \\ +500 \\ \hline \end{array}$$

$$\begin{array}{r} 600 \\ +300 \\ \hline \end{array}$$

$$\begin{array}{r} 400 \\ +225 \\ \hline \end{array}$$

$$\begin{array}{r} 176 \\ +218 \\ \hline \end{array}$$

$$\begin{array}{r} 319 \\ -190 \\ \hline \end{array}$$

$$\begin{array}{r} 899 \\ -721 \\ \hline \end{array}$$

$$\begin{array}{r} 208 \\ -114 \\ \hline \end{array}$$

$$\begin{array}{r} 774 \\ -454 \\ \hline \end{array}$$

$$\begin{array}{r} 635 \\ -429 \\ \hline \end{array}$$

$$\begin{array}{r} 852 \\ -658 \\ \hline \end{array}$$

$$\begin{array}{r} 701 \\ -561 \\ \hline \end{array}$$

$$\begin{array}{r} 335 \\ -280 \\ \hline \end{array}$$

## MINİ TEST

$$\begin{array}{r} 920 \\ -357 \\ \hline \end{array}$$

İşleminin sonucu hangi yüzlüğe yakındır?

- A) 500      B) 600      C) 700

Hangi sayının okunuşu yanlış verilmiştir?

- A) Beş yüz beş → 505  
 B) Üç yüz otuz → 303  
 C) Yediyüz yetmiş yedi → 777

✿	14	21		☆	42	49			
---	----	----	--	---	----	----	--	--	--

Yukarıdaki ritmik sayma ileriye sayıldığında ✿ ve ☆ çarpımı kaç olur?

- A) 235      B) 245      C) 255

$$100+100+100+100+100+100+100+100+1+1+1$$

Yukarıda çözümlenmesi verilen sayı kaçtır?

- A) 703      B) 803      C) 903

Aşağıdaki ifadelerden hangisi yanlıştır?

- A) çift + çift = çift  
 B) tek - tek = tek  
 C) çift + tek = tek

Hangisinde altı çizili rakamın basamak değeri doğru verilmiştir?

- A) 270 → 7  
 B) 189 → 90  
 C) 652 → 600

Okunuşu verilen sayıları yazalım.

beş yüz on iki

dokuz yüz dokuz

iki yüz kırk beş

sekiz yüz yetmiş bir

üç yüz elli altı

Sayıların kaç olduğunu yazalım.

3. SINIF MATEMATİK TEKRAR 2

100	100	100	100	100				
10	10	10	10					
1	1	1	1	1	1	1	1	

100	100	100	100	100	100	100	100	100
10	10	10	10	10				
1	1	1						

İşlemlerin sonuçlarını yazalım.

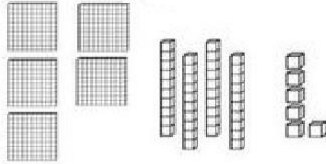
$$\begin{array}{r} 832 \\ -437 \\ \hline \end{array}$$

$$\begin{array}{r} 402 \\ -267 \\ \hline \end{array}$$

$$\begin{array}{r} 920 \\ -638 \\ \hline \end{array}$$

$$\begin{array}{r} 842 \\ -593 \\ \hline \end{array}$$

Sayının rakamlarını ve okunuşunu yazalım.



yüzler	onlar	birler

Okunuşu:

Saatin kaçı gösterdiğini yazalım.



.

Sayıları büyükten küçüğe doğru sembol kullanarak sıralayalım.

634 435 243 162 593

106 371 692 317 482

664 265 328 473 548

Verilen sayılardan başlayarak altışar ileri yazalım.

42

60

18

6

24

Çözümlemiş sayıları yazalım.

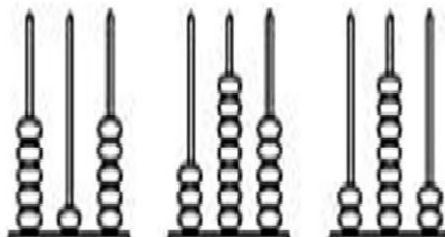
$$600 + 50 + 7 \rightarrow$$

$$300 + 70 + 8 \rightarrow$$

$$600 + 50 + 9 \rightarrow$$

$$600 + 80 \rightarrow$$

Abaküslerde gösterilen sayıları yazalım.




.

.

.

Gösterilen zamanın 35 dk sonrasını yazalım.



.