

MATEMATİK TEKRAR ÇALIŞMASI 1



$\begin{array}{r} 25 \\ + 30 \\ \hline \end{array}$	$\begin{array}{r} 24 \\ - 2 \\ \hline \end{array}$	$\begin{array}{r} 69 \\ - \dots \\ \hline \end{array}$	$\begin{array}{r} \dots \\ - 15 \\ \hline \end{array}$	$\begin{array}{r} 54 \\ + 2 \\ \hline \end{array}$	$\begin{array}{r} 81 \\ - 10 \\ \hline \end{array}$
.....	17	64
$\begin{array}{r} 13 \\ + 31 \\ \hline \end{array}$	$\begin{array}{r} 66 \\ - \dots \\ \hline \end{array}$	$\begin{array}{r} 34 \\ - 14 \\ \hline \end{array}$	$\begin{array}{r} 18 \\ + 20 \\ \hline \end{array}$	$\begin{array}{r} 72 \\ - 44 \\ \hline \end{array}$	$\begin{array}{r} 82 \\ + \dots \\ \hline \end{array}$
.....	43	95

En yakın onlukları boyayın.

27	15	56	21
20	30	10	20
50	60	20	30


"<",">","=" işaretlerinden uygun olanı yazın.

37 ... 81	93 ... 51	56 ... 11
52 ... 52	44 ... 44	61 ... 50

Sayıları büyükten küçüğe sıralayın. (Sembolle)

74, 19, 87, 8, 12

58 Basamak Adı Basamak Değeri



$$12 + 2 = 8 + \dots$$

$$\dots - 4 = 3 + 6$$

$$5 + 8 = \dots + 12$$

$$14 - 12 = \dots + 1$$

Gerçek Sonuç	Tahmin	Fark
33 + 52 =		
14 + 48 =		

Gerçek Sonuç	Tahmin	Fark
93 - 37 =		
44 - 15 =		

1) Nisanur 31 yaşındadır. Betül, Nisanur'dan 11 yaş küçüktür. Buna göre Nisanur ve Betül'ün yaşları toplamı kaçtır?

2) Zümra'nın 21 tane kitabı vardı. Zümra kitaplarının bir miktarını kaybedince 12 tane kitabı kalmıştır. Buna göre Zümra kaç tane kitap kaybetmiştir?

MATEMATİK TEKRAR ÇALIŞMASI 2

Verilen sayıların okunuşlarını yazınız.

Verilen sayıları rakamlarla yazınız.

97.....

altmış dört.....

51.....

altmış bir.....

11.....




yirmi dokuz.....



Aşağıdaki toplama ve çıkarma işlemlerini zihinden yapınız.

90 - 50 =	13 + 13 =	30 - 20 =	60 - 40 =
16 + 32 =	90 - 30 =	23 + 23 =	25 + 17 =

Kutuların altına bilyelerin kaç onluk ve kaç birlikten oluştuğunu yazınız.



..... onluk + birlik

..... onluk + birlik

..... onluk + birlik

İkişer ritmik sayarken 8. söylediğimiz sayı kaçtır?

Dörder ritmik sayarken 10. söylediğimiz sayı kaçtır?

Dörder ritmik sayarken 8. söylediğimiz sayı kaçtır?

Beşer ritmik sayarken 2. söylediğimiz sayı kaçtır?

14, 19, 24, 29, 34, örüntüsünü devam ettirdiğinizde hangi sayıya ulaşırsınız?

40, 36, 32, 28, 24, örüntüsünü devam ettirdiğinizde hangi sayıya ulaşırsınız?

60, 65, 70, 75, 82, 85 örüntüsünü bozan sayı hangisidir?

