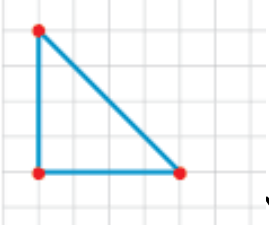
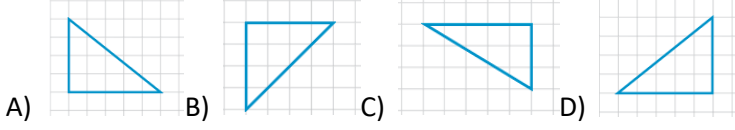


İki kenarının uzunluğu 5 cm ve 7 cm olan üçgeni çizelim.

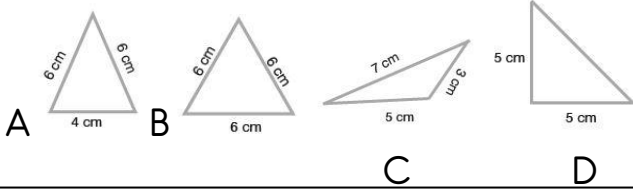


Yandaki üçgenin kenar uzunluğuna göre ismi nedir?

Aşağıdaki üçgenlerden hangisi ikizkenar üçgendir?



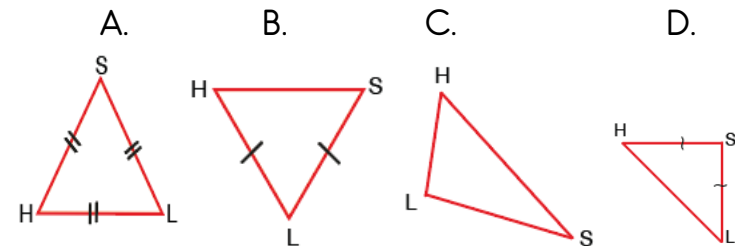
Aşağıdaki üçgenlerden hangisi kenar uzunluklarına göre eşkenar üçgendir?



Aşağıdakilerden hangisi eşkenar üçgen ile ikizkenar üçgenin ortak özelliğidir?

- A) Tüm komşu kenarlarının eşit uzunlukta olması
- B) İki kenarının eşit uzunlukta olması
- C) Üç kenarının eşit uzunlukta olması
- D) İki kenarının dik olması

HS kenarı 12 cm, SL kenarı 9 cm, LH kenarı 7 cm  
Kenar uzunlukları verilen üçgen aşağıdakilerden hangisi olabilir?



1. Kağan , Eylül ayında dokuz yaşına girdi.  
Cümlesinde yazım yanlış hangisi ile ilgilidir?

- A) Ay adları.
- B) Sayılar
- C) kişi adları
- D) kısaltmalar

2. Aşağıdakilerin hangisinde noktanın kullanımı gereksizdir?

- A) 2.'inci dönem başarılı olacağım.
- B) Alperen 29.09.2014 tarihinde doğdu.
- C) Asb. Ömer Demir gelecektmiş.
- D) 08.00 'de ders başlıyor.

3 Aşağıdaki cümlelerin hangisinde eylemin devam ettiği anlaşılmaktadır?

- A) Biraz sonra dışarı çıkacağım.
- B) Yaren dişlerini fırçalıyor.
- C) Sulamayı unutunca çiçekler soldu.
- D) Kağan dün işten çıkmış.

4. Aşağıdakilerden hangisinde sırasıyla tekil ,çoğul , topluluk adı vardır?

- A) toplar ,sürü ,masa
- B) sahil ,kumlar ,orman
- C) sabun , deste , küme
- D) gün , hafta , yıllar

5. Aşağıdaki cümlelerin hangisinde varlığın özelliğini belirten sözcük yoktur?

- A) Eski gazeteleri küçük odada saklıyorum.
- B) Yaren , parkın önünde bizi bekliyor.
- C) Kağan , boş eve girince korkmuş.
- D) Lütfen değerli eşyalarınızı yanınıza alın.

6. Aşağıdaki cümlelerin hangisinde koyu yazılmış kelimelerde yazım yanlışı vardır?

- A) Yemekler benmi pişireyim.
- B) Seni dışarıda bekleyen kim?
- C) Kağan karşıki eve taşındı.
- D) Ona dükkanda yardım ederim.

7. Aşağıdaki cümlelerde koyu yazılan sözcüklerden hangisi adın yerine kullanılmıştır?

- A) Simitleri şuradan aldım.
- B) Şu kalem kimin?
- C) Bu hafta hızlı geçti.
- D) O kitabı okumadım.

1. Ülkemizde tarihi ve turistik yerler her yıl milyonlarca turistin ülkemize gelmesini sağlamaktadır. Bu durum aşağıdaki ekonomik faaliyetlerden hangisinin gelişmesine yol açar?

A) hayvancılık B) otelcilik C) veterinerlik D) odunculuk

2. Pusuladaki ibrenin renkli ucu hangi yönü göstermektedir?

A) doğu B) kuzey C) batı D) güney

3. Aile tarihini araştırmak isteyen Yaren aşağıdaki kaynaklardan hangisini kullanması uygun olmaz?

A) sözlü tarih çalışmasını  
B) yazılı ve görsel kaynaklarını  
C) müze gezilerini  
D) eskiden kalan eşyaları

4. Türkiye Cumhuriyeti kimlik kartımızı hangi kurumdan alırız?

A) belediye başkanlığı  
B) emniyet müdürlüğü  
C) millî eğitim müdürlüğü  
D) nüfus ve vatandaşlık işleri müdürlüğü

5. Madencilik • • pilotluk  
Hayvancılık • • maden mühendisliği  
Ulaşım • • veterinerlik

Meslekler eşleştirildiğinde hangi seçenekteki şekil oluşur?

A)  B)  C)  D) 

6. Her insanın yaşına göre farklı sorumlulukları vardır. Aşağıdakilerden hangisi 9 yaşındaki bir çocuğun sorumluluklarından biri değildir?

A) okul kurallarına uymak  
B) odasını toplamak  
C) ailesinin geçimini sağlamak,  
D) okul eşyalarını korumak

madde	Dara(g)	Brüt kütle(g)	Net kütle(g)
kolonya	230	420	A
zeytinyağı		B	350

1. Farklı iki sıvı madde kütleleri aynı olan kaplarda tartılarak ölçüm sonuçları tabloda verilmiştir. Buna  $A+B$  işleminin sonucu kaç gramdır?

A) 390 B) 760 C) 770 D) 400

2. Aşağıdaki hangisi gaz halindeki maddelerin taşıdıkları özelliklerden biri değildir?

A.) buldukları kabın şeklini alır.  
B) kütleleri vardır.  
C) belirli bir hacimleri yoktur.  
D) sıkıştırılmazlar

4. Aşağıdakilerden hangisi yapımında mıknatısın kullanıldığı araçlardan biri değildir?

A) elektrik motorlar B) kapı kilitleri  
C) pusula D) hoparlör

5. Günümüzde insan sağlığına zarar veren kötü alışkanlıklardan biri de alkol kullanımımızdır. Alkol kullanımı ile ilgili olarak aşağıda verilen bilgilerden hangisi yanlıştır?

A) Karaciğer hastalıklarına neden olur.  
B) Ekonomik kayba neden olur.  
C) Alkol insanda bağımlılık yapmaz.  
D) İnsanda bilinç kaybına neden olur.

6. Bir haftalık sürenin geçmesi için , Dünya'nın kendi eksenî etrafında kaç sefer dönmesi gerekir?

A) 1  
B) 7  
C) 12  
D) 30