

Üçgen , kare ve dikdörtgeni isimlendirme

İsmlendirme , şekillerin köşelerine konulan büyük harfler ile yapılır.

Kare ve dikdörtgenin isimlendirilmesinde sembol kullanılmaz.

Üçgen  sembolü ile gösterilir.

Üçgen , kare ve dikdörtgen isimlendirilirken istenilen bir köşeden başlanır. Sırasıyla diğer köşelerdeki büyük harfler atlanmadan yazılır.

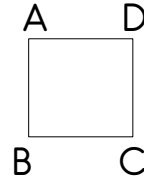
Üçgen : Üç kenarı ve üç köşesi vardır.

Kare : Dört kenarı ve dört köşesi vardır. Dört kenar uzunluğu birbirine eşittir.

Dikdörtgen: Dört kenarı ve dört köşesi vardır. Karşılıklı kenar uzunluğu birbirine eşitti.

örnek

4



ABCD karesi
DABC karesi
CDAB karesi
BCDA karesi

Örnekteki gibi isimlendirelim.

5



..... karesi
..... karesi
..... karesi
..... karesi

Örnek

6



KLMN dikdörtgeni
LMNK dikdörtgeni
MNKL dikdörtgeni
NKLM dikdörtgeni

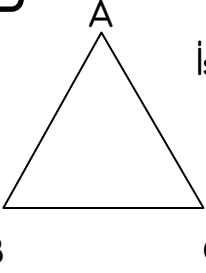
Örnekteki gibi isimlendirelim.

7









..... dikdörtgeni
..... dikdörtgeni
.....dikdörtgeni
.....dikdörtgeni

1

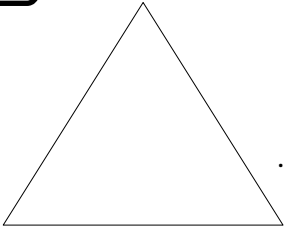


İsmlendirip sembolle gösterimleri

  
ABC , CBA , BCA ,
  
ACB , CAB BAC

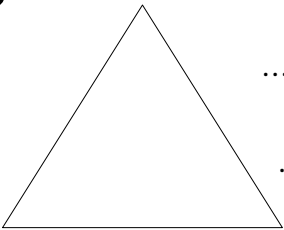
Örnekteki gibi isimlendirip sembolle gösterin.

2



.....
.....

3



.....
.....