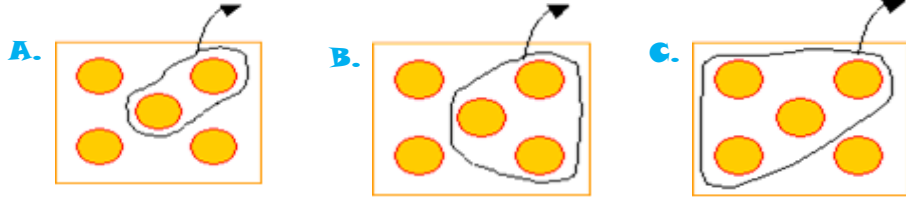


## 1.Sınıf Genel Kazanım Değerlendirme Testi- Matematik

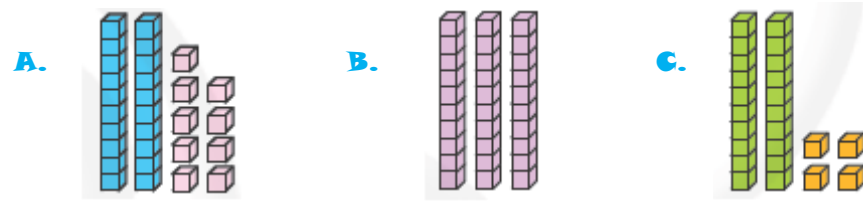
1-  $5 - 4 = 1$  işlemini ifade eden şema hangisidir?



2- Aşağıdaki sayılardan hangisinin onluk sayısı fazladır?

- A. 39      B. 81      C. 28

3- Aşağıda modellerle gösterilen sayılardan hangisi en küçüktür?



4- Bir sınıfta 6 erkek öğrenci vardır. Erkeklerden 2 fazlada kız öğrenci vardır. Bu sınıftaki toplam öğrenci sayısı kaçtır?


- A. 14      B. 12      C. 8

5- "Şekillerin, sayıların ve varlıkların bir kurala göre dizilmesine **örüntü** denir."

Aşağıdakilerden hangisi örüntü **değildir**?

- A. ★♥★♥★♥★♥★♥
- B. ★★♥♥★★♥♥★★♥♥
- C. ★★♥★♥★★♥★★♥

6-



Yukarıdaki geometrik şekillerin isimleri hangi seçenekte sırasıyla verilmiştir?

- A. daire- çember
- B. çember- küp
- C. üçgen-daire

7-



Yukarıdaki paraların toplamı kaç lira eder?

- A. 17 ₺      B. 18 ₺      C. 19 ₺

8-




Doğduğum gün birinci aydadır.

Mert hangi ayda doğmuştur?

- A. Ocak      B. Nisan      C. Aralık

9- Aşağıdaki saatlerden hangisi **on buçuğu** (10.30) göstermektedir?



10- Aşağıdaki işlemlerden hangisinin sonucu 2 onluktur?

- A.  $12 - 8$       B.  $13 + 6$       C.  $15+5$