




1. SINIF



DENEME SINAVI - 3



Adı :.....
Soyadı:.....
Sınıf :.....
No :.....

TÜRKÇE

OYUNCAKÇI AMCA

Oyuncakçı amca,
Ne çok oyuncakların var;
Top, tank, tüfek, tabanca...
Gövdem titriyor,
Onlara bakınca!

N'olursun oyuncakçı amca,
Bundan böyle bizlere,
Oyuncak tüfekler yerine,
Ak yelkenli bir gemi,
Bir de süslü bebekler getir,
Unutma emi?

Sonra oyuncakçı amca,
Senden aldığım tüfekleri,
Bozarak onlardan kuş yaptım,
Bana kızmazsın değil mi?

Abdülkadir BULUT



1. Sınıf

İlk 2 soruyu şiire göre cevaplayınız.

1. Aşağıdakilerden hangisi şairin oyuncakçıdan getirmesini istediği oyuncaklardan biridir?



2. Şiire göre şair oyuncakçıdan aldığı tüfekleri ne yapmıştır?



3. Terli terli su içti.

Pelin top oynarken terledi.

Hasta oldu ve doktora gitti.

Yukarıdaki cümleler oluş sırasına göre sıralandığında son cümle hangisi olur?



4. " Salih, yazdığı yazıda beş tane **nokta** kullanmıştır. "

Buna göre Salih'in yazısı kaç cümledir?

A) 4

B) 5

C) 8

1 Okullar tatil edildi.

2 Annem pazar günü gelecek.

3 Bahçede kaplumbağa var.

5. Yukarıdaki cümlelerden hangisinin hece sayısı diğerlerinden fazladır?

A) 1

B) 2

C) 3

6.

atla

lama

?

masa

Yukarıdaki kelimeler kendinden önceki kelimenin son hecesiyle başlamaktadır.

Soru işareti bulunan yere hangi kelime gelmelidir?

A) saat

B) salı

C) salata

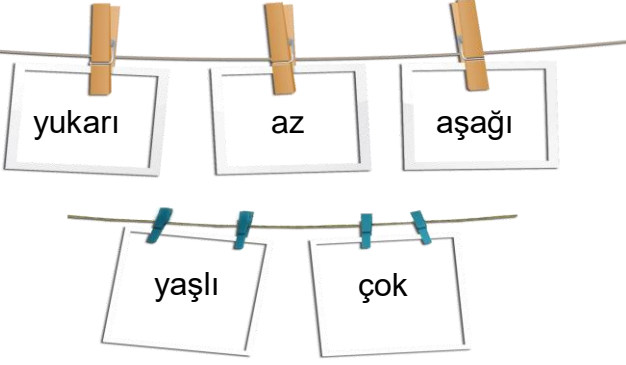
7. Aşağıdaki verilen cümlelerden hangisinde yazımı yanlış bir kelime vardır?

A) Trabzon bugün çok sıcaktı.

B) Merve spor yapıyor.

C) Babam tirenle Bolu'ya gitti.

8.



Yukarıdaki zıt anlamlı kelimeler eşleştirilirse hangisi dışarda kalır?

- A) **aşağı** B) **yaşlı**
C) **çok**

9.



Yukarıdaki karışık olarak verilen kelimelerle kurallı ve anlamlı bir cümle oluşturulursa cümle nasıl olur?

- A) **İstiklal Marşı ve bayrağımız bağımsızlığımızın sembolüdür.**
B) **İstiklal Marşı ve bayrağımız sembolüdür bağımsızlığımızın.**
C) **Bağımsızlığımızın sembolüdür İstiklal Marşı ve bayrağımız.**

10.

Pastada çilek () muz ve kivi olduğunu biliyor musunuz?

Yukarıdaki **ayraç** () içine aşağıdaki noktala işaretlerinden hangisi yazılmalıdır?

- A) B)
C)

MATEMATİK

1.



Yandaki kalemlik aşağıdaki geometrik şekillerden hangisine benzemektedir ?

- A) B)
C)

2.



Yukarıdaki beşerli ritmik saymada soru işareti yerine sırasıyla hangi sayılar gelmelidir?

- A) **10 30**
B) **5 25**
C) **15 35**

3.



12 tane boya kalemim vardı. 10 tanesini kaybettim.




Buna göre Esmâ'nın kaç tane kalemi boya kalmıştır?

- A) B) C)

4.




Aşağıdaki paralardan hangisi daha büyüktür?

- A) B)
C)

Çiçek çeşitleri	Çiçek sayısı
Gül	
Papatya	
Lale	

5 ve 6. soruyu tabloya göre cevaplayınız.

5. Yukarıdaki çiçek tablosuna göre hangi çiçeklerin sayısı birbirine eşittir?

- A) 
- B) 
- C) 

6. Tabloya göre lale ve gül sayılarının toplamı, papatya sayısından kaç fazladır?

- A) 4 B) 5 C) 6



Yukarıdaki yarım çilekler kaç bütün çilek eder ?




- A) 
- B) 
- C) 

8 + 7 13 + 2 11 + 3 10 + 5 9 + 6

8. Yukarıdaki işlemlerden kaç tanesi on beşe eşittir?

- A) 4 B) 5 C) 6

9. Aşağıdaki örüntülerden hangisinin kuralı "2 üçgen, 1 kare" şeklindedir?

- A) 
- B) 
- C) 

10.



İki kedi ve bir tavuğun ayak sayıları toplamı kaçtır?

- A) 8 B) 9 C) 10

HAYAT BİLGİSİ

1. Aşağıdakilerden hangisi milli bayrama ait bir görseldir?

A)



B)



C)



2.

Atatürk ilkokulu 1/B sınıfına gidiyorum.

Naz aşağıdakilerden hangisini yapamaz?

A)



B)



C)



3. Ülkemizdeki yerleşim birimlerinin küçükten büyüğe doğru sıralanışı aşağıdakilerden hangisidir?

A) İl - İlçe - Köy

B) Köy - İl - İlçe

C) Köy - İlçe - İl

4.



Anıtkabir, Türkiye'nin başkenti 'da yer alan Mustafa Kemal Atatürk'ün anıt mezarıdır.

Yukarıda boş bırakılan yere hangisi yazılmalıdır?

A) Ankara

B) İstanbul

C) Samsun

5. Aşağıdakilerden hangisi Türkiye'deki şehirlerden değildir?

A) Konya

B) Erzurum

C) Roma

6.

Bayramlarda en çok yaşanan duygu aşağıdakilerden hangisidir?

A) Mutluluk

B) Üzüntü

C) Öfke

7.

Aşağıdaki görsellerden hangisi sonbahar mevsimine aittir?

A)



B)



C)



8.



Akşam yemeğinde hayvansal besin yemek istiyorum.

Sünger Bob aşağıdakilerden hangisini yemelidir?

A) Yeşil fasulye

B) Döner

C) Makarna

9.

Aşağıdakilerden hangi bilgi yanlıştır?

A) Haftanın ilk günü cumadır.

B) Ağaçlar ilkbaharda çiçek açar.

C) Atatürk'ün annesi Zübeyde Hanım'dır.

10.

Cumhuriyetimizin kurucusu ve ilk cumhurbaşkanımız kimdir?

A) Fatih Sultan Mehmet

B) Mehmet Akif Ersoy

C) Mustafa Kemal Atatürk.