

Adı : .....

Soyadı: .....

## MATEMATİK

Doğru Sayısı : .....



Yanlış sayısı: .....



1. Deniz şimdi 13 yaşındadır. Deniz 5 yıl önce kaç yaşındaydı ?

- A) 9      B) 18      C) 8

2. Yandaki toplama işleminde verilmeyen toplanan aşağıdakilerden hangisidir?

$$\begin{array}{r} \square \\ + 24 \\ \hline 59 \end{array}$$

- A) 25      B) 35      C) 34

3. Yandaki çıkarma işleminde verilmeyen çıkan aşağıdakilerden hangisidir?

$$\begin{array}{r} 40 \\ - \square \\ \hline 23 \end{array}$$

- A) 27      B) 17      C) 63

4. Tabaktaki fındıkların 26 tanesini yedikten sonra 38 tane fındık kalmış. Fındıkları yemeden önce tabakta kaç tane fındık vardı?

- A) 64      B) 54      C) 12

5. Bir çıkarma işleminde çıkan 19, fark 45 olduğuna göre eksilen kaçtır ?

- A) 26      B) 64      C) 66

6.  $10 + 8 + 24 = 8 + 24 + \blacktriangle$  Yandaki toplama işleminde eşitliğin sağlanması için  $\blacktriangle$  yerine hangi sayı gelmelidir ?

- A) 10      B) 8      C) 9

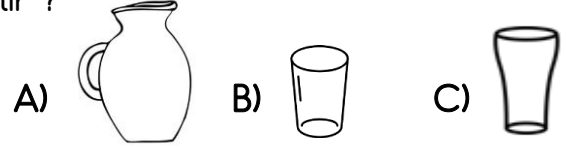
7. Sinan'ın 50 lirası vardı. 18 liraya kitap, 9 liraya boya aldı. Sinan'ın kaç lirası kaldı ?

- A) 32      B) 27      C) 23

8. Aşağıdaki eşitliklerden hangisi yanlıştır?

- A)  $7+2=12-3$       B)  $14-6=5+4$   
C)  $13-5=6+2$

9. Aşağıdakilerden hangisinde daha çok sıvı alır ?




10. Yandaki sürahi 5 bardak su ile dolmaktadır. 2 Sürahi kaç bardak su ile dolar?

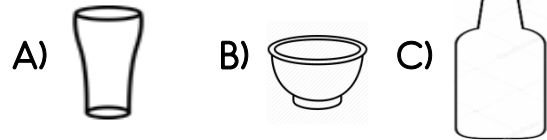


- A) 5      B) 10      C) 12

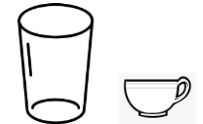
11. Aşağıdaki kaplardan hangisinde sıvı miktarı daha azdır ?



12. Yandaki kova aşağıdaki kaplardan hangisiyle daha çabuk doldurulur ?



13. Bir fincan bir su bardağını 4 seferde doldurmaktadır. Bir fincan 3 su bardağını kaç seferde doldurur?



- A) 10      B) 12      C) 8