



2019-2020 EĞİTİM ÖĞRETİM YILI
4. SINIF NİSAN AYI DENEME SINAVI



HAZIRLAYAN
HASAN YILDIRIM



ÖĞRENCİNİN	
ADI SOYADI	
SINIFI	
OKUL NO	

TÜRKÇE

Huy..... huyun..... vazgeçmez.'

1- Yukarıdaki atasözünde boş bırakılan yerlere hangi hal ekleri yazılmalıdır?

- a) -suz, -a
- b) -lu, -u
- c) -suz, -da
- d) -lu, -dan

2- Aşağıdaki sözcüklerden hangisi birden fazla yapım eki almıştır?

- a) evli
- b) evci
- c) evsiz
- d) evcilik

3- Aşağıdaki sözcük-sözcük türleri eşleştirmesinden hangisi yanlıştır?

- a) Kırşehir-Bileşik sözcük
- b) Balık-Basit sözcük
- c) Saatçi-Türemiş özcük
- d) Kitaplık-Bileşik sözcük

4- Aşağıdaki cümlelerin hangisinde ismin yerine kullanılan bir sözcük vardır?

- a) Akşam kitap okuyacağım.
- b) Ayşe geleceğini söyledi.
- c) Siz gördünüz mü?
- d) Ali Ankara'ya gitmiş.

5- 'Akıl' sözcüğü ile ilgili aşağıda verilenlerden hangisi yanlıştır?

- a) Tür isimdir.
- b) Somut isimdir.
- c) Tekil isimdir.
- d) Basit isimdir.

(I)O gün Ervalara teyzesi gelmişti.
(II)Erva'ya kıpkırmızı bir toka hediye etti. (III)Erva hediyesini çok beğendi.
(IV)Teyzesine teşekkür etti.

6- Yukarıdaki paragrafta numaralandırılmış cümlelerin hangisinde pekiştirme yapılmıştır?

- a) I
- b) II
- c) III
- d) IV

7- Aşağıdaki cümlelerden hangisinde sıfat varlığın durumunu belirtmiştir?

- a) Çürük elmalar nerede?
- b) Kırmızı elma severim.
- c) İki elma kalmış.
- d) Yuvarlak elma tatlıymış.

8- 'Gideceksiniz' eylemi ile ilgili olarak aşağıdakilerden hangisi **doğrudur**?

- a) Zamani gelecek zamandır.
- b) Zamiri 1. tekil kişidir.
- c) Zamani geniş zamandır.
- d) Zamiri 2. tekil kişidir.

Aldım elime bir kağıt.'

9- Yukarıdaki cümlenin kurallı ve olumsuz cümle olarak yazılışı hangisidir?

- a) Elime bir kağıt aldım.
- b) Elime aldım bir kağıt.
- c) Elime almadım bir kağıt.
- d) Elime bir kağıt almadım.

10- Aşağıdakilerden hangisinde eğik çizgi(/) yanlış kullanılmıştır?

- a) <http://www.meb.gov.tr>
- b) 05/Nisan/2019
- c) 50/5=10
- d) Gül Sok. No:4/5 Darıca/KOCAELİ

MATEMATİK

571.757

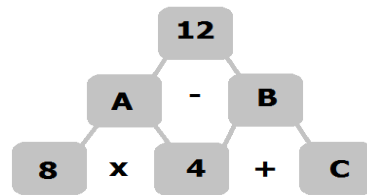
11- Yukarıda verilen sayı ile ilgili aşağıdakilerden hangisi **yanlıştır**?

- a) Altı basamaklı bir sayıdır.
- b) Birler bölüğü 757'dir.
- c) Yüzler basamağında 5 vardır.
- d) 1 rakamı binler basamağındadır.

$$\dots\dots\dots + \dots\dots\dots = 4700$$

12- Yukarıda toplamı yazılmış olan işlem aşağıdakilerden hangisi **olamaz**?

- a) 2200+1500
- b) 1700+3000
- c) 2500+2200
- d) 1200+3500



13- Yukarıda verilen işlem şemasına göre 'A+B+C=?' işleminin sonucu kaçtır?

- a) 32
- b) 48
- c) 56
- d) 68

14- 7 yıl önce 23 yaşında olan Abdullah, 8 yıl sonra kaç yaşında olur?

- a) 30
- b) 38
- c) 45
- d) 49

15- Elektrik faturasına 150, su faturasına 50, doğal gaz faturasına 200, kredi kartına 500, kiraya 600 ödeyen bir kişinin cebinde 500 lira kaldığına göre ödemeleri yapmadan önce cebinde kaç lirası vardı?

- a) 1000 b) 1250 c) 1650 d) 2000

$$\frac{3}{9} + \frac{2}{9} + \frac{4}{9} = ?$$

16- Yukarıdaki işlemin sonucu kaçtır?

- a) $\frac{7}{9}$ b) $\frac{8}{9}$ c) 1 d) $\frac{10}{9}$

17- 25'in $\frac{2}{5}$ 'si ile 35'in $\frac{3}{7}$ ünün

toplamı kaçtır?

- a) 17 b) 25 c) 31 d) 42

I) 3 saat 180 saniyedir.

II) 2 gün 48 saattir.

III) 3 hafta 90 gündür.

IV) 1 yıl 12 aydır.

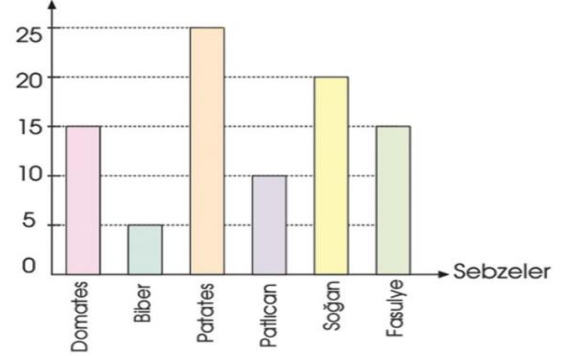
18- Yukarıda verilen eşitlikler ile ilgili aşağıdaki ifadelerden hangisi **doğrudur**?

- a) I-II doğru, III-IV yanlıştır.
b) I-III doğru, II-IV yanlıştır.
c) II-III doğru, I-IV yanlıştır.
d) II-IV doğru, I-III yanlıştır.

19- Saat 17:00'de kitap okumaya başlayan Selin, 120 dakika kitap okumuştur. Selin kitap okumayı bitirdiğinde saat kaçtır?

- a) 19:00 b) 19:30
c) 20:00 d) 20:30

Grafik: Lokantanın Kullandığı Sebze Miktarları
Miktar (kg)



20- Yukarıdaki sütun grafiğine bakılarak aşağıdaki sorulardan hangisinin cevabına ulaşamaz?

- a) En az kullanılan sebze hangisidir?
b) En fazla kullanılan sebze hangisidir?
c) Toplam kaç kg sebze kullanılmıştır?
d) Lokanta sahibi kaç lira kazanmıştır?

FEN BİLİMLERİ

Dünya'mız kendi etrafındaki dönüşünü
saatte tamamlar. Bu zaman dilimine
gün denir.

21- Yukarıdaki cümlede boş bırakılan yerlere sırasıyla hangi sayılar yazılmalıdır?

- a) 24-1 b) 1-365
c) 365-30 d) 30-1

22- Aşağıdaki yağlardan hangisi bir yönü ile diğerlerinden farklıdır?

- a) Zeytin yağı b) Tereyağ
c) Ayçiçek yağı d) Mısır yağı

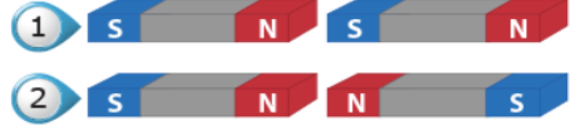


23- Yukarıdaki besinlerden kaç tanesi düzenleyici besinler grubunda yer alır?

- a) 1 b) 2 c) 3 d) 4

24- Aşağıdakilerden hangisi kuvvetin şekil değiştirici etkisine bir örnektir?

- a) Avuçta sıkılan yumurtanın kırılması
b) Ayakla vurulan topun yuvarlanması
c) Pedalı çevirince bisikletin hızlanması
d) Sallanan beşiğin elle durdurulması



25- Yukarıda görseli verilen mıknatıslar ile ilgili aşağıdaki ifadelerden hangisi doğrudur?

- a) 1'deki mıknatıslar birbirini çeker.
b) 2'deki mıknatıslar birbirini çeker.
c) 1'deki mıknatıslar birbirini iter.
d) Tüm mıknatıslar birbirini iter.

*Suda batar.

*Suyu emmez.

*Mıknatıs çekmez.

26- Yukarıda özellikleri verilen madde aşağıdakilerden hangisidir?

- a) Sünger b) Havlu
c) Taş d) Demir bilye

27- Aşağıdakilerden hangisi katı maddelerin özelliklerinden biri **değildir**?

- a) Akışkan değildir.
b) Taş ve kalem örnek olabilir.
c) Konulduğu kabın şeklini almaz.
d) Belirli bir şekli yoktur.

I) Ayran - saf madde

II) Tuz - karışım

III) Demir - saf madde

28- Yukarıdaki eşleştirmelerden hangisi veya hangileri **doğrudur**?

- a) Yalnız I
- b) I ve II
- c) I-II-III
- d) Yalnız III

29- Aşağıdaki karışımlardan hangisi süzme yöntemi ile **ayrıştırılamaz**?

- a) Su ve pirinç karışımı
- b) Su ve tuz karışımı
- c) Su ve fasulye karışımı
- d) Su ve nohut karışımı

Işık kirliliğinin doğal hataya bir çok olumsuz etkisi vardır.

30- Yukarıdaki ifadeye göre aşağıdakilerden hangisi ışık kirliliğinin doğal hayata olan olumsuz etkilerinden biri **değildir**?

- a) Göçmen kuşların düşmesi
- b) Mercanların beyazlaması
- c) Gökbilimcilerin yıldızları izleyememesi
- d) Deniz kaplumbağalarının yolunu kaybedip denize ulaşamaması

SOSYAL BİLGİLER



Sizin düşüncelerinize saygı duyuyorum. Ancak bu konuda sizin gibi düşünmüyorum. Bu konuda benim fikirlerim farklı.

31- Yukarıdaki sözlerinden yola çıkarak Arda ile ilgili aşağıdakilerden hangisine **ulaşabiliriz**?

- a) Farklı düşüncelere saygılıdır.
- b) Eleştiriye açık değildir.
- c) Kendi fikirlerini benimsetmeye çalışır.
- d) Başkalarını önemsemez.

I Aile büyüklerimiz ile görüşme yapma,

II Geçmişte kullanılan eşya ve kıyafetleri inceleme,

III Aile fotoğraf albümünü inceleme

32- Aile tarihi oluşturmak için yukarıdaki yöntemlerden hangileri kullanılabilir?

- a) I-II
- b) II-III
- c) I-III
- d) I-II-III

Düşmanların yurdu işgal etmesi herkeste derin bir üzüntü uyandırmıştı. Yaptığı savaşlarda büyük başarılar kazanan ve halkın güvenini kazanan Mustafa Kemal ülkesini düşman işgalinden kurtarmak için harekete geçti.

33- Mustafa Kemal 19 Mayıs 1919'da hangi şehrimize giderek Kurtuluş Savaşı'nı başlatmıştır?

- a) Erzurum
- b) Sivas
- c) Samsun
- d) Ankara



Umut, geceleyn yolunu bulmak için Kutup Yıldızı'nın bulunduğu yöne doğru ilerlemiştir.





34- Yukarıdaki bilgiye göre Umut, hangi yöne doğru ilerlemiştir?

- a) Doğu b) Batı
c) Kuzey d) Güney



Rüzgâr, nem, sis, sıcaklık, yağış gibi durumlara ne denir?

35- Hayrunnisa Öğretmenin sorusuna hangi öğrenci doğru cevap vermiştir?

- a)  İklim b)  Hava olayı
c)  Hava durumu d)  Meteorolog

36- Aşağıdakilerden hangisinin kullanım alanı diğerlerinden farklıdır?

- a) Steteskop b) Röntgen cihazı
c) Tansiyon aleti d) Teleskop

37- Aşağıdakilerden eşleştirmelerden hangisi yanlıştır?

- a) Ampul - Thomas Edison
b) Telefon - Graham Bell
c) Zeplin - Ferdinand von Zeppelin
d) Uçak - Kromozof Kardeşler

Hamza'nın babası yaz mevsiminde turist rehberliği yapıyor. Diğer mevsimlerde ise seracılık yapıyor.

38- Yukarıda verilen bilgiye göre Hamzalar aşağıdaki şehirlerden hangisinde yaşıyor olabilir?

- a) İstanbul b) Rize
c) Antalya d) Erzurum

I-Poşet

II-Fiş

III-Para üstü

IV-Fatura

39- Alışverişten sonra yukarıdakilerden hangilerini almak vatandaşlık görevidir?

- a) I-IV b) II-III
c) I-III d) II-IV

40- Aşağıdakilerden hangisi ekmek israfını önlemek için alınabilecek önlemlerden biri **değildir**?

- a) En yakın yerden ekmek almak.
b) İhtiyacımız kadar ekmek almak.
c) Paketli ekmek almak.
d) Öncelikle bayat ekmekleri tüketmek.

DİN KÜLTÜRÜ VE AHLAK BİLGİSİ

41- Aşağıdakilerden hangisi Peygamberimizin kız çocuklarından biri **değildir**?

- a) Hacer b) Rukiye
c) Zeynep d) Ümmü Gülsüm

Mekkeliler, Hz. Muhammed'e dürüst ve güvenilir anlamına gelen lakabını vermişti.

42- Yukarıda boş bırakılan yere aşağıdakilerden hangisi gelmelidir?

- a) Cesur b) Emin
c) Sadık d) Ahlaklı

43- Peygamberimizin anne ve babalarının isimleri hangi şıkta doğru olarak verilmiştir?

- a) Halime - Halis
b) Amine - Abdullah
c) Hafsa - Abdülmuttalip
d) Aişe -Ebubekir

I-Hz.Halime tarafından annesine teslim edildi.

II-Dedesı Abdülmuttalib'i kaybetti.

III-Babası Abdullah vefat etti.

IV-Ebu Talib'in himayesine girdi.

44- Yukarıda numaralandırılmış olaylar hangi seçenekte kronolojik olarak doğru sıralanmıştır?

- a) I-III-IV-II
b) III-I-IV-II
c) I-II-IV-III
d) III-I-II-IV

45-Peygamberimizin süt annesi ile kaldığı dönem için verilen bilgilerden hangisi yanlıştır?

- a) Süt annesinden sonra dedesinin yanında kalmıştır.
b) Süt annesi ile dört yıl kalmıştır.
c) Süt annesinin ismi Halime'dir.
d) Peygamberimizin süt kardeşleri vardır.

İNGİLİZCE

46- Aşağıdaki eşleştirmelerden hangisi yanlıştır?

- a) 23 = Twenty-three
- b) 38 = Thirty-eight
- c) 49 = Forty - five
- d) 57 = Fifty - seven

1. Sarah, are you German?
2. Where are you from?
3. I'm from England.
4. No, I'm not.

47- Anlamalı bir cümle oluşturmak için yukarıdaki cümleler hangi sırada olmalıdır?

- a) 1-4-2-3
- b) 1-3-2-4
- c) 2-4-1-3
- d) 2-3-4-1




48- Görsele göre konuşma hangi cümle ile tamamlanabilir?

- a) May I take your book?
- b) May I speak?
- c) May I leave the classroom?
- d) May I turn off the light?

49- Aşağıdaki ülke-ulus eşleştirmelerden hangisi yanlıştır?

- a) England → English
- b) China → Chinese
- c) Japan → Japanish
- d) Germany → German



50- Görsele göre konuşma hangi cümle ile tamamlanabilir?

- a) Yes, she is.
- b) No, he isn't.
- c) Maybe.
- d) I think so.

OPTİK FORM

Adı Soyadı	Sınıfı	Okul No

Cevaplarınızı aşağıdaki forma dikkatlice işaretleyiniz.

1	a	b	c	d
2	a	b	c	d
3	a	b	c	d
4	a	b	c	d
5	a	b	c	d
6	a	b	c	d
7	a	b	c	d
8	a	b	c	d
9	a	b	c	d
10	a	b	c	d
11	a	b	c	d
12	a	b	c	d
13	a	b	c	d
14	a	b	c	d
15	a	b	c	d
16	a	b	c	d
17	a	b	c	d
18	a	b	c	d
19	a	b	c	d
20	a	b	c	d
21	a	b	c	d
22	a	b	c	d
23	a	b	c	d
24	a	b	c	d
25	a	b	c	d

Etkinlik Burada

26	a	b	c	d
27	a	b	c	d
28	a	b	c	d
29	a	b	c	d
30	a	b	c	d
31	a	b	c	d
32	a	b	c	d
33	a	b	c	d
34	a	b	c	d
35	a	b	c	d
36	a	b	c	d
37	a	b	c	d
38	a	b	c	d
39	a	b	c	d
40	a	b	c	d
41	a	b	c	d
42	a	b	c	d
43	a	b	c	d
44	a	b	c	d
45	a	b	c	d
46	a	b	c	d
47	a	b	c	d
48	a	b	c	d
49	a	b	c	d
50	a	b	c	d

DOĞRU	YANLIŞ	BOŞ	PUAN

Cevap Anahtarı

1 D	26 C
2 D	27 D
3 D	28 D
4 C	29 B
5 B	30 C
6 B	31 A
7 A	32 D
8 A	33 C
9 D	34 C
10 B	35 B
11 C	36 D
12 A	37 D
13 D	38 C
14 B	39 D
15 D	40 A
16 C	41 A
17 B	42 B
18 D	43 B
19 A	44 D
20 D	45 A
21 A	46 C
22 B	47 A
23 C	48 C
24 A	49 C
25 A	50 B

Cevap Anahtarı

1 D	26 C
2 D	27 D
3 D	28 D
4 C	29 B
5 B	30 C
6 B	31 A
7 A	32 D
8 A	33 C
9 D	34 C
10 B	35 B
11 C	36 D
12 A	37 D
13 D	38 C
14 B	39 D
15 D	40 A
16 C	41 A
17 B	42 B
18 D	43 B
19 A	44 D
20 D	45 A
21 A	46 C
22 B	47 A
23 C	48 C
24 A	49 C
25 A	50 B

Cevap Anahtarı

1 D	26 C
2 D	27 D
3 D	28 D
4 C	29 B
5 B	30 C
6 B	31 A
7 A	32 D
8 A	33 C
9 D	34 C
10 B	35 B
11 C	36 D
12 A	37 D
13 D	38 C
14 B	39 D
15 D	40 A
16 C	41 A
17 B	42 B
18 D	43 B
19 A	44 D
20 D	45 A
21 A	46 C
22 B	47 A
23 C	48 C
24 A	49 C
25 A	50 B

İndirme sayısına göre devamı gelecek. Faydalı olması dileğiyle...

<https://www.etkinlikburada.com/kanal.php?ch-name=hasan-yildirim>