



SAAT PROBLEMLERİ


1- Erva pazartesi günü 2 saat 10 dakika, Salı günü 1 saat 30 dakika ders çalışmıştır. Erva, bu iki günde toplam kaç saat ve kaç dakika ders çalışmıştır?



2- Günce saat 14.15'te spor yapmaya başlamıştır. 40 dakika sonra sporunu bitirdiğinde saat kaçtır?




3- Günde 30 dakika kitap okuyan Emir, bir haftada kaç saat ve kaç dakika kitap okumuştur?




ceydaogretmen 


4- Doğan 22.00'de uyumuş. 07.15'te uyanmıştır. Doğan kaç saat uyumuştur?



5- Pırl her sabah 09.50'de canlı derse başlıyor ve 11.50'de dersini bitiriyor. Pırl'ın günde kaç saat ve kaç dakika canlı derse katıldığını bulalım.



6- 16.15'te uçağa binecek olan Cemre, 2 saat 35 dakika sonra gitmek istediği yere varacaktır. Cemre vardığında saat kaç gösterir?



SAAT PROBLEMLERİ?

7- Erdem saat 15.00'de bilgisayar oyunu oynamaya başlamış ve ekran başında 1 saat 20 dakika kalmıştır. Erdem oyun oynamayı bıraktığında saat kaç gösterir?



8- Bir kahve makinesi 2 dakika 30 saniyede kahveyi hazır etmektedir. Bu makine 4 kahveyi kaç dakika ve saniyede hazırlar?




9- Erdem 14.30 gitar dersine başlamıştır. 30 dakika çalıştıktan sonra 10 dakika dinlenme molası vermişlerdir. Erdem 2. Derse saat kaçta başlayacaktır?



ceydaogretmen

10- Saat 12.00'de Rize'den hareket eden bir otobüs 13.35'de Trabzon'a vardığına göre yolculuk kaç saat ve dakika sürmüştür?



11- Defne grip olduğu için 4 saatte bir ağrı kesici şurup içmektedir. Defne bir günde kaç kez şurup içmiştir?



12- Mine, her hafta sonu tatilinde köye gitmektedir. Mine bir ayda kaç kez köye gider bulalım. (not: bir ay 30 gün)

