


ADI SOYADI:


Maddelerin uygun hallerini ✓ işareti ile işaretleyelim.

Madde	Katı	Sıvı	Gaz
süt			
bardak			
kan			
doğal gaz			
ağaç			
kaya			
ayran			
su buharı			
sis			
kan			
kitap			
limonata			
otobüs			
bulut			
hava			
kum			
su			

Görselde olan katı maddelerden 5 tanesinin adını yazalım.





Aşağıdaki görsellerdeki sıvı ve gaz maddeleri yazalım.




Aşağıdaki görsellere katı,sıvı ve gaz terimlerinden uygun olanı yazalım.



.....



.....



.....



.....

### 3.SINIF FEN BİLİMLERİ 6

## MİNİ TEST

Aşağıdaki görsellerden hangisi gaz hâli ifade eder?



misket	ayran	kalem
süt şişesi	ağaç	masa
araba	su	cam

Yukarıdakilerden kaç tanesi katı maddelere örnektir?

A) 8 B) 7 C) 6

Aşağıdakilerden hangisi sıvıların özelliklerinden değildir?

- A) Buldukları kabın şeklini alırlar.
- B) Belirli bir şekilleri vardır.
- C) Akışkandırlar.

Aşağıdakilerden hangisi katı bir maddedir?

- A) Meyve suyu
- B) Soda
- C) Meyve