



KEPEZ MEVLANA İLKOKULU

1.SINIF HAFTALIK DEĞERLENDİRME SINAVI-2



Adı Soyadı:.....


Puanı:.....

1. Aşağıda verilen küçük harfleri, büyük harflerle eşleştiriniz. (10 puan)

y ö r i d s b z ç g

Ö Y D R I S Ç G B Z

2. Aşağıda verilen görselleri, adları ile eşleştiriniz. (10 puan)



çikolata


çiçek

geyik

gözlük

çekirge

3. Aşağıda verilen görsellerin altlarına adlarını yazınız. (10 puan)



.....

.....

.....

.....

.....

gitar

gemi

göz

çilek

çanta

4. Aşağıdaki cümleyi okuyup soruları cümleye göre cevaplayınız. (20 puan)

Güçlin Salı günü yolda çekirge gördü.

Kim gördü?



Ne gördü?



Nerede gördü?



Ne zaman gördü?



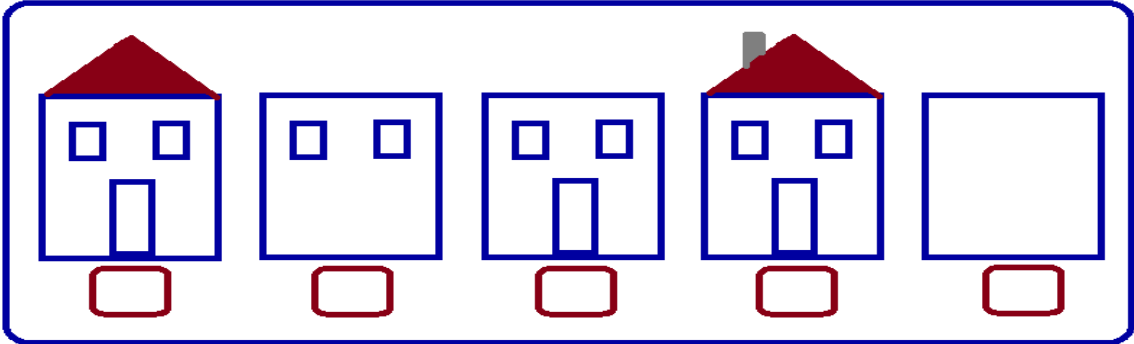
5. Aşağıdaki ritmik saymalarda boş bırakılan yerleri doldurunuz. (15 puan)

10	20	40	60	80	110
----	----	------	----	------	----	------	----	------	------	-----

5	15	20	35	40	55
---	------	----	----	------	------	----	----	------	------	----

20	19	16	15	12	10
----	----	------	------	----	----	------	------	----	------	----

6. Aşağıdaki evin çiziliş sırasını, sıra bildiren sayıları kullanarak yazınız. (15 puan)



7. Aşağıdaki toplama işlemlerini yapınız. (20 puan)

$\begin{array}{r} 8 \\ + 7 \\ \hline \end{array}$	$\begin{array}{r} 9 \\ + 8 \\ \hline \end{array}$	$\begin{array}{r} 10 \\ + 8 \\ \hline \end{array}$	$\begin{array}{r} 13 \\ + 7 \\ \hline \end{array}$	$\begin{array}{r} 14 \\ + 6 \\ \hline \end{array}$
.....