

YÖNÜMÜ BULABİLİRİM

ADINIZ SOYADINIZ:

Aşağıda yer alan bilgi notlarını dikkatle okuyalım.

BİLGE NOT

◆ Bir yeri bulabilmek veya nerede olduğumuzu tarif edebilmek için yönlerden yararlanırız.

Yönler Güneş'in doğuşuna ve batışına göre belirlenir.

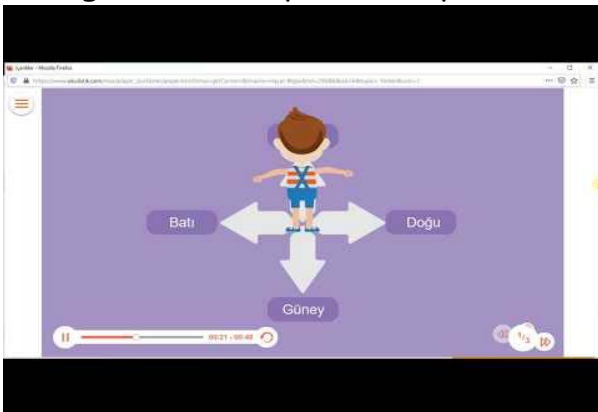
◆ Doğu, batı, kuzey ve güney olmak üzere dört ana yön vardır.

Güneş'in doğduğu yöne doğu, battığı yöne ise batı denir.


◆ Sağ kolumuzu Güneş'in doğduğu yöne doğru uzattığımızda önümüz kuzeyi, arkamız ise güneyi gösterir.

◆ Pusula da yönümüzü bulmamız için yapılmış bir icattır. Pusulanın kırmızı ucu daima kuzeyi gösterir.

Konu ile ilgili hazırlanan videoyu görsele tıklayarak izleyelim.



Aşağıdaki görselde Güneş'in doğduğu yön verilmiştir. Sıla'nın bulunduğu konuma göre yönlerin adlarını kutucuklardan seçerek yazalım.




Türkiye haritasını inceleyelim. Yönleri dikkate alarak aşağıdaki ifadeleri tamamlayalım.



1. Ülkemizin kuzeyinde yer almaktadır.
2. Ege Denizi ülkemizin yer alır.
3. İran ülkemizin yer alan komşularımızdandır.
4. Akdeniz ülkemizin yer alan denizdir.



HAYAT BİLGİSİ



Aşağıdaki cümlelerden doğru olanların başındaki kutucuğa 'D', yanlış olanlara ise 'Y' yazalım.



Kuzey ve güney birbirine zıt yönlerdir.



Güneş her zaman doğudan doğmayabilir.



Ana yönler doğu ve batı olmak üzere iki tanedir.



Doğunun karşı tarafı batıyı gösterir.



Yönlerin belirlenmesinde güneşin doğduğu ve battığı yer esas alınır.



Yüzümüzü güneşin doğduğu yöne döndüğümüzde sırtımız güneye dönük olur.



Yolumu kaybettim ve buralara kadar geldim. Annem yaşadığımız yeri dünya modeli üzerinde göstermişti. Bana yardım eder misin?



Minik penguenin evine ulaşabilmesi için hangi yöne gitmesi gerektiğini söyler misin? Cevabı açılır menüden seç.



- Penguen evine ulaşmak için yönüne gitmelidir.



Aşağıdaki görseli inceleyelim. Görsele göre verilen ifadeleri uygun sözcüklerle tamamlayalım.




- ◆ Barış'ın top var.
- ◆ Elma ağacı Barış'ın
- ◆ Barış tavuğa ulaşmak için yönünde ilerlemelidir.
- ◆ Barış eve gitmek istediğinde yöne doğru ilerlemelidir.
- ◆ Tavuk elma ağacından elma almak istediğinde gitmelidir.
- ◆ Top evindır.
- ◆ Hem Barış hem de tavuk elma ağacının dir.





HAYAT BİLGİSİ



Aşağıdaki çoktan seçmeli soruları cevaplandıralım.

1

Yönleri belirlerken aşağıdakilerden hangisini esas alırız?

A)



B)



C)



2



Yukarıdaki görsele göre soru işareti ile gösterilen yön hangisidir?

A) Doğu B) Batı C) Kuzey

3



Evimiz güneşin battığı yödedir.

Sude evlerinin yönünü bu şekilde ifade ettiğine göre evleri hangi yödedir?

A) Kuzey B) Güney C) Batı

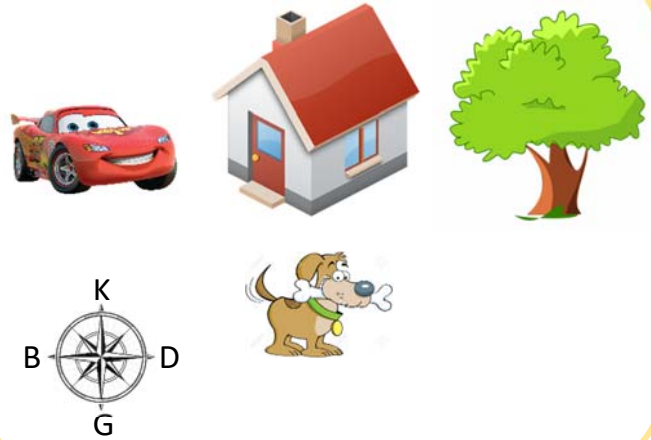
4

Aşağıdakilerden hangisinde yanlış bilgi verilmiştir?

- A) Gündüzleri yönümüzü bulmak için güneşten yararlanırız.
- B) Güneş kuzeyden doğar güneyden batar.
- C) Pusulanın kırmızı ucu daima kuzeyi gösterir.

5

Verilen görsele göre aşağıdaki bilgilerden hangisi yanlıştır?



- A) Araba evin doğusundadır.
- B) Köpek evin güneyindedir.
- C) Ağaç arabanın doğusundadır.

