


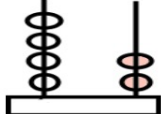


1. Ben küçük bir köyde doğdum. Babam her sabah bizi erkenden uyandırır. Annemin yaptığı sıcak ekmek kokusunu çok severdim. Kümeden yumurta toplamak çok zevkliydi. Ama çilli horoz beni sevmezdi. Her seferinde beni kovalardı, korkardım. Çocukluğum köyde geçtiği için çok şanslı olduğumu düşünüyorum.
- İlk üç soruyu yukarıdaki parçaya göre cevaplayınız.**
1. Çocuğu her sabah kim uyandırmış?
A) annesi
B) çilli horoz
C) babası
2. Çocuk, niçin şanslı olduğunu düşünüyor?
A) Çocukluđu köyde geçtiği için.
B) Horoz onu kovaladığı için.
C) Annesi ekmek pişirdiği için.
3. Aşağıdakilerden hangisini okuduğumuz metne göre **söyleyemeyiz**?
A) Çocuk çok şanslıdır.
B) Çocuk sabahları geç uyanıyor.
C) Çocuk horozdan korkmaktadır.
4. **4.** esir konuk birinci cevap
ilk misafir tutsak
- Yukarıda **eş anlamlı** kelimeler bir arada verilmiştir. Hangisinin eşi yoktur?
A) esir B) birinci C) cevap
5. **5.** "Ben" sözcüğü aşağıdaki cümlelerin hangisinde "kişi" yerine **kullanılmamıştır**?
A) Çocuğun beni burnuna yakındı.
B) Kimse beni yarışta geçemez.
C) Öğretmen beni çağırıldı.

6. **6.** Hangi cümlede sebep – sonuç ilişkisi **belirtilmemiştir**?
A) Her akşam kitap okumayı severim.
B) Çok koşunca terlemiş.
C) Karnı ağırdığı için ağlıyor.
7. **7.** "Dedem, dün akşam hacılıktan uçakla döndü." Cümlesinde hangi sorunun cevabı yoktur?
A) Nasıl? B) Ne zaman? C) Niçin?
8. **8.** Hangi cümlenin sonunda **ünlem işareti** olmalıdır?
A)  Havalar ne zaman ısınacak
B)  Dur, yoksa çamura basacaksın
C)  Ailece pikniğe gitmeyi severiz
9. **9.**  Yandaki abaküste gösterilen sayının **15 eksiği** kaç eder?
A) 57 B) 42 C) 27
10. **10.** 9'dan başlayarak ileriye doğru **dörder dörder** sayarken aşağıdaki sayılardan hangisini **söyleyemeyiz**?
A) 34 B) 29 C) 21

11. **11.** Aşağıdaki seçeneklerden hangisinin sonucu diğerlerinden farklıdır?

A) $41 + 29 =$
 B) $13 + 57 =$
 C) $59 + 12 =$

12. **12.**



Babamın aldığı **3 deste** kalemin **17 tanesini** bitirdim.

Öğrencimizin söylediğine göre kullanacağı kaç kalemi kalmıştır?

A) 20 B) 13 C) 7

- 13.

Benim adım Mehmet. Ben **10** yaşındayım. Annem **39** yaşında. İki yıl sonra yaşlarımızın toplamı kaç olur?



13. Mehmet'in sorduğu sorunun cevabı kaçtır?

A) 53 B) 51 C) 49

- 14.

14.




Yandaki defterin fiyatı **6 TL** dir. Bir öğrenci bunlardan **4 tane** alırsa kaç TL öder?

A) 10 B) 20 C) 24

15. **15.** **9** sayısından bir önce ve bir sonra gelen sayıların çarpımı kaçtır?

A) 90 B) 80 C) 88

16. **16.**



Yukarıdaki elmalardan **dörderli** kaç grup oluşturulur?

A) 3 B) 4 C) 8

17. **17.**



Yukarıdaki yumurtaları **6** tabağa eşit şekilde paylaşmak istiyorum. Buna göre her tabağa kaç yumurta koymam gerekir?

A) 6 B) 3 C) 2

18. **18.** "**Küçükken çok kiloluydum. Ama şimdi zayıfım. Saçlarım eskisi kadar kıvrırcık değil.**"

Yukarıdaki anlatılanlara göre aşağıdakilerden hangisi söylenebilir?

A) Büyükken farklı oyunlar oynarız.
 B) Küçüklüğümüzdeki özelliklerimiz değişmez.
 C) Büyüdüğümüz zaman fiziksel özelliklerimizde değişim olur.

19. **19.** **I. Bebekler her türlü besini yiyebilir.**
II. Çocukların yaşamında oyuncaklar çok önemlidir.
III. İnsanın büyüdükçe yedikleri ve içtikleri de değişir.




Yukarıdaki bilgilerden hangileri doğrudur?

A) I ve II B) II ve III C) I ve III

20. **20.** "**Ebru'nun ayakkabısı eskimişti. Babası ona ayakkabı alacaktı. Fakat hemen alamayacağını söyledi.**" Buna göre Ebru aşağıdakilerden hangisini yaparak babasına yardımcı olur?

A) Harçlıklarını biriktirerek.
 B) Annesinden almasını isteyerek.
 C) Ayakkabı alınana kadar ağlamak.

21. **21.** "Metehan'ı her gün annesi okuldan alıyordu. Çıkışta Metehan, annesini kapıda bekliyordu. Bir gün Metehan'ın tanımadığı biri geldi. Ona "**Bugün okuldan seni ben alacağım.**" dedi." Buna göre Metehan aşağıdakilerden hangisini söylemelidir?

- A)  Peki, beni parka götürür müsün?
- B)  Tamam, hemen gidelim.
- C)  Hayır, gelemem! Çünkü sizi tanımıyorum.

22. **22.** Aşağıdaki bilgilerden **hangisi duyu organlarımızdan** birinin görevidir?

- A) görmemizi sağlamak
B) besinleri sindirmek
C) kanı pompalamak


23. **23.** Aşağıdakilerden hangisi ailemizin çocukluğuyla ilgili sorabileceğimiz sorulardan **olamaz**?


- A) Anne, ilkokulunun adı neydi?
B) Dede, ne zaman tatile çıkacağız?
C) Baba, nasıl bir çocuktun?

24. **24.** Denizi, plajları ve tarihi eserleriyle ünlü olan şehrimiz hangisidir?



- A) Antalya B) Hakkâri C) Konya

25. **25.**  Ev adresi

 Telefon numarası

 Arabalarının modeli

Bir çocuğun evini bulabilmesi için yukarıdakilerden hangisini bilmesine gerek **yoktur**?

- A)  B)  C) 