



Öğrenci Adı Soyadı :

Zeka Testi 1

Doğru :

Yanlış :

7-12 yaş grubuna hitap etmektedir.





1.  Yandaki işleme göre ● şeklinin karşılığı olan rakam kaçtır?


- A) 7 B) 2 C) 6 D) 8

2.  Yandaki işleme göre ● şeklinin karşılığı olan rakam kaçtır?


- A) 2 B) 5 C) 3 D) 1

3.  Yandaki şekillerin üstten görüntüsü hangi şıkta doğru verilmiştir?

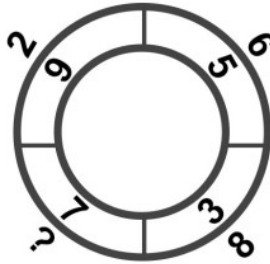
- A)  B) 
C)  D) 

4.  Yandaki şeklin eksik parçası aşağıdakilerden hangisidir?

- A)  B)  C)  D) 

5.  Yandaki şekilden kaç tane rakam elde edebilirsiniz?

- A) 5 B) 6 C) 10 D) 7

6. 

Üstteki sayılar bir kurala göre dizildiğine göre "?" yerine gelmesi gereken sayı kaçtır?

- A) 3 B) 4 C) 5 D) 6