

GEOMETRİK ŞEKİLLER


- Aşağıdaki geometrik şekillere göre boşlukları doldurunuz.




Şeklin adı :
Kenar sayısı :
Köşe sayısı :



Şeklin adı :
Kenar sayısı :
Köşe sayısı :




Şeklin adı :
Kenar sayısı :
Köşe sayısı :

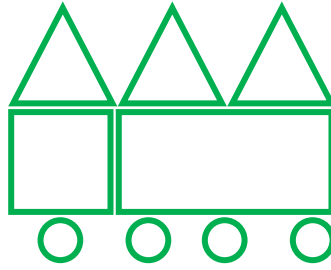


Şeklin adı :
Kenar sayısı :
Köşe sayısı :


- Aşağıdaki şekilleri örnekteki gibi sayarak yazalım.




1 üçgen
1 kare
3 daire
1 dikdörtgen



.....
.....
.....
.....



.....
.....
.....
.....



.....
.....
.....
.....