

TÜRKÇE

"Gamze'nin babası madende çalışıyordu. Ekmek parası için yerin altına giriyor kömür çıkarıyordu. Babasının mesleği çok tehlikeli idi. Bu yüzden Erol çok üzülüyordu. Ama babası ekmek parası için çalışmaya mecburdu. Her gün merakla babasını bekliyordu. Gamze babası eve her geldiğinde çok mutlu oluyordu."

(İlk üç soruyu şiire göre cevaplayınız.)

1- Gamze'nin babası nerede çalışıyordu?

- a) madende
b) fırında
c) okulda

2- Gamze her gün babasını nasıl bekliyordu?

- a) eğlenerek
b) merakla
c) ağlayarak

3- Yukarıdaki metinde kaç cümle vardır?



- a) 5
b) 6
c) 7


4- "Kirli" kelimesinin zıt anlamlısı aşağıdakilerden hangisidir?

- a) temiz
b) pis
c) kötü



5- Aşağıdaki hayvanlardan hangisinin hece sayısı fazladır?



6-  Eyvah, yine geç kaldım !

 Kitap konuşur mu abla .

 Annem Minnoş'a süt verdi .

Yukarıdaki hangi cümlede noktalama işareti **yanlış** kullanılmıştır?



7- Aşağıdaki cümlelerin hangisinde **zıt anlamlı** sözcükler birada kullanılmıştır?

a) Uzun tişörtün altına kısa pantolon giydi.

b) Annesi güzel ve şık kıyafetler almıştı.

c) Bugün hava rüzgarlı ve yağmurluydu.

8- Aşağıdaki cümlelerin hangisinde büyük harf kullanımı ile ilgili bir **yanlışlık** yapılmıştır?

a) Adana'dan ısparta'ya uçakla geldi.

b) Eymen Ayaz halasına gitti.

c) Köpeğim Karabaş çok susamış.

9-

minik

bir

yolda

karşılaştım

köpekle

Kutulardaki sözcüklerle kurulacak anlamlı cümle hangisidir?

a) Karşılaştım minik bir yolda köpekle.

b) Yolda minik bir köpekle karşılaştım.

c) Minik bir köpekle karşılaştım yolda.

10-

Sen baharda nazlı çiçek,
Ben çiçekte tumbul böcek,
Sensin beni güldürecek,
Anneciğim, biriciğim.

Kulağımda tatlı sesin,
Ninni yavrum uyu dersin,
Sevgi bağın eksilmesin
Anneciğim, biriciğim

Şiire en uygun **başlık** aşağıdakilerden hangisidir?

- a) Çiçek Sevgisi
b) Bebeğim
c) Anneciğim

Türkçe testi bitti.

MATEMATİK

1-



4 tane bütün karpuz kaç tane yarım karpuz eder?

- a) 6 b) 8 c) 10

2- Yandaki toplama işleminin sonucu aşağıdakilerden hangisiyle aynıdır?


a) $9+6$

b) $6+5$

c) $10+4$

$7+8$

3- Aşağıdaki saatlerden hangisi **tam saati** göstermektedir?



4- Ali'nin kumbarasında 20 TL parası vardır. Ali Aşağıdakilerden hangisini alamaz?



12 TL

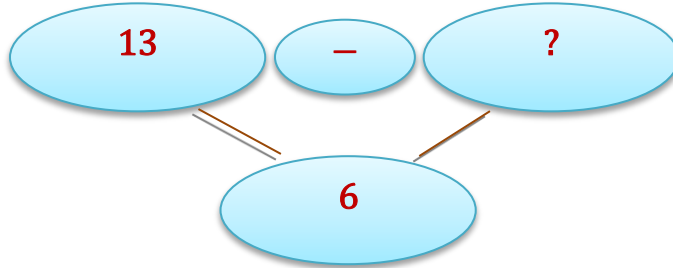


25 TL


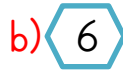
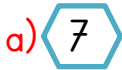


15 TL

5-



Yukarıdaki çıkarma işleminde verilmeyen çıkan sayı kaçtır?



6-




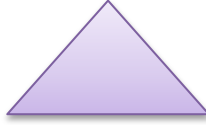

Yandaki evin yapımında aşağıdaki geometrik şekillerden hangisi kullanılmamıştır?

a) Üçgen

b) Dikdörtgen

c) Daire

7-



Yukarıdaki şekillerden kaç tanesinin 4 köşesi vardır?

a) 4

b) 3

c) 2

8- Tabakta 12 ceviz vardı. Bunların 5 tanesini yedik. Annem 3 tane daha koydu. Tabakta kaç ceviz oldu?

a) 10

b) 9

c) 8



9- Bugün günlerden cumartesi ise *dün ve yarın* aşağıdakilerden hangisinde **doğru** verilmiştir?

Dün

Yarın

a) Cumartesi

Pazar

b) Cuma

Pazar

c) Cuma

Cumartesi

10- Buğlem 9 yaşındadır. Zümra, Buğlem'den 3 yaş küçüktür. Zümra ile Buğlem'in yaşları toplamı kaçtır?

a) 10

b) 15

c) 20

Matematik testi Bitti

HAYAT BİLGİSİ

1- Türkiye Cumhuriyeti'nin kurucusu kimdir?

a)



Mustafa Kemal Atatürk

b)



Mehmet Akif Ersoy

c)



Fatih Sultan Mehmet

2- Aşağıdakilerden hangisi, nezaket ifadesi değildir?

a) Çok teşekkür ederim.

b) Beni de oyuna alır mısınız?

c) Seninle konuşmak istemiyorum, git başımdan.

3- Aşağıdaki hangisinde oyun oynamak güvenli değildir?

a)



İnşaat Alanı

b)



Oyun Parkı

c)



Okul Bahçesi

4- ve bağımsızlığımızın sembolleridir.

Yukarıdaki cümlede noktalı yerlere sırayla hangi kelimeler yazılmalıdır?

a) Atatürk ve Bayrağımız

b) Bayrağımız ve İstiklal Marşımız

c) Bayrağımız ve Andımız

5- Aşağıdakilerden hangisi ülkemizin başkentidir?

a) İstanbul

b) Ankara

c) İzmir

6- ★ Atatürk'ün annesinin adı Zübeyde Hanım'dır.

★ Atatürk Ankara'da doğmuştur.

😊 Atatürk'ün mezarının adı Anıtkabir'dir.

Yukarıdaki bilgilerden hangisi yanlıştır?

a) ★

b) ★

c) 😊

7- Aşağıdakilerden hangisi hayvansal besin değildir?

a) Bal

b) Yumurta

c) Biber

8- Aşağıdakilerden hangisi hatalı bir davranıştır?

a) Oyun kurallarına uymak.

b) Oyunda mızıkçılık yapmak.

c) Kazanan arkadaşımızı kutlamak.

9- Aşağıdakilerden hangisi **yaya geçidi** işaretidir?



10- Çocuklar gün içerisinde en çok hangisine vakit ayırmalıdır?



Deneme bitti. Cevaplarınızı kontrol ediniz.