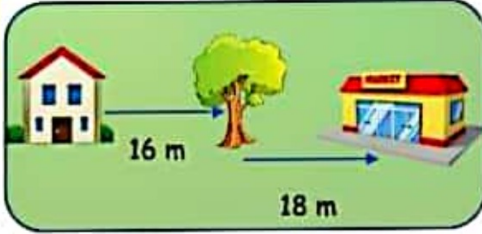


1. Aşağıdaki çoktan seçmeli soruları cevaplandırınız.

1



Yukarıdaki görselde verilen bilgilere göre evle marketin arasındaki uzaklık kaç metredir?

- A) 30 m B) 32 m C) 34 m

- 2.


2



Yukarıdaki görsellerden yola çıkarak silginin boyuna göre dolma kalemın uzunluğu kaç cm olabilir?

- A) 5 cm B) 9 cm C) 20 cm

- 3.



3. ve 4. soruları yukarıdaki sayı doğrusuna göre cevaplayalım.

3

$A \times C =$ işleminin sonucu kaçtır?

- A) 16 B) 8 C) 4

- 4.

4

$C - A$ işleminin sonucu B'den kaç fazladır?

- A) 1 B) C) 3

- 5.

5

Hüseyin'in evi ile okulunun arası 42 m'dir. Hüseyin okula kadar yürüyüp geri döndüğünde kaç m yol yürümüş olur?

- A) 21 B) 63 C) 84

- 6.

6

Bir kanguru her sıçrayışında 3 m yol almaktadır. Buna göre bu kanguru 9. sıçrayışında kaç m yol alır?



- A) 27 B) 18 C) 12

- 7.

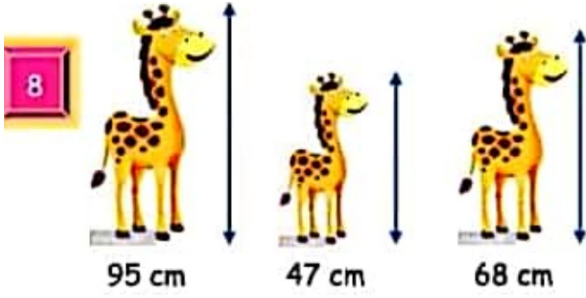
7



Yukarıdaki sarı şerit 24 cm'dir. Yeşil şerit ise sarı şeritten 8 cm daha kısadır. Buna göre bu iki şeridin toplam uzunluğu kaç cm'dir?

- A) 16 B) 40 C) 32

8.




Yukarıdaki görsele göre boyu en uzun olan zürafa ile en kısa olan zürafa arasındaki fark kaçtır?

- A) 23 B) 40 C) 48

9.

Aşağıda resmi verilen hayvanlardan hangisinin boyu 4 metre olabilir?



10.

Ferhat'ın iki karışı 30 cm'dir. Ferhat evlerindeki masayı ölçtüğünde 5 karış geldiğini görmüştür. Buna göre masanın uzunluğu kaç cm'dir?

- A) 75 B) 80 C) 90

11.

Terzi Ayşe Hanım elindeki 100 cm kumaşın yarısı ile gömlek dikti. Kalan kumaşın ise 25 santimetrelük kısmını da çanta yapımında kullandı. Geriye kaç cm kumaş kalır?



- A) 50
B) 75
C) 25

12.

62 metrelik ipin bir ucundan 14 metre diğer ucundan 8 metre kesildiğinde geriye kaç metre ip kalır?



- A) 20 B) 30 C) 40

13.

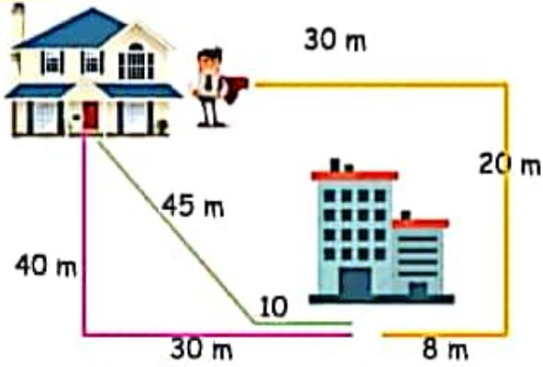


50 liralık banknotun uzun kenarının uzunluğu 15 cm'dir. Kısa kenarı uzun kenarından 7 cm daha kısadır.

Buna göre 50 liralık banknotun çevresinin uzunluğu kaç cm'dir?

- A) 46 B) 42 C) 35

14. **14** Zafer Bey işe giderken üç farklı yol kullanmaktadır.



Buna göre Zafer Bey hangi renkli yolu kullanırsa daha az yürümüş olur?

- A) Pembe B) Yeşil C) Sarı

15. 1. Enes annesiyle birlikte pazara gittiler. Pazardan 32 kilogram soğan 41 kilogram domates, bir miktar da kavun aldılar. Annesi, Mert'e toplam 79 kilogram sebze aldıklarını söyledi. Acaba kaç kilogram **kavun** almışlardır?

- A) 73 kilogram
B) 6 kilogram
C) 17 kilogram

16. 2. Ali 10 yaşında. Babasının yaşı ise Ali'nin yaşının 6 katıdır. **Ali ve babasının yaşlarının toplamı kaçtır?**

- A) 60
B) 66
C) 70

17. 

3. İçinde 10 kilogram elma olan 2 kasa elmanın 9 kilogramı satılmıştır.

Geriye kaç kilogram elma kalmıştır?

- A) 10 kg
B) 11 kg
C) 12 kg

18. 10.



Yukarıdaki sürahi 5 bardak su ile dolmaktadır. Kova ise 2 sürahi su ile dolmaktadır.

Buna göre kova kaç bardak su ile dolar?

- A) 5 B) 10 C) 15

19. 

6. Durmuş 10 yaşındadır. Dedesinin yaşı Durmuş'un yaşının 5 katından 3 fazladır.

İkisinin yaşları toplamı kaçtır?

- A) 18 B) 53 C) 63

20. 5. Mert, marketten kilogramı 5TL olan şekerden 2 kilogram aldı. Market sahibi Mert'e para üstü olarak 2 TL verdi.

Mert market sahibine kaç TL vermiştir?

- A) 9TL
B) 10TL
C) 12TL

21. 3) Aşağıdaki cümlelerin hangisinde koyu yazılı sözcüğün yerine “**onlar**” sözcüğünü kullanabiliriz?

- A) **Zeynep** kardeşini parka götürdü.
B) **Ayşeler** bugün bize geldiler.
C) **Seda** okula geç kaldı.

22. 4. Aşağıdaki cümlelerin hangisinde “**konuk**” kelimesinin **eş anlamlısı** kullanılmıştır.

- A) Yarın teyzemler ile dayımlar bize gelecek.
B) Leyleklerin hepsi karşıdaki dala kondu.
C) Bu akşam bize misafir gelecek.

23. 5. Aşağıdaki cümlelerin hangisinin de **karşılaştırma** yapılmamıştır?

- A) Sen, benden hızlı koşuyorsun.
B) Onu uzun zamandan beri görmedim.
C) Çayı kahveden fazla severim.

24. 6. “**Dikkatli bir şekilde masalı dinliyorum.**”

Yukarıdaki cümlede masalı **kim** dinlemektedir?

- A) sen
B) ben
C) siz

25. 7. Aşağıdaki cümlelerin hangisinde “**kaz**” sözcüğü **farklı bir anlamda** kullanılmıştır?

- A) Pazarda **kaz** yumurtası var.
B) Önce bu bahçeyi **kaz**.
C) Şurayı **kaz**, bakalım ne çıkacak.

26. 8. Aşağıdaki tümceler hangisinde “**TEMİZ**” sözcüğünün **karşıt anlamlısı** kullanılmıştır?

- A) Bu akşam hava çok güzel.
B) Neden pis yerde oturuyorsun?
C) Sınıfımızın temizliği yapılmamış.

27. 9. “**Bu soruyu nasıl çözdün**”

Yukarıdaki cümlelerin sonuna aşağıdaki noktalama işaretlerinden hangisi konmalıdır?

- A) nokta
B) virgül
C) soru işareti

28. 10. Aşağıdaki tümceler hangisinde **varlığın özelliğini belirten kelime** diğerlerinden farklıdır?

- A) Büşra **kırmızı** ayakkabı almış.
B) Sınıfımızda **bir** öğrenciler var.
C) Gökyüzünü **beyaz** bulutlar kaplamış.

29. 1. Arkadaş seçerken aşağıdakilerden hangisine dikkat etmeliyiz?

- A) Arkadaşımızın iyi resim çizmesine.
B) Arkadaşımızın iyi bir müzisyen olmasına.
C) Arkadaşımızın dürüst olmasına.

30. 2. Aşağıdaki bayraklardan hangisi **bağımsızlığımızın sembolüdür**?



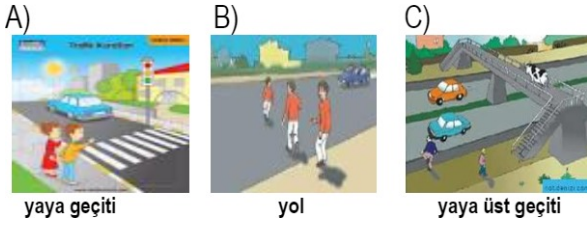
31. 3. Aşağıdakilerden hangisi **yanlıştır**?

- A) Tanımadığımız yabancıların çağırdıkları yerlere gitmeliyiz.
B) Arkadaşlarımızla ve büyüklerimizle konuşurken nazik olmalıyız.
C) Öğretmenlerimizi selamlamalıyız.

32. 4. Aşağıdakilerden hangisi **doğal afet**tir?




33. 5. Aşağıdaki çocuklardan hangisi yolun karşısına geçerken **yanlış davranıyorlar**?




34. 6. Aşağıdaki davranışlardan hangisi **yanlıştır**?

- A) Sınıf duvarlarını kirletmek.
B) Ders araç ve gereçlerini dikkatli kullanmak.
C) Sıraları temiz ve dikkatli kullanmak.

35. 7. Aşağıdakilerden hangisi Mustafa Kemal Atatürk'ün annesidir?



36. 8. Sıcakların iyice arttığı, meyve ve sebzelerin olgunlaştığı, insanların ince giyindiği mevsim hangisidir?




37. 9. Aşağıdaki söylenenlerden hangisine **"hayır"** demeliyiz?

- A) Masayı toplamama yardım eder misin?
B) Şu çocukların oyununu bozalım mı?
C) Silgini alabilir miyim?

38. 10. Aşağıdaki resimlerde görülen davranışlardan hangisi **doğrudur**?




39. Aşağıdaki diyalogda, boş bırakılan yere hangi seçenek gelmelidir?




- A) I do.
B) I don't.
C) She do.

40. Aşağıdaki diyalogda, boş bırakılan yere hangi seçenek gelmelidir?




- A) walking
B) running
C) singing

41. Aşağıdaki cümlede boş bırakılan yere hangi seçenek gelmelidir?



- A) basketball
B) football
C) volleyball

42. Aşağıda anlatılan durum, hangi seçenekte resmedilmiştir?
- Let's skip rope.




43. Aşağıdaki diyalogda, boş bırakılan yere hangi seçenek gelmelidir?




- A) I do
B) I don't
C) I like

44. Aşağıdaki diyalogda, boş bırakılan yere hangi seçenek gelmelidir?




- A) run
B) jump
C) slide

45. Aşağıdaki diyalogda, boş bırakılan yere hangi seçenek gelmelidir?




- A) I like Hide and Seek.
B) Let's dance.
C) She likes pink.

46. Aşağıdaki cümlede boş bırakılan yere hangi seçenek gelmelidir?



- A) swinging
B) skating
C) running

47. Aşağıdaki cümlede boş bırakılan yere hangi seçenek gelmelidir?



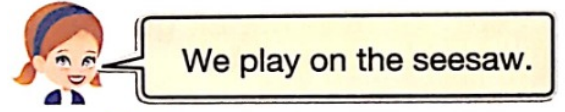
- A) swinging
B) sliding
C) singing



48. Aşağıda anlatılan durum, hangi seçenekte resmedilmiştir?
- Let's fly a kite.



49. Aşağıda anlatılan durum, hangi seçenekte resmedilmiştir?



50. Aşağıdaki diyalogda, boş bırakılan yere hangi seçenek gelmelidir?



- A) Do / do
B) Don't / do
C) Do / don't