

Sıklık tablolarını çetele tablosuna dönüştürelim. Soruları cevaplayalım.

Oyuncular ve Gol Sayıları (sıklık)	
İlgin	2
Anıl	5
Yankı	3
Yağz	7
Çınar	1

Oyuncular ve Gol Sayıları (çetele)	
İlgin	
Anıl	
Yankı	
Yağz	
Çınar	

Toplam kaç gol kaçır?

.....

En az ve en fazla gol atan kimlerdir?

.....






Anıl ve Yankı 'in golleri toplamı kimlerin golleri toplamına eşittir?

.....






Yağz 'ın gol sayısının beş katı kaçır?

.....

Meyve Sayıları Sıklık Tablosu

				
12	14	11	15	13

Meyve Sayıları Çetele Tablosu

Meyve sayılarının toplamı kaçır?

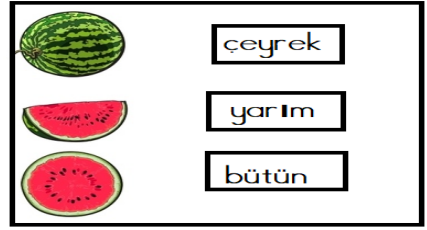
.....

Kiraz ve çilek toplamı hangi meyvelerin toplamına eşittir?

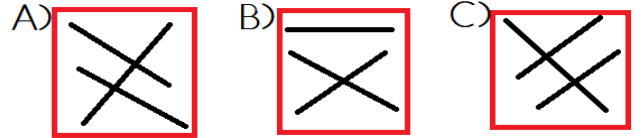
.....

Hangi meyvelerin toplamı çileğin iki katıdır?

.....



Yukarıdaki eşleştirme hangi seçenekte doğru verilmiştir?



45	30	80
70	27	68
89	76	50

Tabloda hangi sayının en yakın onluğu verilmemiştir?

A) 45 B) 76 C) 89

Kalem Sayıları Çetele Tablosu

				
###	### ##	###	###	

(Soruları tabloya göre cevaplayalım)

Renkli kalem sayılarının toplamı kaçır?

A) 37 B) 35 C) 33

En fazla ve en az sayıda olan kalemlerin farkı kaçır?

A) 6 B) 7 C) 8

 sayısı ve  sayısı çarpımı kaçırkaçır?

A) 45 B) 40 C) 35

Aylara göre tabloyu dolduralım.

Öncesi	AY	Sonrası
	Haziran	
Ekim		
		Şubat
	Nisan	

Farkları bulup yazalım.

Matematik Tekrar 32

Eksilen	35	89	66	84	53
Çıkan	14	43	19	48	36
Fark					


Verilen sayıdan başlayarak geriye doğru beşer yazalım.

95					
60					
30					
55					

Çarpımları bulup yazalım.

Çarpan	5	9	4	10
Çarpan	8	3	7	2
Çarpım				

Verilen zamanı akrep ve yelkovanla gösterelim.



14.45

Problemleri çözüm sonuçları bulalım.

Matematik Tekrar 32

1	Asya 'nın manavdan aldığı ürünler 44 lira tutmuştur. Asya üç tane 20 lirayı satıcıya vermiştir. Asya kaç lira para üstü almalıdır?	
2	Arda kumbarasındaki paraları saymak için boşaltmıştır. Arda 'nın kumbarasından 6 tane 5 lira, 2 tane 10 lira, 9 tane 2 lira ve 4 tane 50 kuruş çıkmıştır. Arda 'nın kumbarasında kaç lira vardır?	
3	8 tane 25 kuruş, 6 tane 50 kuruş ve 10 tane 1 liranın toplamı kaç liradır?	
4	Bir torba nohut 10 lira, bir paket piriç 8 liradır. 4 torba nohut, 5 paket piriç aldığımızda toplam kaç lira ödememiz gerekir?	
5	90 liranın önce 26 lirasını, daha sonra 35 lirasını harcayan Anıl 'ın kaç lirası kalır?	