

Adı ve Soyadı:.....

No:.....

2. SINIF SENE BAŐI SEVİYE TESPİT SINAVI

TÜRKÇE

Ağaç Diyor Ki

Ben küçücük bir ağacım,
Yurdumun bir bahçesinde,
Topraklar tüterken görün,
Dallarım çiçeklensin de.

Her şeyimle yararlıyım,
İnsanoğluna dünyada,
Çiçeğim, yaprağım, gölgem.
İri dallı zerdalimle.

Kuşlar mutlu şarkısını
Hep dalımda söylerler,
Şen arılar vızır vızır,
Kokuma koşup gelirler.

Sakin,sakin dalımızı,
Çocuklar çekip kırmayın.
Çakınızla gövdemizde
Derin yaralar açmayın.

Halim YAĞCIOĞLU

1-Ağaç neredeymiş?

A. bahçede

B. ormanda

C. Yolda

2-Ağaç neleri ile yararlıymış?

A. Çiçeği,yaprağı ve gölgesi ile yararlıymış

B. Rengiyle yararlıymış.

C. Biçimiyle yararlıymış.

3-Ağaç çocuklardan ne istiyor?

A. Kavga etmemelerini

B. Derslerine çalışmalarını

C. Çocukların dallarını kırmamasını ve gövdesini çizip derin yarıklar açmamasını istiyor.

4- Bu şiire bir başlık da siz bulunuz.

5. " zerdali" sözcüğünde kaç ünsüz harf vardır?

A) 4

B) 7

C) 3

6. Cins isimlerin ilk harfi nasıl yazılır?

A) bazen küçük

B) küçük

C) büyük

7. "Yarım kaşık duvara yapışık." bilmecesinin cevabı nedir?

- A) kaşık B) kulak C) resim

8. Aşağıdaki tümcelerin hangisinde bir duygu vardır?

- A) Ödevimi hemen yaptım.
B) Annemin yaptığı yemekleri çok seviyorum.
C) Babam yarın okula gelecek.

9. " Ayla tirafik kurallarına uyar." Cümlesinde yanlış yazılan kelime aşağıdakilerden hangisidir?

- A) kurallarına B) Ayla C) tirafik

10. Aşağıdaki cümlelerin hangisinde "siyah" kelimesi yerine geçen kelime kullanılmıştır?

- A) Ayşe renkli elbise giymiş.
B) Faruk kara saçlı bir çocuktur.
C) Burcu'nun kitabı kırmızı kaplı.

11. " Kurşun kalemimi gördün mü " cümlesinin sonuna hangi noktalama işareti konulmalıdır?

- A) nokta B) soru işareti C) virgül

12. "rar – ya – lı " heceleri ile anlamlı bir kelime oluşturulduğunda hangi hece başta yer alır?

- A) rar B) ya C) lı

13. Aşağıdaki tümcelerin hangisinde özel ad vardır?

A. Babam çalışmaya gitti. B. Kalemimi Ahmet aldı. C. Dün akşam halam geldi.

14. Aşağıdaki tümcelerde altı çizili sözcüklerden hangisi farklı bir varlık adıdır?

- A) Kediye süt içirdim.
B) Pazardan elma aldık.
C) Bahçeden karanfil topladım.

15. "Sabahleyin okula gittim. Dersimi iyi dinledim. Beslenmemi yaptım. Ödevimi yazdım"

Yukarıda kaç cümle vardır?

A) 2

B) 4

C) 3

16. "yaşlı" kelimesinin zıt anlamı olan kelime aşağıdakilerden hangisidir?

A) uzak

B) kısa

C) genç

17. "Kırtasiyeden defter, kalem, silgi ve kalemtraş aldım." Cümlesinde kaç kelime vardır?

A)7

B)6

C)5

18. " Bugün hava yağmurlu." Cevabı verilmiş. Soru cümlesi aşağıdakilerden hangisidir?

A)Beslenmeni yaptın mı?

B) Bu kitap kimin?

C) Hava durumu nasıl?

19. Aşağıdakilerden hangisi hecelerine doğru ayrılmıştır?

A) aç-ac-ak

B) hem-şi-re

C) tem-iz-lik

20. Aşağıdakilerden hangisi cümle değildir?

A) Kurnaz tilki bir plân

B) Kartal uzaklara gidiyormuş




C) Sahibi keçiyi iyi beslemiş

BAŞARILAR DİLERİM

MATEMATİK

1. 

Yukarıdaki örüntüde noktalı yere hangi şekil gelmelidir?

- A)  B)  C) 

2. 15 çocuk oyun oynarken aralarından 7 tanesi ayrıldı. Oyun oynayan kaç çocuk kaldı?

- A) 8 B) 12 C) 9

3. 10'ar 10'ar sayarken 70'ten sonra hangi sayı söylenir?

- A) 80 B) 60 C) 70

4. 2 deste ve 1 düzine kalemim var. Kalemlerimin hepsi kaç tanedir?

- A) 30 B) 32 C) 3

5. 3 onluğa 4 birlik eklediğimizde hangi sonucu buluruz?

- A) 34 B) 44 C) 24

6. Aşağıdaki paralarımızdan hangisinin değeri fazladır?

- A) 5 TL B) 10 TL C) 50 KR

7. Aysu'nun 9 tane eriği vardı. Annesi 3 tane, ablası da 6 tane daha verdi. Aysu'nun kaç eriği oldu?

- A) 17 B) 18 C) 14

8. 16'nın 9 eksiği kaçtır?

- A) 25 B) 7 C) 10

9. Bir otobüste 14 yolcu vardı. Durakta 8 yolcu indi, 9 yolcu bindi. Şimdi otobüste kaç yolcu vardır?

- A) 15 B) 26 C) 19

10. Nalan 8 yaşındadır. Kardeşi Nalan'dan 5 yaş küçüktür. Kardeşi kaç yaşındadır?

- A) 13 B) 3 C) 11

11. $\Delta + 8 = 14$ işleminde Δ yerine hangi sayı yazılmalıdır?

- A) 6 B) 7 C) 8


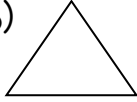

12. Aşağıdaki işlemlerden hangisi yanlıştır?

- A) $8+3=11$ B) $9-6=15$ C) $6+9=15$

13. Berke'nin 10 kalemi vardır. Ablasının kalemleri ise Berke'nin kalemlerinin yarısı kadardır. Ablasının kaç kalemi vardır?

- A) 5 B) 6 C) 7

14. Aşağıdaki geometrik şekillerden hangisi dikdörtgendir?

- A)  B)  C) 

15.

Saat kaç göstermektedir?

- A) Saat 5.00 B) Saat 12.00
C) Saat 3.00



16. $14 + \dots = 19$ işleminde verilmeyen sayı kaçtır?

- A) 7 B) 6 C) 5

17. Sınıfımızın uzunluğunu en çabuk aşağıdakilerden hangisi ile ölçeriz?

- A) Karış B) Adım C) Parmak

18. Kalemimiz aşağıdaki geometrik şekillerden hangisine benzer?

- A) Küp B) Silindir C) Küre

19. $8+7=?$ işlemine uygun problem aşağıdakilerden hangisidir?

A) Ağaçta 8 kuş vardı, 7 tanesi uçtu. Ağaçta kaç kuş kaldı?

B) Abimin cebinde 8 bilye var. Ben abime 7 bilye verdim. Abimin kaç bilyesi oldu?

C) Ablama 7 kalem verdiğimde ablamın 8 kalemi oluyor. Acaba ablama kaç bilye verdim?

20. 1-4-7-10-13-16- Noktalı yere hangi sayı yazılmalıdır?

A) 17

B)18

C)19

BAŞARILAR DİLERİM

HAYAT BİLGİSİ

1. Arkadaşımızın ayağına yanlışlıkla basınca söylememiz gereken altın sözcükler aşağıdakilerden hangisidir?
A) Lütfen verir misin? B) Özür dilerim. C) Eline sağlık
2. Okulumuzda temizliği kim yapar?
A) öğretmen B) müdür C) hizmetli
3. Dış görünüş özelliğimize ne denir?
A) Fiziksel özelliğimiz B) Ruhsal özelliğimiz C) Hoşgörümüz
4. Çoktandır görmediğimiz bir arkadaşımızı görünce kendimizi nasıl hissederiz?
A) üzgün B) kızgın C) mutlu
5. Yemekten sonra hangisini kullanırız?
A) kaşık B) çatal C) diş fırçası
6. Oyun oynarken yapacağımız en doğru davranış aşağıdakilerden hangisidir?
A) Oyuna çalışkan olanları almak
B) Oyunda sıramızı beklemek
C) Herkesin önüne geçmek
7. Aşağıdakilerden hangisi kişisel bakım araçlarımızdan biri değildir?
A) tırnak makası B) kalem C) tarak
8. Aylin tatilde Atatürk'ün mezarını ziyaret etti. Ayşe hangi ilimize gitmiştir?
A) İstanbul B) Selânik C) Ankara
9. Aşağıdakilerden hangisi doğrudur?
A) Sorunlarımızı kavga ederek çözmek
B) Sabah herkese "günaydın" demek
C) Arkadaşımızla alay etmemek
10. Bir çiçeğin kokusunu hangi organımızla anlarız?
A) gözümüzle B) derimizle C) burnumuzla

11. Okulumuz hangi ayda açılır?
A) ocak B) haziran C) eylül
12. Buzu buzluktan çıkarınca zamanla ne gibi değişiklik olur ?
A) Buhar olur. B) Değişiklik olmaz C) Su erir.
13. Dün günlerden pazartesi idi. Yarın günlerden hangisi olur?
A) pazar B) cuma C) çarşamba
14. Aşağıdakilerden hangisi doğal afettir?
A) deprem B) trafik kazası C) Koşarken düşmek
15. Bir trafik kazasında yaralılar için aşağıdaki telefon numaralarından hangisini aramalıyız?
A) 112 B) 110 C) 155
16. Aşağıdakilerden hangisi yanlıştır?
A) Besinlerin tadını dilimizle anlarız.
B) Akşamları istediğim saatte yatarım.
C) Her evin bir adresi vardır.
17. Atatürk'ün annesinin adı.....babasının adı.....'dir.
Yukarıdaki boşluklara sırasıyla hangileri yazılmalıdır?
A) Makbule Hanım – Ali Rıza Bey
B) Zübeyde Hanım – Ali Bey
C) Zübeyde Hanım – Ali Rıza Bey
18. Devletimizin yönetim şekli hangisidir?
A) Cumhuriyet B) Krallık C) Padişahlık
19. Aşağıdakilerden hangisi sadece otla beslenir?
A) kartal B) koyun C) kaplan
20. Aşağıdakilerden hangisinde haftanın günleri doğru sıralanmıştır?
A) Pazartesi-Salı-Çarşamba_Perşembe-Cumartesi- Cuma-Pazar
B) Pazartesi-Salı-Çarşamba_Perşembe- Cuma- Cumartesi –Pazar
C) Pazartesi-Salı- Perşembe- Çarşamba_ Cuma- Cumartesi –Pazar