



ADI:.....

SOYADI:.....

SINIFI:.....

NO:.....

OKULU:.....

TÜRKÇE

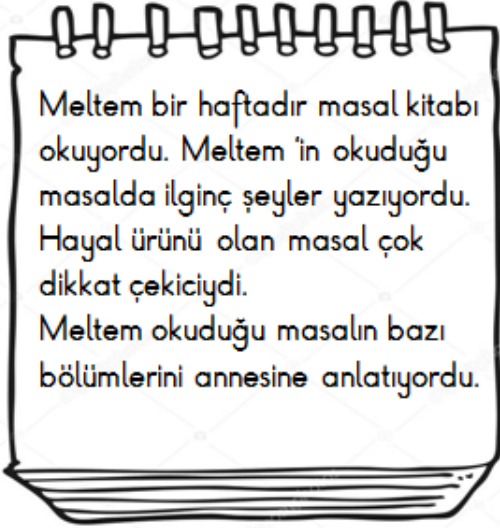
1.

1	Kemal
2	Leyla
3
4	Oya

Yukarıdaki tablodaki kelimeler **sözlük sırasına** göre sıralanmıştır. Boş olan yere aşağıdaki kelimelerden hangisi **yazılamaz?**

- A) Nüpel B) Mehmet C) Ömer

2.



Aşağıdakilerden hangisi Meltem'in anlattıkları içerisinde **olamaz?**

- A) Dev her gün beş koyun yermiş.
B) Prens, şakacı çallılardan zor kurtulmuş.
C) Çoban koyunları olatmaya gitmiş.

3.

Köpek ağacın altında dinlendi.

Yukarıdaki cümlede hangi sorunun cevabı **yoktur?**

- A) Kim B) Nasıl C) Nerede

4.

mutvak	eczane	nylon
beğenmek	çenber	Prens
öretmen	herkes	şöför

Yukarıda verilen tabloda **doğru** yazılan kelimeler boyanırsa tablonun görünümü nasıl olur?

A)



B)



C)



5.

1. oyun
2. sabahtan
3. oynadım
4. kadar
5. akşama

Yukarıdaki kelimelerden **anamlı ve kurallı** bir cümle oluşturulursa sıralama nasıl olur?

- A) 2 - 5 - 4 - 1 - 3
B) 5 - 2 - 4 - 1 - 3
C) 2 - 5 - 4 - 3 - 1

6.



Yukarıdaki görsel ile aşağıda verilen sözcüklerden hangisinin ilk hecesi **aynıdır?**

- A) kaya
B) kaymak
C) kayık


7.


Hasan , parkta oynarken yanlışlıkla Alinin topunu patlattı. Ali , Hasan' ı dinlemeden küstü ve evine gitti.


Yukarıdaki cümlede hikaye unsurlarından hangisi **verilmemiştir?**


- A) Kahraman ve olay
B) Yer
C) Zaman

8.

 Çocukları biraz gezdireceğim.



 Köy manzaralı tepeye gideceğiz..

 Çok güzel! Köyün tüm güzelliklerini tam anlamıyla göreceksiniz demek.

 Evet.

Bu konuşmada boş olan yere hangisi **getirilebilir?**

- A) Neden gezdireceksin?
B) Nereye götüreceksin?
C) Kiminle gideceksiniz?

9.

Aşağıdakilerden hangisi cümle **değildir?**

- A) Geliyorum
B) Bu işte bende varım
C) Öğretmenim Ahmet dün sokakta

10.

Bir an önce parka gidebilmek için yemeğini **hızlıca** yedi.

Bu cümlede altı çizili sözcük aşağıdaki sorularda hangisinin cevabıdır?

- A) Nasıl?
B) Nereye?
C) Neden?

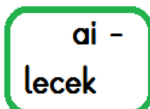
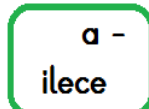
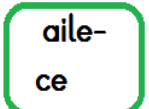
11.

	KELİMELER	EŞ ANLAMI	ZIT ANLAMI
1.	Soru	Cevap	Yanıt
2.	İhtiyar	yaşlı	genç
3.	Hızlı	süratli	yavaş

Yukarıdaki tabloda kelimelerin eş ve zıt anlamları verilmiştir. Kaç numaralı satırda **yanlışlık** yapılmıştır?

- A) 1 B) 2 C) 3

12. Aşağıdaki sözcüklerden hangisi satır sonundan **yanlış** ayrılmıştır?

- A)  B)  C) 

MATEMATİK

1.

Bizim sayımız
koyunlardan 4 eksiktir.



Bizim sayımız 3 düzine
kadardır.

Hayvanların verdiği bilgilere göre bu
çiftlikte *tahmini olarak* kaç tane hayvan
vardır?

- A) 68 B) 70 C) 60

2.

$$\begin{array}{r} 87 \\ - 19 \\ \hline \end{array}$$

Yandaki işlemin sonucuyla
aşağıdakilerden hangisinin
sonucu *aynıdır*?

- A) $45 + 23$
B) $29 + 29$
C) $38 + 40$

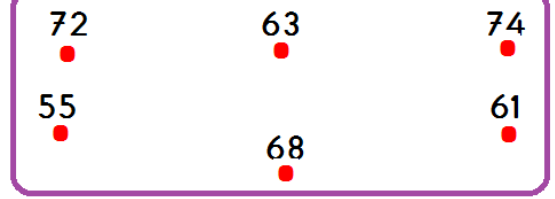
3.



Yukarıda abaküsle gösterilen sayıdan
başlayarak *ileriye doğru 4'er* sayarsam
5. söylediğim sayı kaç olur?

- A) 36 B) 40 C) 44

4.



Yukarıda en yakın onluğu 60 olan sayıların noktaları
birleştirildiğinde hangi şekil oluşur?

- A) B) C)

5.

- 18 kalem 2 desteden 2 eksiktir.
 19 sayısının basamak değerleri farkı 1'dir.
 7 birlik 3 onluktan oluşan sayı 73'tür.
 50'den küçük en büyük sayı 51'dir.

Yukarıdaki bilgilerden doğru olanlara "D" yanlış
olanlara "Y" yazarsak hangi görüntü oluşur?

- A)

(D)
(Y)
(Y)
(D)


 B)

(D)
(D)
(Y)
(Y)

 C)

(Y)
(D)
(Y)
(D)

6.



Yandaki boyalı alanlar *çıkan*
sayıyı göstermektedir.

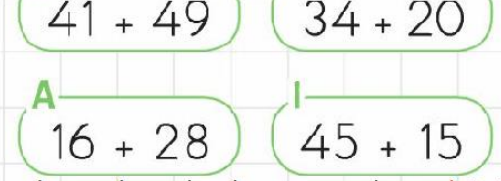
Buna göre şekle uygun işlem aşağıdakilerden
hangisidir?

- A) $\begin{array}{r} 40 \\ - 28 \\ \hline 12 \end{array}$ B) $\begin{array}{r} 40 \\ - 12 \\ \hline 28 \end{array}$ C) $\begin{array}{r} 28 \\ + 12 \\ \hline 40 \end{array}$

7.  Büşra ile Birgül ikiz kardeşlerdir.

Büşra 8 yaşında olduğuna göre iki kardeşin 3 yıl sonraki yaşları toplamı kaçtır?

- A) 16 B) 19 C) 22


8. 
S $41 + 49$ L $34 + 20$
A $16 + 28$ I $45 + 15$
Yukarıda verilen işlemlerin sonuçlarını büyükten küçüğe doğru sıralarsak şifre ne olur?
A) SALI B) SILA C) ASLI

9. Aşağıdaki eşitliklerden hangisi doğrudur?

A) $40 - 15 = 10 + 14$

B) $20 - 7 = 8 + 5$

C) $12 + 12 = 30 - 18$

10. 
Mustafa $20 + 3 + 30 + 9$
 $50 + 12$
62

Onlukları ve birlikleri ayırarak zihinden yukarıdaki işlemleri yapan Mustafa sonucu 62 bulmuştur.

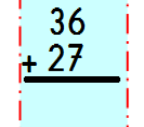
Buna göre hangisi Mustafa'ya sorulan toplama işlemi olamaz?

- A) $23 + 39$ B) $29 + 33$ C) $50 + 33$

11. Bir sınıftaki 48 öğrenciden 15'i müzik , 14'ü resim kursuna katıldı. Kalan öğrenciler de satranç kursuna katılmıştır.

Buna göre satranç kursuna katılan öğrenci sayısı kaçtır?

- A) 19 B) 28 C) 29

12.  Yandaki toplama işlemi ile ilgili verilen bilgilerden hangisi yanlıştır?

- A) Toplamın, onlar basamağının basamak değeri 60'tır.
B) Tahmini sonucu 70'tir.
C) Eldesiz toplama işlemidir.

HAYAT BİLGİSİ

1. Yanda alışveriş listesi verilmiştir. Buna göre listedeki ürünlerden hangileri **öncelikle** alınmalıdır.

Kazak
Dondurma
Ekmek
Bisiklet

- A) Kazak - dondurma
B) Ekmek - kazak
C) Bisiklet - dondurma

2. 1. Islak ellerinizi sabunla iyice köpürtün.
2. Ellerinizin her noktasını iyice ovalayın.
3. Ellerinizi akan su ile ıslatın.
4. Ellerinizi yıkadıktan sonra iyice durulayın.

Ellerimizin yıkanması ile ilgili verilenlerin **oluş** ;
sırası hangisinde verilmiştir?

- A) 3 - 1 - 4 - 2
B) 1 - 2 - 3 - 4
C) 3 - 1 - 2 - 4

3.

Yemekten önce ve sonra ellerimizi yıkamalıyız.	Aç olan yemeğe herkesten önce başlayabilir.
Başkasının kullandığı bardağı kullanabiliriz.	Toplu yemek yenilen yerlerde sesli olarak konuşmamalıyız.

Yemekte uyulması gereken **görgü kuralları** boyarsam tablonun görünümü nasıl olur?



- A) B) C)

- 4..ve birbiriyle kardeştir.

Yukarıdaki boşluklar hangi sözcük çiftiyle **tamamlanamaz**?

- A) teyzem - halam
B) dayım - teyzem
C) halam - amcam

- 5..

	D/Y
Grup çalışmaları ve iş birliği,düzenli ve başarılı bir sınıf oluşmasını sağlar.	
Grup çalışmalarında birbirimizi dinlemeli ve herkesin fikrine değer vermeliyiz.	
Grup çalışmalarında bireysel çalışırsak daha çok başarılı oluruz.	

Yukarıdaki tabloda doğru olanlara " D " yanlış olanlara " Y " yazarsak tablonun görünümü nasıl olur?

- A)

D
D
Y

 B)

D
Y
Y

 C)

Y
D
D

- 6.



Aşağıdaki cümlelerde boş bırakılan yerlere yukarıdaki ifadelerden uygun olanlar yazıldığında hangi ifade **boşta** kalır?

Evden ayrılırken annemederim.
Hasta olan arkadaşşıma derim.
Yemekten sonra derim.
Misafirleri uğurlarken derim.

- A) hoşçakal B) güle güle C) nazikçe

7.



Yukarıdaki çocuklardan hangisinin söylediği **yanlıştır?**

- A) Yusuf B) İbrahim C) Birgül

8.

- Su , elektrik ve doğal gaz gibi kaynakları bol bol tüketmeliyiz.
- Bireylerin boyu ,kilosu , saç ve göz rengi fiziksel özelliklerimizden bazılarıdır.
- Oyundan önce oyun kuralları belirlenmelidir.
- Bireysel farklılıklara karşı saygılı olmalıyız.

Yukarıda verilen bilgilerden kaç tanesi **doğrudur?**

- A) 2 B) 3 C) 4

9.

Onur: Her yemekten sonra dişlerimi fırçalarım.

Meltem: Haftada bir kez saçlarımı tararım.

Can: Uzun tırnaklarımı keserim.

Osman: Ayda bir kez banyo yaparım.

Yukarıdaki öğrencilerden hangileri için

"Kişisel bakımına özen gösteriyor." diyebiliriz?

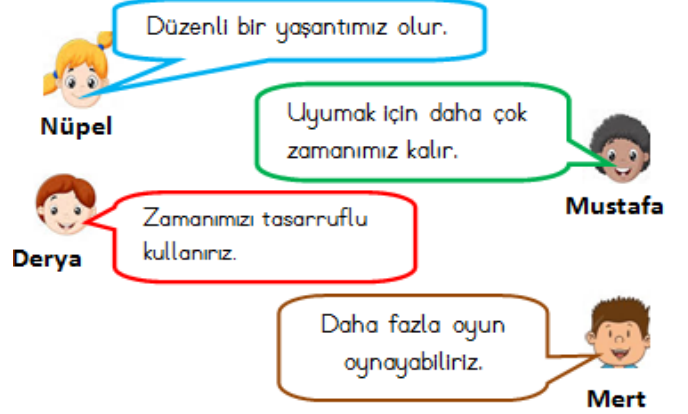
- A) Onur ve Can
B) Can ve Meltem
C) Osman ve Can

10.



Gün içerisinde yapacağımız işleri planlamanın faydaları nelerdir?

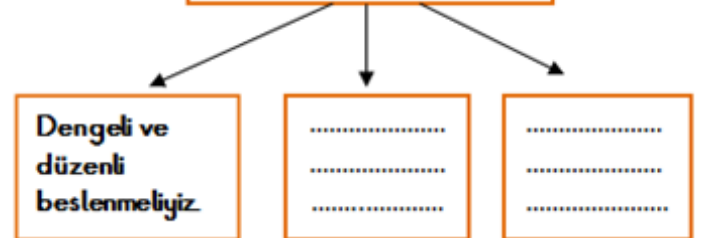
Öğretmenin sorduğu soruya hangi öğrenciler **doğru** cevap vermiştir?



- A) Nüpel ve Derya
B) Mustafa ve Mert
C) Mert ve Nüpel

11.

Sağlıklı Yaşamak İçin;



Yukarıdaki şemada boş olan kutucuklara aşağıdakilerden hangisi **yazılamaz?**

- A) Kişisel bakımımızı düzenli olarak yapmalıyız.
B) Mevsimine uygun giyinmeliyiz.
C) Geç yatıp geç kalkmalıyız.

CEVAP ANAHTARI

TÜRKÇE

1-C

2-C

3-B

4-C

5-A

6-B

7-C

8-B

9-C

10-A

11-A

12-B

MATEMATİK

1-B

2-A

3-B

4-C

5-B

6-A

7-C

8-B

9-B

10-C

11-A

12-C

HAYAT B.

1-B

2-C

3-C

4-A

5-A

6-C

7-B

8-B

9-A

10-A

11-C