

# TARTMA

- Un, elma, peynir, patates gibi sıvı olmayan nesnelar tartarak ölçölür. Bunların miktarını söylemek için yani kütlelerini belirtmek için kullandığımız ölçü birimi **kilogram**dır. Kilogramı kısaca "**kg**" ile gösteririz.
- Tartma yaparken elektronik terazi, baskül, kantar, tartı ve eşit kollu terazi gibi araçlar kullanırız.



elektronik terazi



baskül



kantar




tartı



eşit kollu terazi




Tahterevallideki çocuklardan biri 30 kilogram diğeri de 40 kilogramdır. Sizce 40 kilogram olan hangisidir?



Eşit kollu terazideki elma 1 kilogramdan daha ağır olduğu için elmanın bulunduğu terazinin kefesini aşağıdadır.




Eşit kollu terazideki elma 1 kilograma eşit olduğu için elmanın bulunduğu terazinin kefesini ve ağırlığın bulunduğu kefe aynı hizadadır.



Eşit kollu terazideki elma 1 kilogramdan daha hafif olduğu için elmanın bulunduğu terazinin kefesini yukarıdadır.

- Aşağıdaki soruları okuyun ve cevaplarını Matematik defterinize yazınız.

			
Horoz= 3 kg	Kedi=6 kg	Köpek= 9 kg	Koyun= 18 kg

- Ağırlığı en az olan hayvan hangisidir?
- Ağırlığı en çok olan hayvan hangisidir?
- Horozun ağırlığı köpeğin ağırlığından ne kadar azdır?
- Hangi iki hayvanın ağırlığını toplarsak köpeğin ağırlığına eşit olur?
- Yanda bulunan un çuvalının ağırlığı kaç kilogramdır?



- Yandaki görsele göre aşağıdakilerden hangisi doğrudur?
  - Karpuzun ağırlığı 3 kilogramdan azdır.
  - Karpuzun ağırlığı 3 kilogramdır
  - Karpuzun ağırlığı 3 kilogramdan fazladır.



- Aşağıdakilerden hangisi kilogramla ölçülür?
  - kalemin boyu
  - domatesin ağırlığı
  - sütün miktarı
- Aşağıdakilerin hangisinde tartma aracıdır?
  - metre
  - baskül
  - litre
- Resmi verilen ürünlerden hangileri tartılarak alınır?

A	B	C	D	E	F	G	H
