


1. **HERKESİN BİR İŞİ VAR**
- | | |
|------------------------|-----------------------------|
| Annem yemeği yapar. | Beni tembel sanmayın. |
| Ben tadına bakarım. | Herkesin bir işi var. |
| Babam işine gider. | Anne ile baba çalışır. |
| Ben bütün gün oynarım. | Oynayarak öğrenir çocuklar. |

1, 2 ve 3. Soruları yukarıdaki şiire göre cevaplayınız.

1. Aşağıdakilerden hangisi çocuğun yaptığı işlerden biri **değildir**?
- A) Yemeklerin tadına bakmak.
B) Derslerine çalışmak
C) Bütün gün oyun oynamak.
2. **2.** Çocuk, bütün gün oyun oynamasının nedenini nasıl açıklamış?
- A) "Beni tembel sanmayın." diyerek
B) Ailesindeki herkesin bir işi olduğunu belirterek.
C) Çocukların oynayarak öğrendiğini söyleyerek.
3. **3.** Şiirin ana duygusu aşağıdakilerden hangisidir?
- A) Aile sevgisi
B) Ailede dayanışmanın önemi
C) Ailece kutlanan özel günler
4. **4.** Kedi tırmanmak için çok uğraştı.
- Cümlesinde noktalı yere aşağıdakilerden hangisi **yazılamaz**?
- A) koltukçu
B) ağaca
C) duvara

5. **5.** Aşağıdaki varlıklardan hangisinin adı sözlükte diğerlerinden **sonra** gelir?



6. **6.** Güler, arkadaşları ile bahçede ip atlıyor.

Bu cümledeki hangi kelime çoğul eki almıştır?

A) bahçede B) arkadaşları C) Güler

7. **7.** "Taş" kelimesi, aşağıdaki cümlelerin hangisinde diğerlerinden farklı anlamda kullanılmıştır?
- A) Ocaktaki süt bir anda taşıtı.
B) Küçük bir taş atıp camı kırdı.
C) Taşı yerinden oynatmak imkânsızdı.

8. **8.** Aykut, sınıfımızdaki en güçlü öğrencidir.



Bu cümledeki altı çizili kelimenin yerine aşağıdakilerden hangisi kullanılabilir?

- A) becerikli B) korkusuz C) kuvvetli

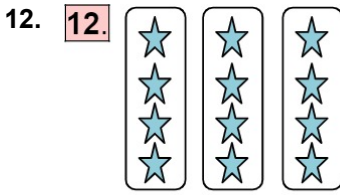
9. **9.** Hangi seçenekteki sayılar belli bir kurala göre **sıralanmamıştır**?
- A) 3 – 9 – 15 – 21 – 27
B) 3 – 5 – 8 – 9 – 12
C) 2 – 6 – 10 – 14 – 18

10. **10.** Hakan 23 yaşındadır. Tuncay ise ondan 11 yaş büyüktür. Hakan ile Tuncay'ın yaşları toplamı kaçtır?

A) 57 B) 43 C) 35

11. **11.** Bir çarpma işleminde birinci çarpan 8, ikinci çarpan 5 olduğuna göre çarpım kaçtır?

A) 14 B) 40 C) 45



Yandaki şekillerin çarpma işlemi olarak ifade edildiği hangi seçenekte doğru olarak verilmiştir?

A) $3 \times 4 = 12$
B) $2 \times 6 = 12$
C) $4 \times 4 = 16$

13. **13.** 9 onluğa en yakın olan sayı hangisidir?

A) 84 B) 99 C) 89

14. **14.** "6 x 3" işlemini, toplama işlemi şeklinde gösteren seçenek hangisidir?

A) $3 + 3 + 3 + 3 + 3 + 3$
B) $6 + 6 + 6 + 6$
C) $6 + 3 + 6 + 3 + 6$

15. **15.** Bahçede 3 tavuk ve 2 kedi vardır. Bu hayvanların toplam ayak sayısı kaçtır?

A) 10 ayak
B) 14 ayak
C) 20 ayak

16. **16.**



Biz evimize her gün 3 ekmeği alıyoruz. Acaba bir haftada toplam kaç ekmeği almış oluruz?

Serhat'ın sorduğu sorunun cevabı nedir?

A) 21 B) 14 C) 10

17. **17.**



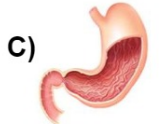
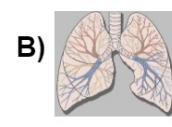
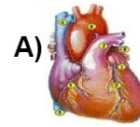
Yukarıda verilen çeyrek karpuzlar kaç bütün karpuz eder?

A) 5 karpuz
B) 4 karpuz
C) 3 karpuz

18. **18.** Doğal afetlerin sonucunda zararların oluşmasında insanların rolü aşağıdakilerden hangisidir?

A) Deprem çantası hazırlamak.
B) Çürük bina yapmak.
C) Ağaç dikmek.


19. **19.** Vücudumuzun gereksinimi olan yiyecekleri parçalayarak sindirilecek duruma getiren iç organımız hangisidir?







20. **20.** Aşağıdakilerden hangisi spor yapmamızın amaçlarından biridir?

A) Sağlıklı büyümek ve gelişmek.
B) İstedğimiz yiyecekleri yiyebilmek.
C) Derslerimizde başarılı olmak.

21. **21.** Sıkıntılı olduğumuz durumlarda, aşağıdakilerden hangisini yapmak **yanlış olur**?
- A) Sıkıntımızı ailemizle paylaşmak.
B) Sıkıntımızı öğretmenimizle paylaşmak.
C) Kimseyle konuşmamak

22. **22.**  Ali, "Bilgisayar almak istiyorum. Bunu nasıl gerçekleştirebilirim?"
Ali, bu isteğini gerçekleştirmek için hangi arkadaşının söylediğini yapmalıdır?


- A)  Konuyu sürekli annene, babana hatırlatmalısın.
B)  Para biriktirerek almayı denemelisin.
C)  Ailenin imkânlarını zorlamalısın.

23. **23.**  "Aile bireyleri arasındaki ilişki sevgi, ve dayanır."

- Bu cümlede, noktalı yerlere hangi seçenekteki sözcükler yazılmalıdır?
- A) saygı – güvene
B) güven – çıkara
C) fayda – kıskançlığa

24. **24.** *Sıra arkadaşı, Esra'dan okul çıkışı eve gitmemesini istiyor. Birlikte bir oyuncakçı dükkânında oyuncaqlara bakmayı teklif ediyor.*

- Esra, aşağıdakilerden hangisini yaparsa doğru davranmış olur?
- A) Teklifi kabul ederse
B) Onunla arkadaşlık etmezse
C) Teklifi kabul etmeyip evine giderse

25. **25.**  "Sahip olduğumuz hak ve özgürlüklere, önderliğinde kavuştuk."

Boş bırakılan yere hangi kelime yazılmalıdır?

- A) padişahın
B) Atatürk'ün
C) cumhurbaşkanının