

Test cevaplama süreniz 40 dakikadır. Başarılar dilerim.

1. "Bu işte çok piştin." cümlesinde altı çizili kelime hangi anlamda kullanılmıştır?

- A. Gerçek anlam
- B. Mecaz anlam
- C. Terim anlam
- D. Yan anlam

2. "Kara" kelimesi hangi cümlede farklı anlamda kullanılmıştır?

- A. Ak kaçе kara gün içindir.
- B. O, kara gün dostudur.
- C. Tavan kararmış.
- D. Kara günler geride kaldı.

3.

Keşke bu sınava çok çalışsaydım.

Yukarıdaki cümlede ağır basan duygu aşağıdakilerden hangisidir?

- A. pişmanlık
- B. şaşkınlık
- C. üzüntü
- D. heyecan

4.

Aşağıdaki cümlelerin hangisinde mecaz anlam yoktur?

- A. Bu davranışları kalbimi kırdı.
- B. Bebeğin simsiyah gözleri vardı.
- C. Arkadaşlarım bana soğuk davrandı.
- D. Bu soğuk tavırları beni üzdü.

5. Aşağıdaki cümlelerin hangisinde yazım yanlışı yapılmıştır?

- A. Maçtaki şansımız çok yüksekti.
- B. Orhan da sınava girdi mi?
- C. Evdeki çiçekleri sulamayı unutma.
- D. Oğuzun'da ayağı kesilmiş.





6. Aşağıdaki cümlelerin hangisinde ikileme kullanılmamıştır?

- A. Bulutlar simsiyah olmuştu.
- B. Deste deste paralar aşağı uçuverdi.
- C. Ağlaya ağlaya eve gitti.
- D. Düşse kalka bu işi öğrendi.

7. Aşağıdaki cümlelerin hangisinde mecaz anlamıyla kullanılan bir kelime bulunmaktadır?

- A. Neden bu kadar sinirlisin?
- B. Boş çuval dik durmaz.
- C. Bu yaptığın kara bir leke olarak anılacak.
- D. Bugün çok şiddetli rüzgar var.

8. Aşağıdaki çocukların hangisinin ifadesi yanlıştır?

- A.  Bağlaç olan "de, da" ayrı yazılır.
- B.  Hal eki olan "de, da" bitişik yazılır.
- C.  "Ben de geleceğim" cümlesindeki "de" bağlaçtır.
- D.  Ek olan "de, da" hiç bir zaman "te, taya" dönüşmez.

9. "0,6,8,9" rakamlarıyla oluşturulabilecek en büyük ve en küçük sayının farkı kaçtır?

- A. 3700
- B. 3750
- C. 3771
- D. 3790

10. Aşağıdaki çarpma işlemlerinden hangisinin sonucu en küçüktür?

- A. 
$$\begin{array}{r} 878 \\ \times 4 \\ \hline \end{array}$$
- B. 
$$\begin{array}{r} 690 \\ \times 8 \\ \hline \end{array}$$
- C. 
$$\begin{array}{r} 778 \\ \times 7 \\ \hline \end{array}$$
- D. 
$$\begin{array}{r} 589 \\ \times 9 \\ \hline \end{array}$$

11. Bir fabrika dört günde 12525 kg ürün üretiyor. Bu fabrika birinci gün ve ikinci gün toplam 5700 kg, üçüncü gün 2985 kg ürün ürettiğine göre dördüncü gün kaç kg ürün üretmiştir?

- A. 3830
- B. 3840
- C. 3850
- D. 3860

12. Turistik bir yeri üç ayda 7585 kişi ziyaret etmiştir. Birinci ay 1250 kişi, ikinci ay 3750 kişi ziyaret ettiğine göre bu yeri üçüncü ay kaç kişi ziyaret etmiştir?

- A. 2585
- B. 2586
- C. 2587
- D. 2588

13. Bir okulda 2585 kız öğrenci, kız öğrenci sayısından 1200 az sayıda erkek öğrenci olduğuna göre bu okulda toplam kaç öğrenci vardır?

A. 3945  
B. 3950  
C. 3970  
D. 3960

14. "585 sayısı ile 49" sayısının çarpımının sonucu ile ilgili yapılan aşağıdaki yorumlardan hangisi yanlıştır?

A. Sayı değeri toplamı 27'dir.  
B. Binler ve onlar basamağının sayı değeri aynıdır.  
C. Yüzler basamağının basamak değeri 600'dür.  
D. Tek bir sayıdır.

- 15.

$$\begin{aligned} 45 \times 100 &= A \\ 215 \times 10 &= B \\ 48 \times 1000 &= C \end{aligned}$$

Yukarıdaki zihinden çarpma işlemlerinin sonuçları küçükten büyüğe doğru sıralanışı aşağıdakilerden hangisidir?

A.  $B < A < C$   
B.  $C < A < B$   
C.  $A < B < C$   
D.  $C < B < A$

- 16.

$$(6 \times \triangle) \times 5 = 6 \times (8 \times \star)$$

Yukarıda verilen eşitliğe göre  $\triangle - \star$  işleminin sonucu aşağıdakilerden hangisidir?

A. 4      B. 3      C. 2      D. 1

17.

$14 \times 5$

$800$

$18 \times 50$

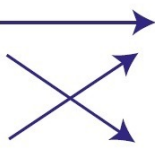
$900$

$32 \times 25$

$70$

Sonuçları eşleştirdiğimizde hangi seçenek doğru olur?


A.



B.




C.



D.



18.



Yandaki çarpma işleminin sonucu aşağıdakilerden hangisidir?

A. 18 280

B. 15 600

C. 19 987

D. 16 740

19.

$$\begin{array}{r} 268 \\ \times 37 \\ \hline 18\triangle 6 \\ + 80\blacksquare \\ \hline 99\star 6 \end{array}$$

Yandaki çarpma işlemine göre  $\triangle + \blacksquare + \star$  işleminin sonucu aşağıdakilerden hangisidir?

A. 7

B. 8

C. 9

D. 12

20.

..... vücudumuzda başta karaciğer olmak üzere birçok organı etkiler. Bu maddeyi kullanıp araç kullanan bireyler birçok trafik kazasına sebebiyet vermektedir.

Verilen metnin doğru tamamlanabilmesi için aşağıdakilerden hangisi yukarıdaki boşluğa yazılmalıdır?

A. alkol

B. sigara

C. şeker

D. su

21. Aşağıdaki kurumlardan hangisi sigara ve alkolün zararlarını gösterip bireylere yardımcı olan kurumdur?

- A. Tema
- B. Kızılay
- C. Afad
- D. Yeşilay

22. Sigarayı bırakma hattının numarası aşağıdakilerden hangisidir?

- A. 156
- B. 110
- C. 171
- D. 184

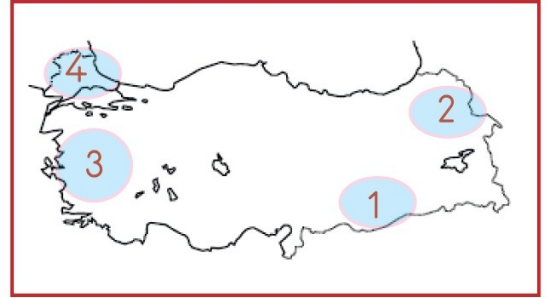
23. Alkol bağımlılığı insan vücudunda daha çok aşağıdaki sistemlerden hangisine zarar verir?

- A. Dolaşım sistemi
- B. Solunum sistemi
- C. Sindirim sistemi
- D. Boşaltım sistemi

24. Aşağıdaki ifadelerden hangisi yanlıştır?

- A. Alkol alışkanlığı olan insanlar yalnız kendilerine değil çevrelerine de zarar verir.
- B. Sigarada yüksek oranda zehirli bir madde olan nikotin bulunur.
- C. Sigara ve alkol bağımlılık yapmaz.
- D. Alkol tüketmek dünyada birçok trafik kazasına sebep olmaktadır.

25.



Yukarıdaki haritada Mondros Ateşkes Antlaşması'ndan sonra işgal edilen yerler numaralandırılarak gösterilmiştir. Haritaya göre 3 numaralı yer hangi devlet tarafından işgal edilmiştir?

- A. İtalya
- B. İngiltere
- C. Yunanistan
- D. Fransa




26. Milli Mücadele Dönemi'nde Doğu Cephesi'nde daha çok aşağıdaki devletlerden hangisiyle savaşmıştır?

- A. Yunanistan
- B. İngiltere
- C. Fransa
- D. Ermenistan

27. Aşağıdaki ifadelerden hangisi yanlıştır?

- A. Milli Mücadele Dönemi zor şartlar altında zaferle sonuçlanmıştır.
- B. Milli mücadele dönemindeki kongrelerde manda ve himaye fikri benimsenmiştir.
- C. Milli Mücadele Dönemi, Atatürk'ün Samsun'a çıkışı ile başlar.
- D. İsmet İnönü, I. İnönü Savaşı'nın komutanlığını yapmıştır.

28. Aşağıdaki görsellerden hangisi yön bulma ile ilgili değildir?



29. Aşağıdaki ifadelerden hangisi yanlıştır?

- A. Dört ana yönümüz vardır.
- B. Navigasyon cihazları teknolojik yön bulma araçlarından biridir.
- C. Yönler, Güneş'in doğuş ve batışına göre belirlenmiştir.
- D. Yüzümüzü Güneş'e döndüğümüzde sağ kolumuz kuzeyi gösterir.

30. Aşağıdakilerden hangisi "ara" yönlerdendir?

- A. kuzey
- B. doğukuzey
- C. güneybatı
- D. güney