



## 5 N 1 K SORULARI



☆ Verilen cümlelerle ilgili soruları yanına cevaplayınız.

😊 Kadir dün köye gitmiş. Köyde ağaçlardan elma toplamış.

Kadir nereye gitmiş ? .....

Köye ne zaman gitmiş ? .....

Köyde ne toplamış? .....

😊 Sinem oyun oynamak için parka gitmiş. Parkta oynarken toka bulmuş.

Kim parka gitmiş ? .....

Sinem ne bulmuş? .....

Sinem parka niçin gitmiş ? .....

😊 Oğuz ve annesi yürüyerek pastaneye gitmiş. Pastaneden meyveli pasta almışlar.

Pastaneye nasıl gitmişler ? .....

Pastaneden ne almışlar ? .....

Pastaneye kim gitmiş ? .....

😊 Fatma odasında ödevlerini yapmış. Ödevi bitince annesinin yaptığı keki yemiş.

Fatma ödevi nerede yapmış ? .....

Fatma ne yemiş? .....

Keki ne zaman yemiş ? .....

😊 Yaren balkondaki çamaşırları topladı. Çamaşırları güzel bir şekilde katladı.

Yaren neredeki çamaşırları topladı ? .....

Çamaşırları nasıl katladı? .....

Çamaşırları kim topladı ? .....

😊 Dedem bize bahçede hikaye anlattı. Ben ve kardeşim dedemi dikkatlice dinledik.

Dedesini ne anlattı ? .....

Dedesini nasıl dinlemişler? .....

Dedesini nerede hikaye anlatmış ? .....



## ÖZEL İSİM

Yanlış yazılan özel isimlerin bulunduğu cümleleri işaretleyelim. Yanlış yazılan cümlenin numarasını ve cümlenin doğru şeklini yazalım.

- 1 Babam izmirden dün geldi.
- 2 Akşam Hülya, Mert'i parkta görmüş.
- 3 Ablam Atatürk Lisesinde okuyor.
- 4 Suna umut'a yaptığı resmi gösterdi.
- 5 Polat'ın dayısı Hollanda'da yaşıyormuş.
- 6 İsmet çomarı her akşam parkta gezdiriyor.
- 7 Dün akşam Kızılay'ın verdiği çadırlar kuruldu .
- 8 Ömer, Elanın tokasını bulmuş .
- 9 Cumhuriyet Caddesi'nde yapılan töreni izledik .
- 10 Yarın Özgeler pikniğe gidecekmiş .



.....

.....

.....

.....

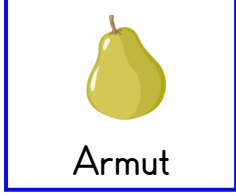
.....

.....



## KARPUZU YAZIN , PORTAKALI KIŞIN YİYORUZ

☼ Aşağıda resimleri verilen sebze meyvelerin hangi mevsimde tüketilmesi daha sağlıklıdır? İşaretleyelim.



Armut

 Yaz  
 Kış

Çilek

 Sonbahar  
 İlkbahar

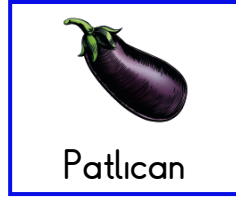
Mandalina

 Yaz  
 Sonbahar


Karnabahar

 Yaz  
 Kış

Pırasa

 Kış  
 İlkbahar

Patlıcan

 Yaz  
 İlkbahar

Biber

 Kış  
 Yaz

Ayva

 İlkbahar  
 Sonbahar

Kiraz

 İlkbahar  
 Kış

Kereviz

 İlkbahar  
 Sonbahar

Erik

 Kış  
 İlkbahar

Karpuz

 Yaz  
 Kış

Portakal

 Yaz  
 Kış

Kavun

 Kış  
 Yaz

Ispanak

 Yaz  
 Kış

Hurma

 Yaz  
 Sonbahar



## MADDENİN HALLERİ

☼ Aşağıdaki resimleri inceleyiniz. Bu resimlerde ışığın önemini yazınız .



.....

.....

.....

.....

.....

.....



.....

.....

.....

.....

.....

.....

☼ Aşağıdaki cümlelerin başına doğruysa "D" , yanlışsa "Y" yazalım.

( ..... ) Karanlık ortamlarda görme olayı gerçekleşir .

( ..... ) Otomobil sürücüleri gece yolu aydınlatmak için farları yakarlar.

( ..... ) Görme olayının gerçekleşmesi için ışık gereklidir.

( ..... ) Gece odamın lambasını yakmadan kitap okuyabilirim.

( ..... ) Çok parlak ışıklarda görme olayı çok gerçekleşir.

( ..... ) İnsanların çevresini görmeleri için sokaklar geceleri sokak lambalarıyla aydınlatılır .





## ÇARPMA İŞLEMİ PROBLEMLER

1. Bir otomobil saatte 90 kilometre hızla gitmektedir. Gideceği yer 700 kilometre uzaklıktadır. 4 saat yol gittikten sonra otomobilin gideceği kaç kilometre yol kalmıştır ?

Çözüm:



2. Okulumuzdaki 245 öğrenci ve 23 öğretmenle fidan dikmeye gittik. Her birimiz 3 tane fidan diktiğimize göre , toplam kaç tane fidan diktik ?

Çözüm:



3. Çiğdem tanesi 29 liradan 6 tane kitap almış. Satıcıya 200 lira vermiş. Çiğdem kaç lira para üstü alır ?

Çözüm:



4. Babam tanesi 78 liradan 2 tane kazak , tanesi 125 liradan 2 tane pantolon almış. Babam toplam kaç lira harcamıştır ?

Çözüm:



5. Bir kolide 30 tane yumurta bulunmaktadır. Bakkal 7 koli yumurta satmıştır. Bakkalın sattığı yumurta kaç tanedir ?

Çözüm:



6. Bir trende 15 tane kompartıman vardır. Her kompartımanda 42 tane yolcu bulunmaktadır. Yolcuların 179 tanesi ilk durakta indiğine göre , kaç tane yolcu kalmıştır ?

Çözüm:







## ÇARPMA İŞLEMİ PROBLEMLER

1. Gaye kitabından her gün 27 sayfa okumuş. Bir hafta sonra kitapta okunacak 35 sayfa kalmış. Bun göre kitabın tamamı kaç sayfadır ?

Çözüm:



2. Bir baloncu günde 56 balon satmaktadır. Baloncu 8 günde kaç balon satar ?

Çözüm:



3. Bir miktar kitap her birinde 48 kitap olacak şekilde 6 kutuya konuyor. 27 kitap ise artıyor. Kitapların tamamı kaç tanedir ?

Çözüm:



4. Bir çiftlikte 16 inek, 28 koyun vardır. Bu çiftlikte bulunan hayvanların ayak sayıları toplamı kaçtır?

Çözüm:



5. Salih amca kümeden 10 gün boyunca her gün 34 tane yumurta toplamış. Yumurtaların 298 tanesini pazarda satmış. Geriye kaç tane yumurta kalmıştır ?

Çözüm:



6. Babam 5 düzine kalem almıştı. Kalemlerin 27 tanesini kullandım . Kaç tane kalemim kaldı?

Çözüm:







