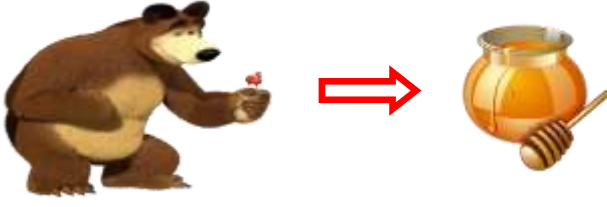
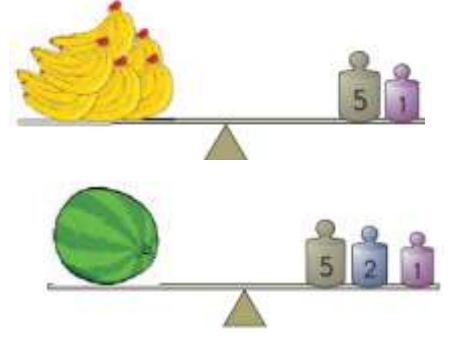




TARTMA PROBLEMLERİ 1



Koca Ayı ve arkadaşları sabah 27 kg bal yiyor. Akşam ise sabah yediği baldan 14 kg fazla bal yiyorlar. Toplam kaç kg bal yemişler?



Kukuli yukarıdaki terazilerdeki ağırlık kadar manavdan alışveriş yapmıştır. Aldıkları toplam kaç kilogramdır?



56 kg

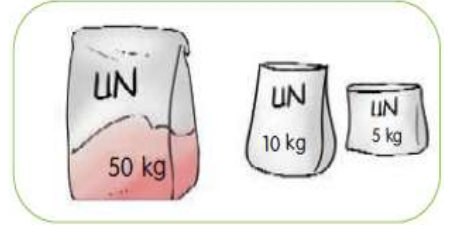


25 kg



?

Keloğlan 56 kg, Heidi 27 kg ağırlığındadır. Maysa'nın ağırlığı Heidi'nin ağırlığından 6 kg daha azdır. Üçünün toplam ağırlığı kaç kg'dır?



Niloya ve annesi ekmek pişirmek için paketlerdeki unları satın almışlardır. Toplam kaç kilogram almışlardır?



9 kg

Karpuzun ağırlığı 9 kilogramdır. 4 adet karpuz alan birisi toplam kaç kilogram karpuz almıştır?



Kral Şakir 4 paket şeker ve 5 paket pirinç alıyor. Aldıkları toplam kaç kilogram gelmektedir?