

Adı : .....  
Soyadı : .....  
Sınıfı : .....

## 2.Sınıf

14.Hafta Etkinlikleri



Dersler	Konular	Sayfa Sayısı
Hayat Bilgisi	Sağlıklı Büyüyoruz	1
	Dengeli Besleniyoruz	1
Türkçe	Form Dolduruyorum	2
Matematik	Eşitlik	2
	Toplama ve Çıkarma Probl.	6
Beden Eğt. ve Oyun	Resfebe(Seviye-3)	2
Okuduğunu Anlama	Ankara	2
Oku, Anla, Boya	Şerife'nin Odası	1
<b>Toplam</b>		<b>17</b>



HASAN YILDIRIM

Eba TV ve yıllık plan ile uyumlu günlük testler için Fufuk Bilgi Yarışması'nı aşağıdaki linkten indirebilirsiniz.

<https://play.google.com/store/apps/details?id=nobody.fufuktest>

**2.SINIF**

### FUFUK YARIYIL TATİL SETİ

**32 SAYFA** **32 SAYFA** **32 SAYFA**

**15 TL**  
**3 KİTAP**  
Tatil Planı

**BÜYÜK BOY KİTAPLAR**

WHATSAPP SİPARİŞ **0 552 252 83 85** KARGO ÜCRETSİZ



HASAN YILDIRIM

Adı : .....  
Soyadı : .....  
Sınıfı : .....

## Hayat Bilgisi-2

Sağlıklı Büyüyoruz



**Bilgi:** Sağlıklı büyümek ve gelişmek için beslenmemize dikkat etmeliyiz. Kişisel bakımımıza özen göstermeliyiz. Düzenli olarak spor yapmalıyız. Zamanında ve yeteri kadar uyumalıyız.

Aşağıdaki ifadelerden doğru olanların başındaki kutucuğa "D", yanlış olanların başındaki kutucuğa "Y" yazalım.

- |                          |  |
|--------------------------|--|
| <input type="checkbox"/> | Dengeli ve düzenli beslenmeliyiz.                        |
| <input type="checkbox"/> | Sadece yemekten önce ellerimizi yıkamalıyız.             |
| <input type="checkbox"/> | Yemekten önce dişlerimizi fırçalamalıyız.                |
| <input type="checkbox"/> | Düzenli spor yapmalıyız.                                 |
| <input type="checkbox"/> | Sık sık uyumalıyız.                                      |
| <input type="checkbox"/> | Kişisel bakımımıza özen göstermeliyiz.                   |
| <input type="checkbox"/> | Zamanında ve yeteri kadar uyumalıyız.                    |
| <input type="checkbox"/> | Su ve sabun tasarrufu için elbiselerimizi yıkamamalıyız. |

Aşağıdaki cümlelerde boş bırakılan yerlere uygun sözcüğü yazalım.

- |      |       |          |       |      |         |       |
|------|-------|----------|-------|------|---------|-------|
| spor | soğuk | sağlıklı | banyo | önce | dengeli | sonra |
|------|-------|----------|-------|------|---------|-------|

Tuvaletten ..... ve ..... ellerimi yıkarım.

Sağlıklı büyümek için ..... beslenirim.

Terliyken ..... su içmem.

Düzenli olarak ..... yaparım.

Sağlığımız için ..... önemlidir.

..... besinler tüketirim.

Adı : .....  
Soyadı : .....  
Sınıfı : .....

## Hayat Bilgisi-2

Dengeli Besleniyoruz



**Bilgi:** Vücudumuzun ihtiyacı olan besinlerden yeteri kadar alırsak dengeli beslenmiş oluruz. Düzenli beslenmek için günde üç öğün yemek yemeliyiz.

Dengeli ve düzenli beslenmek için ihtiyacımız olanları işaretleyelim.



Aşağıdaki ifadelerden doğru olanların başındaki kutucuğa "D", yanlış olanların başındaki kutucuğa "Y" yazalım.

- |                          |   |
|--------------------------|---|
| <input type="checkbox"/> | Canlılar yaşamını sürdürebilmek için beslenirler.         |
| <input type="checkbox"/> | Sağlığımız için besinleri bol bol tüketmeliyiz.           |
| <input type="checkbox"/> | Besinleri gereğinden az tüketerek sağlıklı büyürüz.       |
| <input type="checkbox"/> | Vücudumuzun ihtiyacı olan besinleri dengeli tüketmeliyiz. |
| <input type="checkbox"/> | Düzenli beslenmek için günde iki öğün yemek yemeliyiz.    |
| <input type="checkbox"/> | Uyumadan önce bol bol besin tüketmeliyiz.                 |
| <input type="checkbox"/> | Akşam yemeğinde peynir, yumurta, reçel tüketmeliyiz.      |
| <input type="checkbox"/> | Dondurulmuş ve ambalajlı gıdalar tercih etmeliyiz.        |

Adı : .....  
Soyadı : .....  
Sınıfı : .....

## Türkçe-2

Form Dolduruyorum-1



**Bilgi:** Günlük hayatımızda bazen bize verilen bir formu doldurmamız gerekir. Böyle durumlarda formu yönergelerine uygun doldurmaliyiz.

Aşağıdaki formu yönergelerine uygun olarak dolduralım.

### KEPEZ MEVLANA İLKOKULU KÜTÜPHANESİ ÜYE KAYIT FORMU



**Öğrencinin;**

TC Kimlik No:.....

Adı ve Soyadı:.....

Sınıfı:.....

Sınıf Öğretmeni:.....

**Öğrenci Velisinin;**

TC Kimlik No:.....

Adı ve Soyadı:.....

Ev Telefonu:.....

Cep Telefonu:.....

...../...../20.....

(Veli İmzası)

Aşağıdaki formu yönergelerine uygun olarak dolduralım.

### KEPEZ MEVLANA İLKOKULU 2-D SINIFI ÖĞRENCİ BİLGİ FORMU

**Öğrencinin;**

TC Kimlik No:.....

Adı ve Soyadı:.....

Yaşı:.....

Cinsiyeti:.....

Boyu:.....

Kilosu:.....

Kan Grubu:.....

**Annesinin;**

Adı ve Soyadı:.....

Mesleği:.....

Cep Telefonu:.....

**Babasının;**

Adı ve Soyadı:.....

Mesleği:.....

Cep Telefonu:.....

Adı : .....  
Soyadı : .....  
Sınıfı : .....

**Türkçe-2**  
Form Dolduruyorum-2



Aşağıdaki formu yönergelerine uygun olarak dolduralım.

**SATRANÇ LİSANSI  
BAŞVURU FORMU**

**Sporcunun;**

Adı ve Soyadı : .....

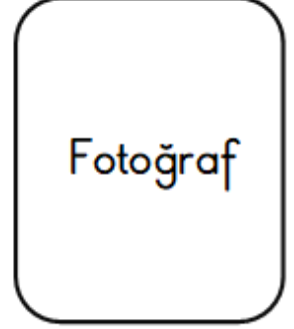
TC Kimlik No : .....

Cinsiyeti : .....

Doğum Yeri/Tarihi : .....

İli/İlçesi : .....

Mesleği : .....



Aşağıdaki formda yanlış doldurulan yönergeleri örnekteki gibi işaretleyelim.

**TÜRKİYE GENELİ DENEME SINAVI  
ÖĞRENCİ KAYIT FORMU**

**Öğrencinin;**

TC Kimlik No: 12345678901

Adı ve Soyadı: 2.Sınıf

Sınıfı: Kayra

Okul Numarası: 123

Öğretmeni: 0.565.565.65.65

**Okulunun;**

Adı: Mevlana İlkokulu

İli: Kepez

İlçesi: Antalya

Telefonu: 12345678901

Adı : .....  
Soyadı : .....  
Sınıfı : .....

## Matematik-2

Eşitlik-1



**Bilgi:** Eşit işareti (=) işlemlerin sonucunu göstermek dışında iki matematiksel ifadenin eşit olduğu durumlarda da kullanılır.

$$5 + 7 = 12$$

$$5 + 7 = 6 + 6$$

Aşağıdaki işlemlerin sonucunu bularak sonucu eşit olanları örnekteki gibi eşleştirelim.

$$5 + 6 = 11$$

$$10 - 2 = \dots\dots$$

$$7 + 6 = \dots\dots$$

$$4 + 6 = \dots\dots$$

$$9 + 7 = \dots\dots$$

$$9 + 4 = \dots\dots$$

$$14 - 3 = 11$$

$$15 - 5 = \dots\dots$$

$$5 + 3 = \dots\dots$$

$$8 + 8 = \dots\dots$$

Aşağıdaki işlemlerin sonucunu bularak eşit işareti kullanarak örnekteki gibi eşleştirelim.

$$10 + 5 = 15$$

$$9 + 9 = \dots\dots$$

$$30 - 10 = \dots\dots$$

$$15 + 10 = \dots\dots$$

$$22 - 5 = \dots\dots$$

$$10 + 5 = 8 + 7$$

$$\dots\dots = \dots\dots$$

$$\dots\dots = \dots\dots$$

$$\dots\dots = \dots\dots$$

$$\dots\dots = \dots\dots$$

$$15 + 5 = \dots\dots$$

$$8 + 7 = 15$$

$$50 - 25 = \dots\dots$$

$$8 + 9 = \dots\dots$$

$$20 - 2 = \dots\dots$$

Adı : .....  
Soyadı : .....  
Sınıfı : .....

## Matematik-2

Eşitlik-2



Aşağıdaki işlemlerde eşitliğin sağlanması için boş bırakılan yerlere doğru sayıları örnekteki gibi yazalım.

$5 + 5 = 6 + 4$

$14 - 5 = 6 + \dots$

$8 + 8 = 20 - \dots$

$\dots + 7 = 15 - 4$

$10 + \dots = 13 + 4$

$9 + 9 = 18 + \dots$

$17 - 2 = 18 - \dots$

$20 + 5 = \dots - 5$

$11 + 11 = 25 - \dots$

$12 - \dots = 15 - 6$

$23 + 2 = 20 + \dots$

$16 + \dots = 18 - 0$

$7 + 21 = 30 - \dots$

$15 + \dots = 21 + 4$

$40 - 10 = 20 + \dots$

$15 + 15 = 50 - \dots$

$20 - \dots = 10 + 0$

$26 + 4 = \dots + 5$

$40 + 10 = 60 - \dots$

$50 + \dots = 90 - 10$

$80 - 30 = \dots + 30$

Aşağıdaki eşitliklerden doğru olanların başına "D", yanlış olanların başına "Y" yazalım.

$8 + 5 = 15 - 2$

$20 - 10 = 7 + 3$

$15 - 10 = 9 - 4$

$8 + 6 = 15 - 4$

$12 + 5 = 20 - 6$

$14 - 3 = 20 - 9$

$9 + 9 = 18 - 3$

$15 + 15 = 40 - 10$

$25 - 15 = 40 - 10$

$42 + 0 = 22 + 20$

$50 - 20 = 25 + 3$

$43 + 7 = 54 - 4$

Adı : .....  
Soyadı : .....  
Sınıfı : .....

## Matematik-2

Toplama-Çıkarma Problemleri-1



Aşağıdaki problemleri çözelim.

Sekiz onluk ve altı birlikten üç onluk ve sekiz birlik çıkarsa geriye kaç onluk ve kaç birlik kalır?


65'in 48 eksiği kaç eder?


Celil'in babası 43 yaşındadır. Celil ise babasından 35 yaş küçüktür. Celil kaç yaşındadır?


15 eksiği 50 olan sayı kaçtır?


Üç deste kalemin iki düzinesini sınıfına dağıtan Hasan öğretmenin kaç kalemi kalmıştır?


Miraç'ın 50 lirası vardı. Marketten top alan Miraç'ın 35 lirası kaldı. Miraç'ın aldığı top kaç liradır?


Melek Su 18 yaşındadır. Elif ise Melek Su'dan 5 yaş küçüktür. Melek Su ile Elif'in yaşları toplamı kaçtır?




Adı : .....  
Soyadı : .....  
Sınıfı : .....

**Matematik-2**  
Toplama-Çıkarma Problemleri-2



Aşağıdaki problemleri çözelim.

75'in 26 eksiği kaç eder?


İki deste karpuzun bir düzinesini satan manavda kaç tane karpuz kalmıştır?


27 eksiği 57 olan sayı kaçtır?


Bir ağaçtaki 64 kuşun önce 16 tanesi, sonra 20 tanesi uçtu. Ağaçta kaç kuş kalmıştır?


Ezel'in sarı ve kırmızı misketlerinin toplamı 42'dir. Misketlerinin 23 tanesi sarı olduğuna göre kırmızı misketlerinin sayısı kaçtır?


Kayra'nın 65 lirası vardı. 15 liraya kitap, 5 liraya dondurma alan Kayra'nın kaç lirası kalmıştır?


Nihat'in babası 35 yaşındadır. Nihat ise babasından 26 yaş küçüktür. Üç yıl sonra Nihat kaç yaşında olacaktır?


Adı : .....  
Soyadı : .....  
Sınıfı : .....

**Matematik-2**  
Toplama-Çıkarma Problemleri-3



Aşağıdaki problemleri çözelim.

Muhammed amca 53 yaşındadır. 8 yıl önce Muhammed amca kaç yaşındaydı?


Zeynep 20, Medine 15 yaşındadır. 5 yıl önce Zeynep ile Medine'nin yaşları toplamı kaçtır?


Bir çıkarma işleminde çıkan sayı 12, fark 36 olduğuna göre eksilen sayı kaçtır?


Bir çıkarma işleminde eksilen sayı 90, fark 45 olduğuna göre çıkan sayı kaçtır?


Küresteki 47 hayvanın 15 tanesi tavuk, 2 tanesi horoz ve geri kalanları civcivdir. Küreste kaç tane civciv vardır?


Babam 47 yaşındadır. Annem ise babamdan 3 yaş küçüktür. Babam ile annemin yaşları toplamı kaçtır?


Bir bakkal beş deste ekmeğin iki düzinesini satmıştır. Bakkalın satılmayan kaç ekmeği kalmıştır?


Adı : .....  
Soyadı : .....  
Sınıfı : .....

## Matematik-2

Toplama-Çıkarma Problemleri-4



Aşağıdaki problemleri çözelim.

Abdullah ağaçtaki 63 elmanın 26 tanesini toplamıştır. Ağaçta kaç elma kalmıştır?


İbrahim 27 yaşındadır. Kardeşi ise İbrahim'den 7 yaş küçüktür. İki yıl sonra İbrahim ile kardeşinin yaşları toplamı kaç olur?


Bir toplama işleminde toplananlardan biri 36, toplam 81 olduğuna göre diğer toplanan kaçtır?


Bir çıkarma işleminde eksilen sayı 73, fark 25 olduğuna göre çıkan sayı kaçtır?


Bir çıkarma işleminde çıkan sayı 38, fark 13 olduğuna göre eksilen sayı kaçtır?


Elisa'nın 40 lirası vardır. Ablasının parası ise Elisa'nın parasından 5 lira eksiktir. Elisa ile ablasının toplam kaç lirası vardır?


Ayşe'nin yaşı iki basamaklı en küçük sayıdır. Dedesinin yaşı ise iki basamaklı en büyük sayıdır. Ayşe, dedesinden kaç yaş küçüktür?


Adı : .....  
Soyadı : .....  
Sınıfı : .....

## Matematik-2

Toplama-Çıkarma Problemleri-5



Aşağıdaki problemleri çözelim.

Melisa'nın 40 tane şekeri vardı. Şekerlerinde 10 tane İlayda'ya, 12 tane de Gülçin'e verdi. Melisa'nın kaç şekeri kalmıştır?


Ceylin 60 sayfalık hikaye kitabının 24 sayfasını Cumartesi günü, 22 sayfasını Pazar günü okudu. Ceylin'in kitapta okumadığı kaç sayfası kalmıştır?


Boş bir otobüse birinci durakta 25 kişi bindi. İkinci durakta ise 27 kişi bindi, 20 kişi indi. Otobüs yoluna kaç yolcu ile devam etmiştir?


Hasan Ensar, 70 lira harçlığının 18 lirasına top, 27 lirasına spor ayakkabı aldı. Hasan Ensar'ın kaç lirası kalmıştır?


Ahmet'in bahçede 33 tane ağacı vardı. İlkbahar mevsiminde 16 tane daha ağaç dikti. Ancak 12 tanesi kurudu. Ahmet'in kaç tane ağacı kalmıştır?


Tuncay'ın 55 lirası vardı. Babası Tuncay'a 15 lira verdi. 20 liraya top alan Tuncay'ın kaç lirası kalmıştır?


Melek 7 yaşındadır. Annesi Melek'ten 25 yaş büyüktür. Melek'in ağabeyi ise annesinden 20 yaş küçüktür. Melek'in ağabeyi kaç yaşındadır?


Adı : .....  
Soyadı : .....  
Sınıfı : .....

## Matematik-2

Toplama-Çıkarma Problemleri-6



Aşağıdaki problemleri çözelim.

Fatih bayramda topladığı 72 şekerin 17 tanesini Yusuf'a, 15 tanesini Kerem'e verdi. Fatih'in geriye kaç şekeri kalmıştır?


İlayda 56 tane sorunun 24 tanesini Cumartesi, 26 tanesini Pazar günü çözmüştür. İlayda'nın çözmediği kaç soru kalmıştır?


Bir çobanın 35 tane koyunu vardı. Koyunlarının 23 tane yavrusu oldu. Daha sonra 27 tanesini satan çobanın kaç koyunu kalmıştır?


Elifsu 50 lira harçlığının 30 lirasına ayakkabı aldı. Daha sonra annesinden 10 lira daha harçlık alan Elifsu'nun kaç lirası vardır?


Fadimelerin bahçesindeki 38 ağacın 15 tanesi kurumuştur. Bahçeye 28 tane daha ağaç diken Fadimelerin son durumunda kaç tane ağaçları vardır?


Eymen'in 30 lirası vardı. Eymen'e annesi 40, babası 20 lira daha verdi. 50 liraya kumandalı araba alan Eymen'in kaç lirası kalmıştır?


Gülçin 24 yaşındadır. Hayal Gülçin'den 4 yaş küçüktür. Şerife de Hayal'den 4 yaş küçük olduğuna göre üçünün yaşları toplamı kaçtır?


Adı : .....  
Soyadı : .....  
Sınıfı : .....

## 2.SINIF

Okuduğunu Anlama Metni-16



Aşağıdaki metni dikkatle okuyalım. Okurken metnin içindeki sorularda durarak soruları cevaplayalım. Daha sonra metni dakika tutarak beş defa okuyalım.

### ANKARA



Başkentimiz olan Ankara, ülkemizin ortasındadır. Başkent olma nedenlerinden birisi de zaten budur. Başkent olduktan sonra hızla gelişmiş ve ülkemizin en kalabalık ikinci şehri olmuştur.

**Soru:** Ülkemizin en kalabalık şehri hangisidir?

23 Nisan 1923'te açılan Büyük Millet Meclisi ve günümüzde ülkemizin yönetildiği yer olan Türkiye Büyük Millet Meclisi(TBMM) de Ankara'dadır. Ayrıca Atatürk'ün anıt mezarı olan Anıtkabir de Ankara'dadır.



Şehrin adını taşıyan Ankara keçişi, Ankara tavşanı ve Ankara kedisini

dünyaca ünlüdür.



Ankara denildiğinde akla gelen bir başka şey de Seymenlerdir. Geçmişte silahlı birlikler olan Seymenler, günümüzde bayram ve törenlerde kılıç kuşanıp, yöresel kıyafetlerini giyip gösteri yaparlar. Yaptıkları gösterilerle izleyenleri kendilerine hayran bırakırlar.



(Seymenler Atatürk'ü karşıyorlar.)

Hasan YILDIRIM  
(Şehirlerimiz-1)

Okuma Süreleri	1.Okuma	2.Okuma	3.Okuma	4.Okuma	5.Okuma



HASAN YILDIRIM

Adı : .....  
Soyadı : .....  
Sınıfı : .....

## 2.SINIF

Okuduğunu Anlama Metni-16



Aşağıdaki soruları okuduğumuz metne göre cevaplayalım.

### SORULAR

1-Ankara ülkemizin neresindedir?

.....

2-Ankara'nın başkent olma nedenlerinden birisi nedir?

.....

3-Ülkemiz nereden yönetilmektedir?

.....

4-Ankara'nın önemli yapıları nelerdir?

.....

5- Ankara'nın neleri dünyaca ünlüdür?

.....

6-Seymenler geçmişte nasıllarmış?

.....

Aşağıya yaşadığımız şehri tanıtan bir metin yazalım. Metnimize uygun bir resim çizelim.

.....

.....

.....

.....

.....

.....

.....



All Rights Reserved

**HASAN YILDIRIM**


Adı : .....  
Soyadı : .....  
Sınıfı : .....

**2.SINIF**  
Oku, Anla, Boya-4



Boyalarınızı hazırlayınız. Metni okuyunuz. Metinde belirtilen renklere göre resmi boyayınız. Eksik kalan yerleri istediğiniz renge boyayabilirsiniz.

## ŞERİFE'NİN ODASI



Şerife'nin çok güzel bir odası var. Odasında yerler sarı, duvarlar ise pembe renktedir. Duvarın üzerinde içten dışa doğru mor, pembe ve sarı renkli kalpler olan bir tablo asılıdır. Şerife'nin yatağı kırmızı, yorganı pembe, yastığı sarı renklidir. Yatağının üzerinde de kırmızı bir kalp var. Yatağın bir tarafında mor bir koltuk duruyor. Koltuğun üzerinde ise sarı bir yastık var. Yastığın üzerinde kırmızı kalpler var. Yatağın diğer tarafında kahverengi bir sehpa var. Üzerinde kırmızı bir abajur var. Abajurun yanında kırmızı çerçeve içinde Şerife'nin fotoğrafı var.



All Rights  
Reserved

**HASAN YILDIRIM**





Adı : .....  
Soyadı : .....  
Sınıfı : .....

# RESFEBE

SEVİYE-3



**Resfebe:** Kelime veya kelime gruplarının; harf, sayı ve resimlerle temsil edildiği oyunlardır. Görsellerde verilenlerin renk, yön, miktar gibi durumları yorumlanır.



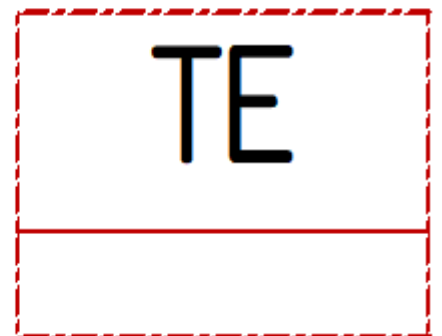

Adı : .....  
Soyadı : .....  
Sınıfı : .....

# RESFEBE

SEVİYE-3



**Resfebe:** Kelime veya kelime gruplarının; harf, sayı ve resimlerle temsil edildiği oyunlardır. Görsellerde verilenlerin renk, yön, miktar gibi durumları yorumlanır.



Adı : .....  
Soyadı : .....  
Sınıfı : .....

# RESFEBE

## CEVAP AHANTARI



### SEVİYE-2

 T10 KARTON	 K KELLE	 BALTA	 YANAK	 T → TOKAT	 YA YAKA
 ← Y KOYUN	 P PAKET	 U ≅ UYANIK	 N NOTER	 PAS LI PASAKLI	 NALBANT
 TARAK	 L PARALEL	 C L AYLAK	 N BACANAK	 Ş IN SARIŞIN	 AN T ANTALYA
 M -s MANDAL	 K → CA KARIKOCA	 KARALAMA	 O I NOTA	 V VALİZ	 10 JETON

### SEVİYE-3

 KARALAMAK	 1 MM BİRİKİM	 Ç İŞ ÇALIŞKAN	 D ŞŞ DİKİŞ	 G A GALATA	 π PIYANGO
 4 ELLI DÖRT	 F FANATİK	 6 GÖZALTI	 10 C ONAYLAMA	 (N) SANAT	 2 İKİYÜZLÜ
 100 GÜLYÜZ	 H HALAT	 K ILIK	 Ç ÇAĞIRMAK	 π PILAV	 MA DONDURMA
 -k KABAKULAK	 (K) SAKAT	 VAN KARAVAN	 C LİK KOLAYLIK	 H C HALAY	 TE KARATE