










➤ TARTMA

❖ Sıralama

1. Aşağıdaki varlıkları **en hafiften en ağıra** doğru numara vererek sıralayalım.

 <input type="text"/>	 <input type="text"/>	 <input type="text"/>
 <input type="text"/>	 <input type="text"/>	 <input type="text"/>
 <input type="text"/>	 <input type="text"/>	 <input type="text"/>

2. Terazide verilen denge durumuna göre en ağır olanın varlığın kutucuğunu **maviye**, en hafif olan varlığın kutucunu **kırmızıya** boyayalım.

