

Adı :

Soyadı:

MATEMATİK

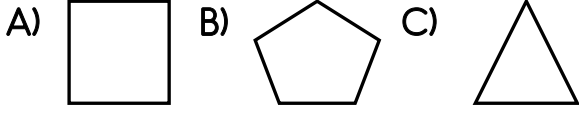
Doğru Sayısı :



Yanlış sayısı:



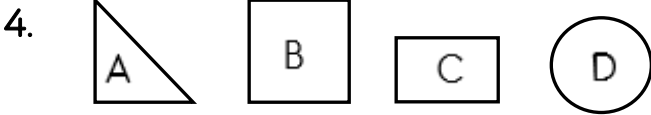
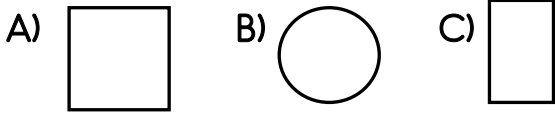
1. Aşağıdaki geometrik şekillerden hangisinin kenar sayısı en azdır?



2. Yandaki geometrik şeklin ismi aşağıdakilerden hangisidir?



3. Kenarı ve köşesi olmayan geometrik şekil aşağıdakilerden hangisidir?




Yukarıdaki geometrik şekillerden hangilerinin 4 kenarı ve 4 köşesi vardır ?

A) B-C B) A-B-C C) B-D

5. *Dört kenarım var.

*Dört köşem var.

*Kenarlarımın uzunlukları birbirine eşittir.



Yukarıda tarif edilen geometrik şeklin ismi nedir ?

A) Üçgen B) Kare C) Dikdörtgen

6. Aşağıdakilerden hangisi dikdörtgenin özelliklerinden değildir ?

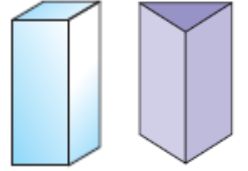
A) Dört köşesi vardır
B) Üç kenarı vardır.
C) Karşılıklı iki kenarın uzunlukları birbirine eşittir.

7. Yandaki hediye paketi hangi geometrik cisme benzemektedir ?



A) Küp B) Küre C) Üçgen prizma

8. Yandaki geometrik cisimleri isimlendirdiğimizde aşağıdakilerden hangisi açıkta kalır ?

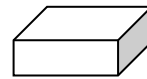


A) Kare prizma B) Üçgen prizma
C) Silindir

9. Aşağıdakilerden hangisi küreye benzemektedir ?



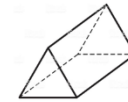
10.



• Silindir

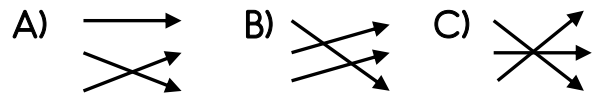


• Üçgen prizma



• Dikdörtgen prizma

Yukarıdaki geometrik cisimler ve isimleri eşleştirildiğinde aşağıdaki şekillerden hangisi ortaya çıkar ?



11. • Küp • Küre
• Üçgen prizma

Aşağıdaki geometrik cisimlerden hangisinin ismi aşağıda yoktur ?

