



TÜRKÇE DENEME SINAVI



1



Kedim Pofuduk'u
1 2
izmir'den almıştık.
3

Altı çizili kelimelerden hangisinin yazımı **yanlıştır**?

- A) 1 B) 2 C) 3

4

Merdivenin
hangi basama-
ğındaki kelimeler
zit anlamlıdır?

- 4 yaşıt
3 yaşlı
2 kuru
1 ıslak

- A) 1 - 2 B) 1 - 3
C) 1 - 4

2

★ Aldığım ayakkabı büyük geldi.

□ Son soru biraz zor sanki.

△ Mavi elbisemi bulamadım.

Hangi cümledeki altı çizili kelimenin eş anlamlısı **yoktur**?

- A) ★ B) □ C) △

5

★ kol-ay-ca

△ ku-lü-be

□ yağ-mur-luk

Yukarıda verilen kelimelerden hangisi veya hangileri hecelerine **yanlış** ayrılmıştır?

- A) Yalnız ★ B) ★ ve △
C) △ ve □

3

Görselin adının anlamını bulmak için sözlükte hangi harfin bölümüne bakmalıyız?



- A) a B) ç C) d

6

"Merve **ile** Sanem **bahçede** **top** oynuyordu."

Yukarıdaki cümlede hangi renkte yazılı olan kelimenin tek başına anlamı **yoktur**?

- A) Yeşil B) Mavi
C) Pembe



TÜRKÇE DENEME SINAVI



7



Tır hangi yoldan giderse cümledeki kelime sayısına ulaşır?

- A) A B) B C) C

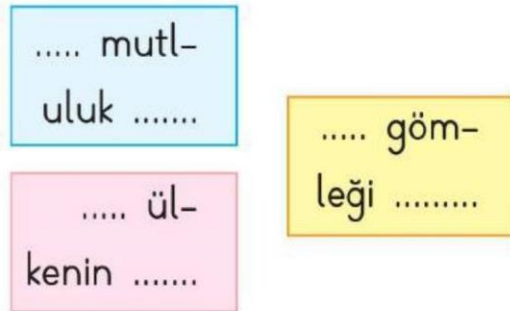
9



Hangi bebeğin adı tersten okunduğunda da aynıdır?

- A) Demir B) Nazan C) Duru

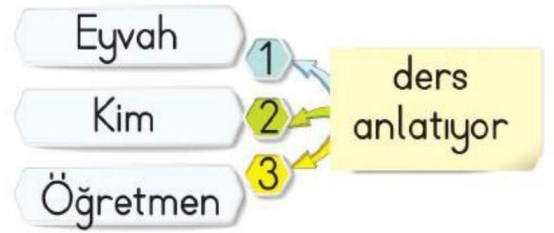
8



Hangi renk kutunun içinde yazılı kelime satır sonunda **yanlış** yazılmıştır?

- A) Mavi B) Sarı
C) Pembe

10



Cümleye hangi kelime ile başlarsak soru cümlesi oluşturmuş oluruz?

- A) 1 B) 2 C) 3



MATEMATİK DENEME SINAVI



1

Sayı		74
Basamak Adı	■	
Basamak Değeri		♥

Tabloda ■ ve ♥ yerine hangi seçenekteki bilgiler yazılmalıdır?

- ♥
- A) Onlar Basamağı 40
- B) Birler Basamağı 4
- C) Onlar Basamağı 4

2

25 - 30 - 15 - 20 - 35
↓ ↓ ↓ ↓ ↓
T A K İ P

Yukarıdaki sayıları 15'ten 35'e kadar **ileriye** doğru **beşer** sayarak sıraladığımızda hangi kelimeyi elde ederiz?

- A) **PATİK** B) **KATİP**
C) **KİTAP**

3

İki deste kalemimin üç tanesini arkadaşıma verdim.



İzzet'in kaç kalemi kalmıştır?

- A) 7 B) 17 C) 21

4

43

30

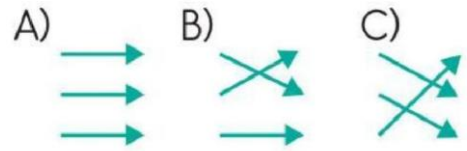
48

40

32

50

Yukarıda verilen sayılar en yakın onlukları ile eşleştiriliyor. Buna göre okların konumu nasıl olur?



5

△ → 3 □ → 7 ○ → 4

Buna göre:

işlemin sonucu kaçtır?

- A) 74 B) 84 C) 94

6

$$\begin{array}{r} 59 \\ - 34 \\ \hline \star \triangle \end{array}$$

Yukarıdaki çıkarma işleminde $\triangle - \star$ işleminin sonucu kaçtır?

- A) 1 B) 2 C) 3



MATEMATİK DENEME SINAVI



7

$$\begin{array}{l} 90 - 80 = 10 \\ 70 - 40 = 20 \\ 60 - 30 = 30 \end{array}$$

Sonucu doğru olan işlemlerin başına D, yanlış olanlara Y yazarsak, toplar nasıl görünür?

- A) $\begin{array}{c} D \\ Y \\ D \end{array}$ B) $\begin{array}{c} D \\ D \\ Y \end{array}$ C) $\begin{array}{c} D \\ Y \\ Y \end{array}$

9

Yanda verilen işlemde \triangle aşağıdakilerden hangisidir?

$$\begin{array}{r} \triangle \\ + 41 \\ \hline 64 \end{array}$$

- A) 23 B) 33 C) 43

8

$$\begin{array}{ll} 52 + 26 & 70 \\ 47 + 19 & 80 \\ 64 + 33 & 90 \end{array}$$

Yukarıdaki toplama işlemleri ile tahmini sonuçlar eşleştirildiğinde oklar nasıl görünür?

- A) $\begin{array}{c} \rightarrow \\ \times \\ \rightarrow \end{array}$ B) $\begin{array}{c} \rightarrow \\ \rightarrow \\ \rightarrow \end{array}$ C) $\begin{array}{c} \times \\ \rightarrow \\ \rightarrow \end{array}$

10

Hangi işlemin tahmini sonucu diğerlerinden farklıdır?

$$\begin{array}{lll} A) 25 & B) 42 & C) 18 \\ + 15 & + 28 & + 34 \\ \hline \dots & \dots & \dots \end{array}$$



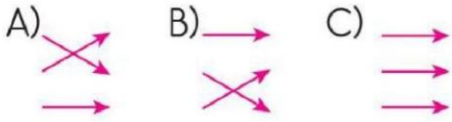
HAYAT BİLGİSİ DENEME SINAVI



1

Sevdiğim şeyler	Ayten
Benim adım	Spor yapmak
Doğum tarihim	25 Haziran

Ayten'in kendini tanıtırken kullandığı bilgileri eşleştirdiğimizde okların görünümü nasıl olur?



2

Nur: Ortak bir karar alabiliriz.

Oya: Benim fikrimi de dinler misiniz?

Kerem: Çabuk söyle!

Hangi öğrenciler karar alma sürecinde doğru bir iletişim dili kullanmıştır?

- A) Nur - Oya
B) Oya - Kerem
C) Nur - Kerem

3



Yukarıdaki ifade, hangisi ile devam ederse doğru olur?

- A) 1 B) 2 C) 3

4

Hangi öğrenci ders araç ve gereçlerini özenli kullanmamıştır?

- A) Defter ve kitaplarımı kaplarım.
B) Kitaplarımın sayfalarını yırtıp gemi yaparım.
C) Kalemlemlerimi işim bittiğinde kalemliğime koyarım.

5

- ▲ Grup çalışmalarının bir plana göre yapılması gerekir.
- ★ Gruptaki üyelerin işbirliği içinde olması gerekir.
- Grup içinde bireysel hareket etmek gerekir.

Yukarıdaki ifadelerden hangileri doğrudur?

- A) ▲ ★ B) ▲ ●
C) ★ ●

6

- Para, alışveriş aracıdır.
- Para olmadan ihtiyaç ve isteklerimizi karşılayamayız.
- Paramızla her gördüğümüzü almalıyız.

Yukarıdaki ifadelerin doğru - yanlış sıralaması nasıldır?

- A) D D D
B) D Y D
C) D D Y



HAYAT BİLGİSİ DENEME SINAVI



7

Emre, Anıl ve Deniz birlikte oyun oynuyorlardı. Emre oyunda mızıkçılık yaptı. Anıl ise yenilgiyi kabul etmedi. Deniz arkadaşlarını sevdiği için onları uyardı. Kuralları yeniden hatırlattı ve oyun oynamaya devam ettiler.

Yukarıdaki anlatıma göre oyun sırasında kurallara uymayanlar hangi seçenekte bir arada verilmiştir?

- A) Emre - Anıl
- B) Anıl - Deniz
- C) Emre - Deniz

9



Ayşe

Ailemizdeki herkes sorumluluğunu bilir.



Fırat

Ailemizdeki herkes birbirinin haklarına saygılıdır.



Seher

Ailemizde iş bölümü yoktur.

Hangi çocuğun ailesini örnek bir aile olarak gösteremeyiz?

- A) Ayşe B) Fırat C) Seher

8

Hangi çocuk için tutumludur diyemeyiz?

- A)  Paramın bir kısmını biriktiriyorum.
- B)  Önce ihtiyacım olanları alıyorum.
- C)  Paramın tamamını harcıyorum.

10

Halamın eşi

Kuzen

Amcamın kızı

Dede

Babamın babası

Enişte

Yukarıdaki eşleştirme doğru yapıldığında oklar nasıl görünür?

A)



B)



C)

