


25 SORU

1. Pisagor, Biruni, Aristo, Macellan Dünya'nınolduğunu ispatlamak için çalışmalar yapmışlardır.

Yukarıdaki boşluğa aşağıdaki kelimelerden hangisi gelmelidir?

- A) düz B) yuvarlak C) büyük


2.  Yandaki dünya modelinde mavi ile gösterilen alanlar hangi katmandır?
- A) Hava B) Kara C) Su




3. Aşağıdaki görsellerden hangisi Dünya'mızın şekline benzemektedir?

- A)  B)  C) 

4. Dünya'nın katmanları ile ilgili verilen bilgilerden hangisi yanlıştır?

- A) Nehirler ve denizler su katmanını oluşturur.
B) Yağmur olayı magma da gerçekleşir.
C) Dünya'mızın bazı katmanını görmemeyiz.

5.  Alperen, hangi duyu organını kullanarak köpeği sevmektedir?

- A)  B)  C) 
- Deri Göz Burun

6. Aşağıdaki özelliklerden hangisi insanları birbirinden ayıran özellikler arasında yer alır?
- A) Uzun boylu olması B) Kıvrıkcık saçlı olması
C) Yüzmeyi çok sevmesi

7. Aşağıdakilerden hangisi yanlıştır?

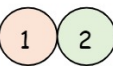
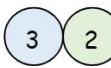
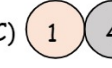
- A) Her birey özel ve değerlidir
B) Farklılıkların olması doğaldır.
C) Farklılığı olanlarla arkadaş olunmaz.

8.  Yandaki yapraklarda yazılanlardan kaç tanesi arkadaşımızda olmasını istediğimiz özelliklerdendir?

- A) 3 B) 4
C) 5

9. 

Yukarıdaki özelliklerden hangileri bizi arkadaşlarımızdan farklı kılar?

- A)  B)  C) 

10.  Bir yerin tepeden kuş bakışı görünüşüne denir.

Yukarıdaki boşluğa aşağıdakilerden hangisi gelmelidir?

- A) kroki B) harita C) plan

11. "mükafat" kelimesinin eş anlamlısı hangi şıkta doğru verilmiştir?
A) Annem bugün beni cezalandırdı.
B) Geç kaldığım için öğretmenim bana kızdı.
C) Ödevlerini yaptığı için ödülünü aldı.

12. Aşağıdaki şıklardan hangisinde alfabetik sıralama yanlış verilmiştir?
A) ı-i-j-k-l B) p-r-ş-t-u
C) e-f-g-ğ-h

13. Aşağıdakilerden hangisi hem hece hem kelimedir?

- A) kın B) iz C) or

14. 

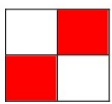


Yukarıdaki kelimeleri sözcük sırasına koyarsak baştan üçüncü sırada hangi kelime olur?

- A) pilav B) pirinç C) pırasa

15.

Bec-e-ri	Man-da-la
Ar-ka-daş	El-div-en

Yukarıdaki kelimelerden doğru hecelenenleri boyarsak nasıl bir görünüm alır?

- A)  B)  C) 

16. Arkadaşlarımı özledim,
Okul açılınca sevindim.
Karantina günleri,
Geri gelmesin dileğim.
Yukarıdaki şiirin ana duygusu nedir?
A) Arkadaş sevgisi B) Okul özlemi
C) Karantina korkusu

17. Aşağıdakilerden hangisi hikaye unsurları arasında yer almaz?

- A) olay B) zaman C) yazar

18. İnşaatçı çalışan babam akşam eve yorgun gelir. Annemin güler yüzü ile karşılanıp bizimle oyunlar oynayınca bütün yorgunluğu geçer. Sobanın yanında neşe ile içtiğimiz çayın kokusu tüm odayı sarar.

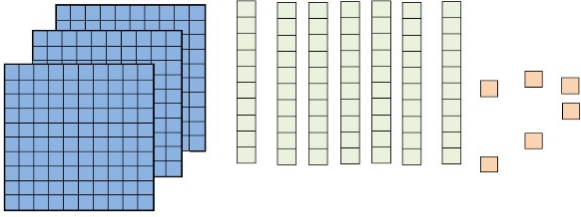
Yukarıdaki metne göre babanın yorgunluğunu alan nedir?

- A) Uyuyup dinlenmesi B) Çay içmesi
C) Ailesi ile vakit geçirmesi

19. Yüzler basamağında 3, birler basamağında 9 olan sayı kaçtır?

- A) 39 B) 390 C) 309

20.



20,21,22. Soruları yukarıdaki görsele göre cevaplayın.

Yukarıda onluk taban blokları ile gösterilen sayının yazılışı ve okunuşu nedir?

- A) 275 = iki yüz yetmiş beş
B) 186 = yüz seksen altı
C) 376 = üç yüz yetmiş altı

21. Yukarıda verilen sayının onlar basamağında hangi rakam bulunur?

- A) 3 B) 7 C) 6

22. Yukarıdaki sayının yüzler basamağındaki rakamın basamak değeri kaçtır?

- A) 300 B) 60 C) 7

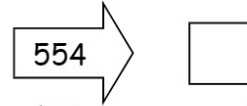
23.

557-309-549- 290-199

Yukarıdaki sayıların büyükten küçüğe sıralaması hangi şıkta doğru verilmiştir?

- A) $557 < 549 < 309 < 290 < 190$
B) $557 > 549 > 309 > 290 > 190$
C) $190 < 290 < 309 < 549 < 557$

24.



Yukarıdaki sayının en yakın yüzlüğe yuvarlanmış hali kaçtır?

- A) 500 B) 550 C) 600

25.

24-30-36-42-?

Yukarıdaki örüntüde soru işareti yerine gelmesi gereken sayı kaçtır?

- A) 46 B) 47 C) 48