

Sınav süreniz 60 dakikadır. Başarılar dilerim.

Puan :



İnsan, güzelliğine yazın kavuşur. Çünkü yaz, engin mavisıyla umut demektir. Güzeldir, güzeli düşünmektir. Sanat ilhamları en çok yazın gelir yoklar kapımızı. Yazın yazılanlar çizilenler daha umut verici, iç açıcı şeylerdir. İnsanlar daha güçlü, daha canlıdır. Çünkü yaz mutluluk kaynağıdır.

1. Bu paragrafın ana düşüncesi aşağıdakilerden hangisidir?

- A) Yaz mevsimi insanlara yaşama sevinci verir.
- B) İnsanın sanatçı olma isteği en çok yazın kendini gösterir.
- C) Mutlu olmak için yaz mevsimini beklemek gerek.
- D) Güneşte bronzlaşmış ten insanı daha güzel gösterir.


Nurbanu, odasındaki kitaplığa kitaplarını koyacaktır. Kitaplığını en alttaki kat 1 olmak üzere sırasıyla numaralandırmıştır. Bu raflara hikâye, şiir, masal kitaplarını ve romanlarını koyacaktır.

Bu raflara konulan kitaplarla ilgili şunlar bilinmektedir:

- Romanlar 2. kata konulmuştur.
- Şiir kitapları, romanların bir alt katındadır.
- Masal kitapları en üst kata konulmuştur.

2. Buna göre aşağıdakilerden hangisi doğrudur?

- A) Şiir kitapları 3. kattadır.
- B) Hikâye kitapları, şiir kitaplarının bir alt katındadır.
- C) Masal kitapları, hikâye kitaplarının bir üst katındadır.
- D) Romanlar, masalların bir alt katındadır.





“de” eki hem hal eki hem de bağlaç olarak kullanılabilir. Hal eki olan “-de” sözcüğe bitişik yazılırken bağlaç olan “de” sözcükten ayrı yazılır.

3. Buna göre “de” aşağıdakilerin hangisinde ayrı yazılmalıdır?

- A) Gagasında bir mektup, kanadında fukur fukur fokurdayan bir şişe taşıyan süper kahramanlardan birini bekliyordu.
- B) Mor çiçeklerle bezeli gül ağacı bile ilk görüşte korku salmıştı içine.
- C) Ben tam onu düşünürken karşıma çıkması hiçde tesadüf sayılmazdı.
- D) Su, tarlalardan yükselen kara kanatlı kuş sürülerinin peşinde koştu.

4. Aşağıdakilerin hangisinde sözcükler sözlükteki sıraya göre dizilmiştir?

- A) Kader – kardeş – kartopu – katı
- B) Sarmaşık – serin – seçim – sur
- C) Pazar – patates – posa – pınar
- D) Zayıf – zerdali – zencefil – zemheri

5. Aşağıda verilen atasözlerinden hangisi diğerlerine göre farklı bir konuya değinmektedir?

- A) Akıl olmayınca ne yapsın sakal?
- B) Akıl akıldan üstündür.
- C) Akıllı köprüyü buluncaya dek deli suyu geçer.
- D) Akıllı düşman akılsız dosttan hayırlıdır.



Yukarıda yer alan kutularda eş anlamlı sözcüklerle zıt anlamlı sözcükler yer almaktadır.

6. Yukarıdaki kutularda yer alan sözcükler eşleştirildiğinde aynı özellikte olanları bir gruba ayırırsak hangi sözcükler dışta kalır?

- A) iri - büyük
- B) konut - ev
- C) hayat - yaşam
- D) şişman - zayıf



Herhangi bir nedenle tamamlanmamış cümlelerin sonuna üç nokta konulur. Örnekler verirken örneklerin devam ettiğini belirtmek için, alıntılarda atlanmış bölümü göstermek için üç nokta kullanılır.

7. Bu bilgilere göre aşağıdaki cümlelerden hangisinde üç nokta yanlış kullanılmıştır?

- A) En sevdiği üç meyve şunlardır: kiraz, çilek, kayısı...
- B) İnsan ister istemez bu konuda...
- C) ... işte o an sanki bambaşka bir insan oldu...
- D) Partide kimler yoktu ki: İnci, Leyla, Berensu, İkranur...

"Hepimizi görmezden gelerek yanındaki-
nin kulağına fısıllı fısıllı bir şeyler söyledi."

Bu cümledeki fısıllı fısıllı ikilemesi, doğada canlı veya cansız varlıkların çıkardığı sesleri taklit ederek ortaya çıkan yansıma sözcüğün tekrarı ile oluşturulmuştur.

8. Aşağıdaki cümlelerin hangisinde kullanılan ikileme benzer şekilde oluşturulmuştur?

- A) Dışarıda pırlıl pırlıl bir hava varken evde oturmayalım.
- B) Fokur fokur kaynayan çaydanlığın etrafında oturmuş, dedemin hatıralarını dinliyorduk.
- C) İki gün sonraki sınavını kazanmak için harıl harıl çalışıyor.
- D) Hasta, günden güne iyileşiyor, etrafındakiyle konuşmaya başlamıştı.

Yağmurlu bir ilkbahar günüydü. Babam kapının ziline basınca heyecanla kapıyı açtım, kocaman sarıldım babama. Babam doğum günü hediyesi olarak kocaman bir paket getirmişti bana. Hemen paketi açtım. İçinden kafesinin içinde gözleri şaşkın şaşkın bakan minicik bir kedi çıktı.

9. Yukarıdaki hikâyede olay nerede geçmektedir?

- A) Evde
B) Parkta
C) Sokakta
D) Köyde



Uğur böcekleri, iyi uçarlar, rahatsız edildiklerinde yere düşerler ve çok defa bacaklarını vücuda toplayarak ölü taklidi yaparlar. Kışı birçoğu bir arada ergin olarak geçirirler. İlkbaharda yumurtalarını yaprakların altına ya da kabukların yarıklarına bırakırlar. Larvaları yumuşak derili, çok defa renkli desenli, çok hareketlidir.

10. Bu yazıya en uygun başlık aşağıdakilerden hangisidir?

- A) Uğur Böceklerinde Beslenme
B) Uğur Böceklerinde Çoğalma
C) Uğur Böceklerinin Yaşam Süresi
D) Uğur Böceklerinin Özellikleri

Voleybol, iki direk arası-
na gerilmiş bir filenin iki
tarafında yer alan iki grup
arasında elle oynanan bir
oyundur.



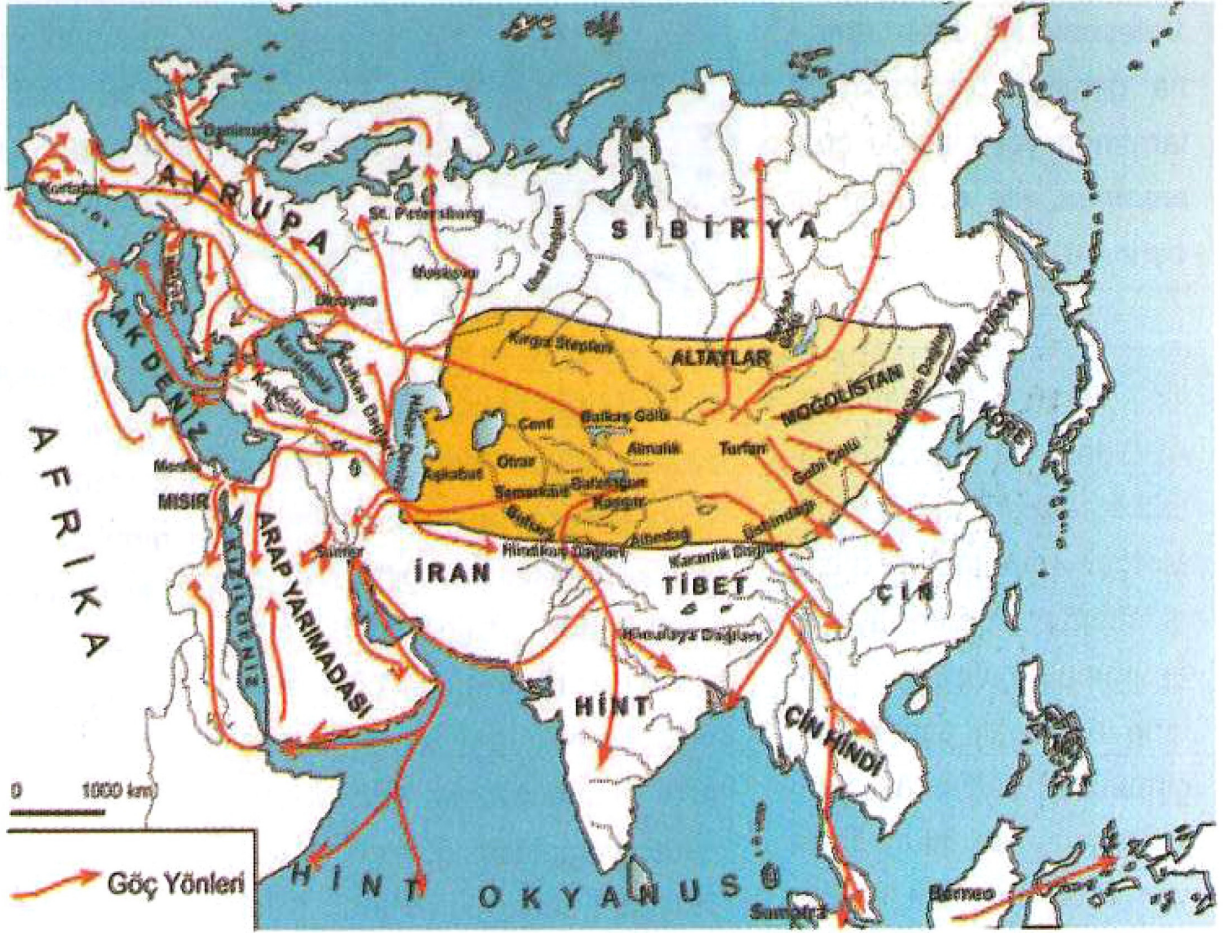
Voleybolun öyküsü,
Türkiye'de 1919'da
başladı. Bu yıllarda
Türkiye'de bulunan
yabancı gemicilerin
kendi aralarında yap-
tıkları maçlar yoluyla
voleybolla tanıştık.
Beden eğitimi öğret-
menlerinin ilgisini çe-
ken bu yeni oyun kısa
sürede öğrenciler ara-
sında sevildi.

İlk olarak 19. yüzyılda
ABD'de genç bir beden eği-
timi öğretmeni olan William
Morgan tarafından düşü-
nülmüştür. Morgan, aynı iş
ortamında çalıştığı insan-
ların eğlenceli zaman ge-
çirmelerini sağlamak, aynı
zamanda da onları fazla
yormadan hareketli bir spo-
ra yönlendirmek istiyordu.

İlk başlarda saha büyüklüğü ve
oyuncu sayısı kesin değildi. Bir
araya gelen insanlar iki gruba ay-
rılarak istedikleri gibi oynuyorlardı.
Oyunun adı önceleri "Mintonette"
idi. Oyuna duyulan ilgi gittikçe art-
ınca kurallar belirlenmeye baş-
landı. Sonra oyunun adı voleybol
olarak değiştirildi. Zamanla oyun
dünyanın birçok ülkesinde bilinir
ve oynanır oldu.

11. Bu bilgilerden hareketle aşağıdakilerden hangisi söylenemez?

- A) Voleybol, topla oynanan bir grup oyunudur.
- B) Voleybolun dünyada ortaya çıkışı ile ülkemizde oynanmaya başlaması aynı yüzyılda olmuştur.
- C) Voleybol, Amerikalı bir beden eğitimi öğretmeni tarafından bulunmuştur.
- D) İlk zamanlarda kuralları olmadan oynanan voleybol sonradan kuralları oluşturularak oynanmıştır.



Eski Türklerin tarihi göçlerden önce oturdukları ana yurdun neresi olduğu problemi, geçtiğimiz yüzyıldan itibaren tartışılan bir konudur. Batılı araştırmacıların çoğu, problemi kendi uğraştıkları bilim dalları açısından ele aldıklarından bu konuda farklı sonuçlara varmışlardır. Tarihçiler Çin kaynaklarına dayanarak Altay Dağları'nı ve etrafını Türklerin ilk ana yurdu olarak kabul etmişlerdir. Sanat tarihçileri Tanrı Dağları – Kuzeybatı Asya sahasını ana yurt olarak belirtmişlerdir. Bazı kültür tarihçileri ise Baykal Gölü'nün güneybatısını ana yurt olarak göstermişlerdir.

12. Bu metin aşağıdaki sorulardan hangisine cevap olarak verilmiştir?

- | | |
|---|-----------------------------------|
| A) Türklerin Avrupa'ya geçişi nasıl olmuştur? | B) Türkler kimlerle savaşmıştır? |
| C) Türkler göçebe bir toplum mudur? | D) Türklerin ilk yurdu neresidir? |

"İş yerine gittiğimizde bizi çok soğuk karşıladı." cümlesinde "soğuk" sözcüğü mecaz anlamlıdır.

D

Y

"Bu işte mutlaka onun parmağı vardır." cümlesinde "parmak" sözcüğü mecaz anlamlıdır.

"Akşamları yatmadan önce elime krem sürüyorum." cümlesinde "el" sözcüğü gerçek anlamlıdır.

D

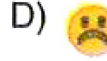

Y

D

Y



13. Bu bilgilere göre aşağıdakilerden hangisi doğrudur?



Sözcükler zaman içinde ihtiyaçlar doğrultusunda yeni anlamlar kazanabilir. Sözcük gerçek anlamından uzaklaşarak mecaz ya da terim anlam özelliği kazanabilir. Bu sözcükler zaman zaman kendilerine bilim, spor, meslek ve sanat dalları içinde yer bulurlar. Bu alanlara özgü kazandığı anlamı o sözcüğün "terim anlamı"dır.

14. Buna göre aşağıdaki cümlelerde altı çizili sözcüklerden hangisi terim anlamlıdır?

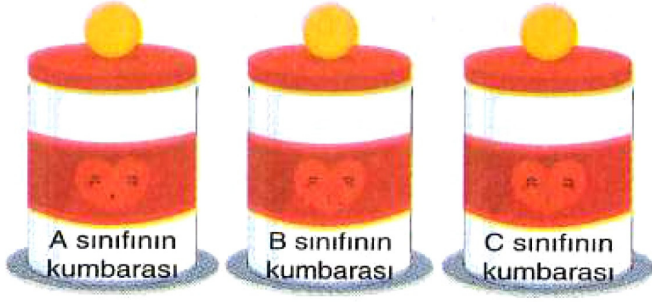
- A) Bugünkü matematik dersinde öğretmenimiz yeni bir konuya geçti.
- B) Çok çalıştığı için kitap okumaya pek vaktinin kalmadığını söylüyor.
- C) Kafiye ve redifi olmayan şiirler bence emek harcanmadan yazılan şiirlerdir.
- D) Sağlık problemleri sebebiyle büyük şehre tayinini istemiş.

- I. Belirli bir tarih bildiren ay ve gün adlarına gelen ekleri ayırmak için kullanılır.
- II. Soru eki veya soru içeren cümle veya sözlerin sonuna konur.
- III. Yazıda satır başına alınan konuşmaları göstermek için kullanılır.
- IV. Birbiri ardınca sıralanan eş görevli sözcüklerin arasına konur.

15. Bu açıklamalara göre aşağıdakilerin hangisinde verilen kurallardan birinin örneği yoktur?

- A) Ahmet, bu dünyada benim tanıdığım en dürüst ve en adaletli çocuktur.
- B) Öğretmen yeni gelen öğrenciye sordu:
– Adın ne?
– İnci.
- C) Bu akşam konsere hep beraber mi gideceksiniz?
- D) Başvurular 15 Ocak'a kadar devam edecekmiş.

- **TÜRKÇE** Testi bitti. **MATEMATİK** Testine geçebilirsiniz.



Bir okulda 4 - A, 4 - B ve 4 - C sınıflarında okuyan öğrenciler kardeş okullarının ihtiyaçlarını gidermek için kumbara yapıp para biriktirmeye karar veriyorlar. Bir ay sonunda 4 - A sınıfı; 4 - B sınıfından 980 TL daha fazla, 4 - C sınıfından 83 TL daha az para biriktirmiştir.

16. 4 - A sınıfının kumbarasında 1500 TL para olduğuna göre bu üç sınıfın bir ay boyunca biriktirmiş oldukları toplam para miktarı kaç TL'dir?

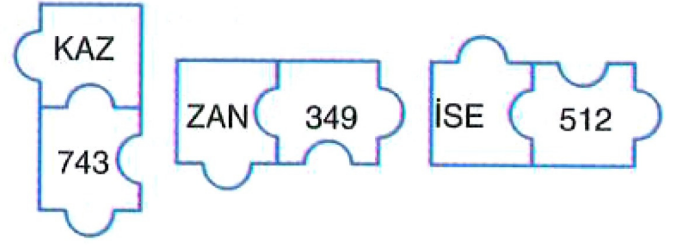
- A) 5397 B) 4200 C) 3603 D) 2900



Basamaklarını oluşturan tüm rakamlar aynı olup basamaklarındaki rakamların sayı değerleri toplamı 48 olan altı basamaklı doğal sayının herhangi bir basamağındaki rakamı kaçtır?

17. Buse Öğretmen'in öğrencilerine sorduğu bu sorunun doğru cevabı aşağıdakilerden hangisidir?

- A) 9 B) 8 C) 7 D) 6



Yukarıdaki her bir kelime eşleştiği sayı ile aynı kurala göre şifrelenmiştir.

18. Buna göre;

S A Z

x i Z işleminin sonucu kaçtır?

- A) 6523 B) 7018
C) 7579 D) 8022

- 435 786 sayısının binler basamağında rakamı bulunmaktadır.
- 400 708 sayısında basamak değerleri birbirine eşit olan rakamıdır.
- 108 263 sayısının çift olan rakamlarının sayı değerleri toplamı'dir.
- 927 143 sayısının binler bölüğünde bulunan tek rakamların çarpımı

Canan'a öğretmeni 10 tane şeker verip yukarıdaki boşlukları doldurmasını istiyor. Canan, boşluklara verdiği her doğru cevap için öğretmeninden 2 şeker alıp, her yanlış cevap için ise öğretmenine 1 şeker vermektedir.

19. Canan boşluklara sırasıyla; 3 - 0 - 20 - 189 cevaplarını verdiği göre son durumda Canan'ın elinde kaç tane şeker olur?

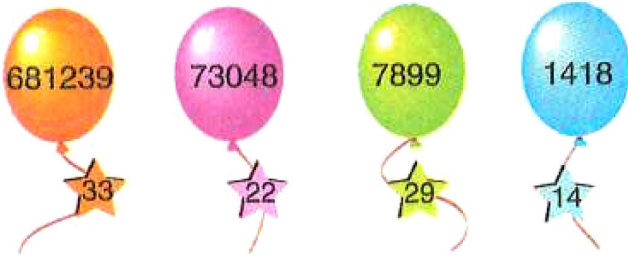
- A) 10 B) 9 C) 8 D) 7



20. Yukarıda aynı okula giden Ayşe, Sevgi ve Zeynep'in okul ile aynı cadde üzerinde bulunan evlerinin krokisi verilmiştir.

Ayşe, okula gitmek için 1620 metre yol yürürken; Zeynep, Ayşe'nin yarısı kadar yol yürüyerek okula varmaktadır. **Sevgi, en yakın arkadaşı Ayşe'ye gitmek için 560 metre yol yürüdüğüne göre okula gitmek için en az kaç metre yol yürümesi gerekir?**

- A) 1060 B) 1040 C) 1020 D) 1000



Yukarıda verilen bulutların içine yazılan doğal sayıların sayı değerleri toplamı altlarında verilen yıldızlara yazılmıştır.

21. Her yıldızın doğru balonun altında olması için hangi iki yıldızın yer değiştirmesi gerekir?


- A) — B) —
C) — D) —

22. \Rightarrow En yakın yüzlüğe yuvarlandığında 400 olan en büyük doğal sayı

\Rightarrow En yakın onluğa yuvarlandığında 50 olan en küçük doğal sayı ise x işleminin sonucu kaçtır?

- A) 22 000 B) 21 500
C) 21 000 D) 20 205

Standart kağıt boyutları tasarımcılara, matbaacılara, basın ve yayına ilgili diğer kişilere, ürün özellikleri konusunda anlaşabilmek ve maliyetleri düşük tutmak için uygun ve verimli yol sağlar.



A türündeki kağıt boyutları büyükten küçüğe doğru;

A0, A1, A2, A3, A4, A5, A6, A7 ve A8 şeklindedir. Bu sıralamaya göre her kağıt bir sonraki kağıdın iki katı büyüklüğündedir. Örneğin; A3 boyutundaki bir kağıt, 2 tane A4 kağıdı büyüklüğündedir.

23. Buna göre A1 boyutundaki bir kağıdın büyüklüğü A5 boyutundaki kağıdın kaç katıdır?

- A) 2 B) 4 C) 8 D) 16

Bir alışveriş merkezinin sinema salonu, her birinde 18 koltuk bulunan toplam 15 basamaktan meydana gelmiştir.

Vizyona yeni giren bir film için;

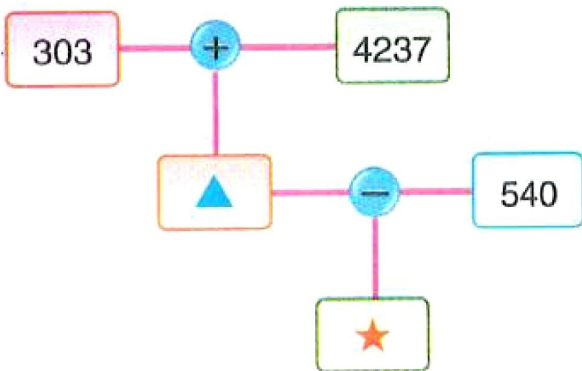
Tam bilet ücreti → 25 TL

Öğrenci bilet ücreti → 20 TL'dir.

Bir okul her biri 25 kişilik olan on sınıfı bu filmi izlemeye öğretmenleri ile beraber gönderdiğinde salonun tamamı dolmuştur.

24. Sinema salonunda bu okuldaki öğretmen ve öğrencilerden başka kimse olmadığına göre okulun bu film için ödemiş olduğu miktar kaç TL'dir?

- A) 5000 B) 5500
C) 6000 D) 6500



25. Yukarıda verilen şemada ★ sembolü yerine yazılması gereken doğal sayının rakamları çarpımı kaçtır?

- A) 0 B) 2 C) 4 D) 6

$$67\ 324 < \blacksquare 7324$$

$$21\ 198 > 21 \blacktriangle 43$$

26. Yukarıda verilen karşılaştırmalarda ■ yerine gelebilecek en küçük rakam ile ▲ yerine gelebilecek en büyük rakamın toplamı kaçtır?

- A) 7 B) 8 C) 9 D) 10

27. Bir yerin alanını belirten terime yüz ölçümü denir. Aşağıda 4 ilimize ait yüz ölçümü verilmiştir.

ADANA



14256 km²

KİLİS



1239 km²

DENİZLİ



11716 km²

TRABZON



4495 km²

- Buna göre, bu dört ilimizin yüz ölçümüne göre küçükten büyüğe göre sıralanışı aşağıdakilerden hangisidir?

- A) Adana - Denizli - Trabzon - Kilis
B) Denizli - Trabzon - Kilis - Adana
C) Trabzon - Kilis - Adana - Denizli
D) Kilis - Trabzon - Denizli - Adana



28. Yukarıda verilen lokomotif ile vagonları üzerinde bulunan rakamları birer kez kullanarak oluşturulabilecek altı basamaklı en büyük tek doğal sayının 1 eksiği kaçtır?

- A) 754 100 B) 754 109
C) 754 200 D) 754 209

$\leftarrow A \rightleftharpoons B \rightarrow$ ise $A + B$ şeklinde bir işlem tanımlanıyor.

29. A: Beş basamaklı en büyük doğal sayı
B: Dört basamaklı rakamları farklı en küçük doğal sayı olmak üzere $\leftarrow A \rightleftharpoons B \rightarrow$ ifadesinin değeri kaçtır?

- A) 99 999 B) 100 999
C) 101 022 D) 101 233



Binler bölümündeki sayı 1, 5 ve 4 rakamlarından oluşan en büyük üç basamaklı doğal sayıdır.

Birler bölümündeki sayı sıfırdan farklı en küçük iki rakamı kullanarak oluşturulabilecek iki basamaklı en küçük doğal sayıdır.



30. Sevgi ve Duygu'nun birlikte oluşturdukları 6 basamaklı doğal sayının okunuşu aşağıdakilerden hangisidir?

- A) Beş yüz kırk bin yüz yirmi
B) Beş yüz kırk bir bin on iki
C) Elli dört bin yüz on iki
D) Elli dört bin yüz yirmi

- **Test bitmiştir. Yanıtlarınızı kontrol etmeyi unutmayınız**