
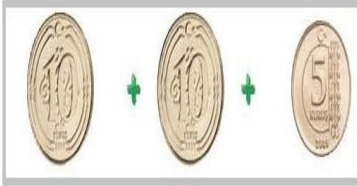


Para miktarlarını eşleştirelim




8 in 5 katının 27 eksiği kaçır?

- A) 17 B) 13 C) 23

Yukarıdaki para miktarının $\text{₺} 34$ fazlası kaç liradır?

- A) 49
B) 59
C) 39



Yukarıdaki görselin çeyreği kaç tanedir?

- A) 7 B) 8 C) 9



Yukarıdaki örüntüde ? yerine hangileri gelir?

- A) \blacklozenge \ast
B) \ast \heartsuit
C) \blacklozenge \heartsuit

34 liranın 10 eksiğinin dört arkadaş paylaşırsa her birinin kaç lirası olur?

- A) 4 B) 5 C) 6

Toplama işlemlerini yapalım.

$57 + 5 = \underline{\quad}$ $41 + 6 = \underline{\quad}$

$69 + 8 = \underline{\quad}$ $37 + 9 = \underline{\quad}$

$88 + 3 = \underline{\quad}$ $79 + 4 = \underline{\quad}$

Sayıları küçükten büyüğe sıralayalım.

56, 45, 87

 / /

Sayıların onluk ve birliklerini yazalım.

78 ⇒

65 ⇒

36 ⇒

Sayıların en yakın onluğunu yazalım.

24→

35→

56→

87→


29→

75→

91→

42→

Saatin kaç gösterdiğini yazalım.



Çıkarma işlemlerini yapalım.

$65 - 3 = \underline{\quad}$ $52 - 4 = \underline{\quad}$

$91 - 2 = \underline{\quad}$ $84 - 5 = \underline{\quad}$

$45 - 6 = \underline{\quad}$ $73 - 7 = \underline{\quad}$

Sayıların okunuşlarını yazalım.

43→

61→

94→

55→

Para miktarlarını yazalım.

₺ 20

₺ 50

₺ 10

₺ 5

₺ 50

Örüntüleri ilerletelim.



Saatin kaç gösterdiğini yazalım.

