

Teraziler dengede olacak şekilde sayıları yerleştirelim.

$$\boxed{10} + \boxed{2} \quad \boxed{8} + \boxed{4} \quad \boxed{8 - 4 - 2 - 10}$$



$$\boxed{} + \boxed{} \quad \boxed{} + \boxed{} \quad \boxed{18-11-10-17}$$



$$\boxed{} + \boxed{} \quad \boxed{} + \boxed{} \quad \boxed{45-6-39-0}$$



$$\boxed{} + \boxed{} \quad \boxed{} + \boxed{} \quad \boxed{34-29-42-34}$$



$$\boxed{} + \boxed{} \quad \boxed{} + \boxed{} \quad \boxed{10-40-60-30}$$



$$\boxed{} + \boxed{} \quad \boxed{} + \boxed{} \quad \boxed{21-22-23-20}$$



$$\boxed{} + \boxed{} \quad \boxed{} + \boxed{} \quad \boxed{68-9-2-75}$$



$$\boxed{} + \boxed{} \quad \boxed{} + \boxed{} \quad \boxed{39-60-59-40}$$




70 kg cevizin 28 kilogramı satılınca geriye kaç kg ceviz kalır?

- A) 43 B) 42 C) 41


Arda'nın kilosunu 32 kg, Aslı'nın kilosunu Arda'nın kilosundan 5 kg eksiktir. Arda ve Aslı'nın kiloları toplamı kaçtır?

- A) 49 B) 59 C) 69



Yukarıdaki yaprak sayısının onluk ve birlikle gösterimi ile en yakın onluğu hangi seçenekte doğru verilmiştir?

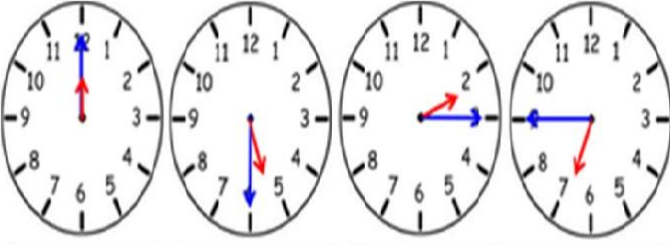
- A) 7 onluk + 6 birlik -80
B) 5 onluk + 7 birlik -60
C) 6 onluk + 7 birlik -70



Yukarıdaki ineklerin ayak, kulak, göz ve kuyruk sayıları toplamı kaçtır?

- A) 24 B) 27 C) 30


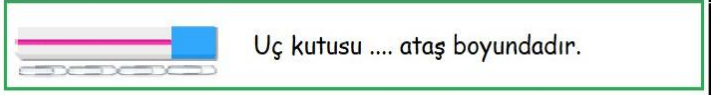
Verilen zamanların öğleden önce ve öğleden sonralarını yazalım.




.	.	.	.
.	.	.	.

Boşluklara uygun sayıları yazalım.


Matematik Tekrar 43



Çiçeklerin sıklık ve çetele tablolarını oluşturalım.



1	1
1	1
1	1



1	1	1
1	1	1
1	1	1

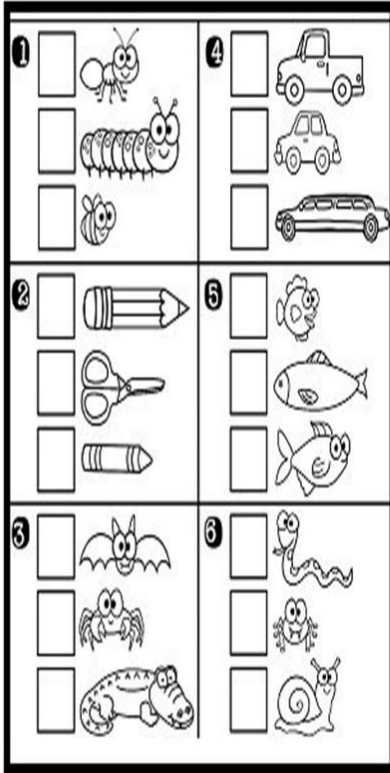
Çetele Tablosu

1	
1	
1	

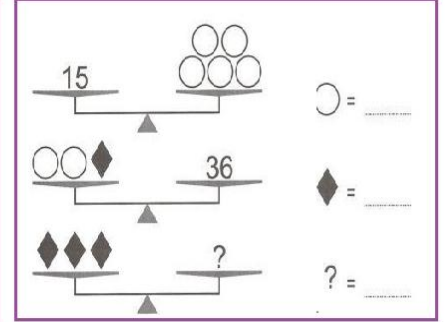
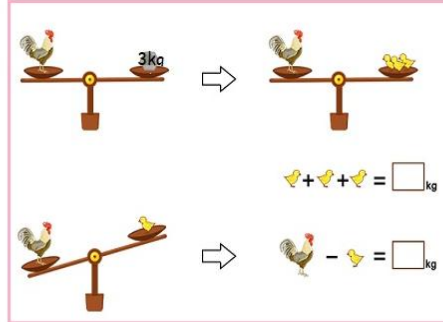
Çetele Tablosu

1	
1	
1	

Kütlesi en fazla olan görsele ✓ atalım.



Boşlukları dolduralım ve problemleri çözelim.



Ali 'nin kütlesi 28 kg'dır. Ahmet ' in kütlesi Ali 'nin kütlesinden 7 kg fazla olduğuna göre ikisinin kütleleri toplamı kaçtır?

Bir kasa çilek 9 kg' dır. Manav Mehmet 5 kasa çilek aldığına göre kaç kg çilek almış olur?

90 kg toz şekerden önce 23 kg daha sonra 19 kg satılmıştır. Geriye kaç kg toz şeker kalmıştır?

50 kg un 5 kg 'lık paketlere koyulmuştur. Kaç tane paket elde edilmiş olur?